

Код /шифр участника

М-9-1

БЛАНК ЗАДАНИЙ

муниципального этапа всероссийской олимпиады школьников
по ИСТОРИИ

2022/2023 учебный год

9 класс

60

II место

Общее время выполнения работы – 180 минут.
Максимальное количество баллов – 100.

5

Задание 1. Выберите один правильный ответ. Ответы впишите в таблицу.

1.1. Какая из указанных мер относится к реформам периода правления Алексея Михайловича?

- А) отмена кормлений Б) создание первого общерусского Судебника
В) введение рекрутской повинности Г) прикрепление посадских людей к посадкам

1.2. Кто из европейских правителей был современником Ивана Грозного?

- А) Карл V Габсбург Б) Хлодвиг В) Людовик XIV Г) Альфред Великий

1.3. В каком древнерусском городе (за исключением Киева) были возведены Золотые ворота?

- А) Владимир Б) Великий Новгород В) Москва Г) Рязань

1.4. Кто из указанных правителей никогда не бывал за пределами границ Руси / России?

- А) Петр I Б) Михаил Федорович В) княгиня Ольга Г) Екатерина II

1.5. Кому из указанных исторических деятелей посвящены строки из «Записки о древней и новой России» Н.М. Карамзина?

«<...>, быв до 35-ти лет государем добрым и, по какому-то адскому вдохновению, возлюбив кровь, лил оную без вины и сек головы людей, славнейших добродетелями. Бояре и народ во глубине души своей, не дерзая что-либо замыслить против венценосца, только смиренно молили Господа, да смягчит ярость цареву — сию казнь за грехи их!»

- А) Иван III Б) Петр I В) Алексей Михайлович Г) Иван IV

1.1. +	1.2. +	1.3. +	1.4. +	1.5. +
Г	А	А	Б	Г

Максимальное количество баллов – 5.

6

Задание 2. Выберите несколько правильных ответов. Ответы впишите в таблицу.

2.1. Какие из указанных событий произошли в период Северной войны?

- А) Гангутское сражение
- Б) взятие Азова русской армией
- В) взятие Нарвы русской армией
- Г) Астраханское восстание
- Д) восстание Степана Разина
- Е) заключение Кардисского мирного договора

2.2. Выберите из списка современников:

- А) Екатерина II
- Б) Карл Маркс
- В) Уильям Шекспир
- Г) Христофор Колумб
- Д) Ричард I Львиное Сердце
- Г) Франсуа-Мари Вольтер

2.3. Кто из указанных правителей был избран на престол Земским собором?

- А) Василий II Темный
- Б) Михаил Федорович
- В) Борис Годунов
- Г) Петр I
- Д) Екатерина II

2.4. Какие из указанных категорий населения существовали в России в первой половине XVII в.? А) черносошные крестьяне Б) холопы В) приписные крестьяне Г) мещане Д) разночинцы Е) помещики


2.1.	2.2.	2.3.	2.4.
А В Г + 2	А Г + 2	В Б + 2	Е В 0

Максимальное количество баллов – 8.

Задание 3. Укажите, по какому принципу образован ряд. Дайте максимально точный ответ



0



0

Определите, какое из изображений лишнее? Укажите букву, которой обозначено это изображение, и объясните, почему оно является лишним.

Буква	Объяснение
Ж	Все иные более известные метромии были основаны в период раздробленности, кроме Колыра Г, созданный в XVI веке.

Впишите в таблицу названия архитектурных памятников, запечатленных на изображениях:

А	
Б	
В	
Г	
Д	Спас Покрове на Кривые

Максимальное количество баллов - 9

Задание 4. Установите соответствие между правителями Российского государства и территориями (городами), которые были присоединены в годы их правления

3

	Правители		Территории
1	Василий III	А	Левобережная Украина
2	Иван IV	Б	Новгородская земля, Вятка, Тверь
3	Михаил Федорович	В	Восточная Сибирь
4	Иван III	Г	Псков, Рязань, Смоленск
5	Алексей Михайлович	Д	Казань, Астрахань

1	2	3	4	5
Г +	В -	Д -	Б +	А +

Максимальное количество баллов - 5.

Задание №5. В 2022 году исполняется 410 лет освобождению Москвы от интервентов Вторым народным (земским) ополчением. Ниже приведены исторические факты (положения) некоторые, из которых относятся к созданию и деятельности Второго ополчения. Заполните таблицу, указав порядковые номера положений, характеризующих историю Второго ополчения, а также номера фактов, имеющих отношение к истории Первого ополчения. Обратите внимание, что одно утверждение не связано с историей ополчений и является лишним.

6

- 1) Одним из руководителей ополчения был купец и земский староста.
- 2) После убийства одного из руководителей ополчения произошел его распад.

- 3) Формирование ополчения началось в Рязани.
- 4) В Ярославле было сформировано правительство – «Совет всея земли».
- 5) На роль военного руководителя ополчения был приглашен князь Дмитрий Пожарский.
- 6) Важную роль в ополчении играли казаки Ивана Заруцкого.
- 7) Одним из военных предводителей ополчения был воевода Прокопий Ляпунов.
- 8) Существенную помощь русским войскам оказывали наемные шведские отряды.
- 9) Центром формирования ополчения с самого начала был Нижний Новгород.
- 10) Ополчение нанесло поражение войску гетмана Ходкевичу, шедшему на помощь польскому гарнизону столицы.

Первое ополчение	Второе ополчение
8 8 6 2	5 1 0 3 4 1

Максимальное количество баллов – 9.

Укажите номер утверждения, которое является лишним, и назовите имя русского правителя периода Смуты, к дипломатической и военной политике которого оно относится

Цифра	7
Имя	Алексей Михайлович

Максимальное количество баллов – 11.

Задание №6. Расположите в хронологической последовательности указанные события зарубежной истории. Внесите буквенные обозначения событий в приведенную таблицу.

- А) Начало Реформации в Германии
- Б) Разгром испанской «Непобедимой армады»
- В) Завоевание Тевтонским Орденом Пруссии
- Г) Взятие Бастилии и начало революции во Франции
- Д) Первый крестовый поход
- Е) Падение Западной Римской империи

0

Е +	А +	Б	В	А	Г
-----	-----	---	---	---	---

Максимальное количество баллов – 6.

Задание 7. Ознакомьтесь с фрагментом исторического документа и ответьте на предложенные вопросы.

6

«Добавлю здесь немного о совсем простых манерах царя. Когда он располагался в саду, то всегда отправлялся спать на яхту, стоящую на реке в 400 шагах от сада. Хозяин яхты рассказал мне, что он обыкновенно приходил в 11 часов, никем не сопровождаемый, раздевался один, никогда не хотел пользоваться лучшей кроватью, но всегда ложился в самую низкую, и что весь его наряд состоял из грубого ночного матросского колпака, пары домашних туфель, подошвы которых были подкованы железными гвоздями. Он всегда оставлял двери открытыми, не боясь никого. Он обычно поднимался в семь часов утра и, ввиду отсутствия гребня, всегда пользовался гребнем хозяина яхты, голландца по происхождению. С ним, перед тем как сойти на берег, он всегда выкуривал по трубке табака. Он часто разговаривал с ним по целому часу, причем исключительно о навигации. Сначала

хозяин хотел титуловать его Величеством, но он был этим разгневан и сказал, что называть его нужно только капитаном. Когда он на корабле, то работает как матрос, взбираясь на мачты, с руками, выпачканными в дегте. За эти дни, проведенные в Пиллау, понадобилось большое количество пороха, серы, селитры, угля и других материалов для устройства фейерверка, в чем он участвует собственноручно. Кажется, у него есть все чувства честного человека. Верят, что Его Светлость Курфюрст может рассчитывать на его дружбу, пока он жив, поскольку полагают, что он очень чувствителен к тому, что было сделано ради него. Он обычно одевается по-матросски, в какой одежде я и видел его за столом у Его Светлости Курфюрста».

Вопросы	Ответы
Назовите историческое событие, часть которого описана в документе	Великое Поляство
Укажите имя и отчество (или порядковый номер), а также годы правления российского правителя, упомянутого в тексте	Пётр I 1682-1725гг.
	1682-1725гг. *
Укажите название государства, правителем которого был упомянутый в тексте курфюрст	Пруссия
Укажите современное название упомянутого в тексте немецкого города	

1
1
2
2

Максимальное количество баллов – 8.

10

Задание №8. Определите пропущенные в тексте слова или словосочетания, обозначенные порядковыми номерами. Необходимые вставки впишите под соответствующими номерами в помещённую ниже таблицу.

«Активизация Пруссии во главе с королем (1 – имя монарха), имевшим далеко идущие завоевательные планы в Центральной и Восточной Европе, привела к Семилетней войне (2 – годы начала и завершения войны) гг., в которой Россия вместе с Австрией, Францией, Швецией и Саксонией выступала против Пруссии и (3 – название государства). Русские войска вступили в (4 – название провинции Прусского королевства), заняли ряд городов и разбили отборную 40-тысячную прусскую армию под Кенигсбергом в местечке (5 – название населенного пункта). В этом сражении, как и в битвах русско-турецкой войны, проявились талант молодого генерала (6 – фамилия генерала), мужество и стойкость солдат. В битве при Кунерсдорфе (1759 г.) русские войска под командованием фельдмаршала П.С. Салтыкова разбили армию самого (1 – имя монарха). После этого русские войска вошли в (7 – название столицы Пруссии). Пруссия

стояла перед полным разгромом. Но смерть (8 – имя российской императрицы) и вступление на престол (9 – имя российского императора), привели к радикальному повороту внешнеполитического курса России: с Пруссией был заключен мир, ей возвращались все завоеванные территории. Более того, Россия превратилась в союзника Пруссии в войне с (10 – название европейского государства). Дворцовый переворот в июне (11 – год) г. аннулировал этот план.

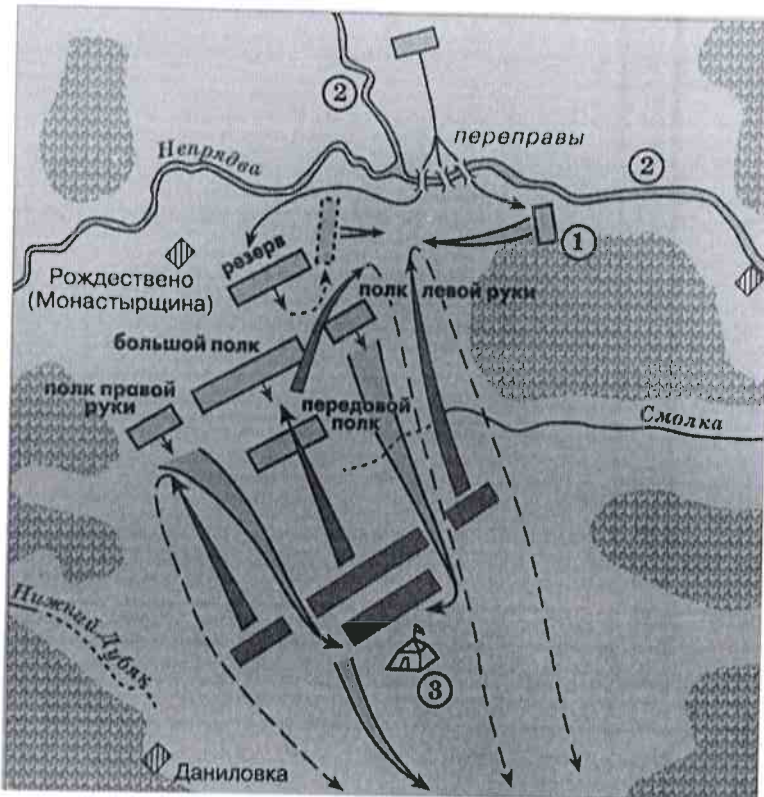
В начале своего правления Екатерина II хотела сохранить целостность и суверенитет Польши, обеспечив там влияние России с помощью возведенного при ее поддержке на королевский трон в 1764 г. (12 – имя польского короля). ... Пруссия, имея планы территориального раздела (13 – полное название восточноевропейского государства), нуждалась в союзе с Россией и не желала других союзов. Англия, в свою очередь, не хотела предоставлять России помощь в возможной войне с (14 – название государства)» (Н.В. Козлова).

1	Фридрих XIV	—	8	Елизавета Петровна	1
2	1756 - 1762гг.	+ 1	9	Пётр III	1
3	Англия	+ 1	10	Австрия	—
4			11	1762г.	+ 1
5			12	Станислав Понятовский	1
6	Румицев	1	13	Речь Посполитая	1
7	Берлин	1	14	Османская Империя	+ 1

Максимальное количество баллов – 14.

Задание №9. Внимательно изучите карту-схему, характеризующую одно из важнейших событий отечественной истории, и определите, какие из предложенных утверждений соответствуют действительности, а какие - нет. Ответы впишите в таблицу.

6



1. Событие произошло у слияния Днепра и Непрядвы.
2. Полком, обозначенным на схеме цифрой «1», командовал Владимир Андреевич Серпуховской.
3. В сражении принимали участие войска единого Российского государства.
4. Русское войско незадолго до начала битвы переправилось через реку, навязав противнику сражение.
5. Во главе русского войска стоял московский князь – внук Ивана Калиты.
6. Противником русского войска в битве была объединенная армия ордынцев и Великого княжества Литовского.
7. Битва состоялась в последней трети XIV в.
8. Место сражения располагалось на территории Московского княжества.

Верно	Неверно
5 6 9 2 4 + - - + +	1 3 7 + + -

Укажите, какое историческое событие изображено на карте-схеме.

Ответ: Куликовская битва 1380г.

Максимальное количество баллов – 9.

18

Задание 10. Вам предстоит работать с высказываниями историков и

современников о событиях и деятелях отечественной истории. Выберите из них одно, которое станет темой Вашего сочинения-эссе. Ваша задача – сформулировать собственное отношение к данному утверждению и обосновать его аргументами, представляющимися Вам наиболее существенными.

При выборе темы исходите из того, что Вы:

1. Ясно понимаете смысл высказывания (не обязательно полностью или даже частично быть согласным с автором, но необходимо понимать, что именно он утверждает).
2. Можете выразить свое отношение к высказыванию (аргументировано согласиться с автором либо полностью или частично опровергнуть его высказывание).
3. Располагаете конкретными знаниями (факты, статистика, примеры) по данной теме.
4. Владаете терминами, необходимыми для грамотного изложения своей точки зрения.

При написании работы постарайтесь исходить из того, что Жюри, оценивая Ваше эссе, будет руководствоваться следующими критериями:

1. Обоснованность выбора темы, постановка **проблемы** и формулировка **трёх задач**, которые ставит в своей работе участник.
2. Творческий характер восприятия темы, ее осмысления.
3. Грамотность использования исторических фактов и терминов.
4. Четкость и доказательность основных положений работы (содержание всех поставленных задач должно быть раскрыто).
5. Знание различных точек зрения по избранному вопросу.
6. Выводы (**три вывода по поставленным задачам и обобщение по проблеме**).

Темы эссе

1. «Зная, какой характер носила эта борьба, с каким намерением приходили шведы, мы поймем то религиозное значение, которое имела Невская победа для Новгорода и остальной Руси» (С.М. Соловьев)
2. «Иван Данилович успешно использовал Орду для борьбы с политическими противниками, в первую очередь с тверскими князьями» (А.А. Горский)
3. «На русском престоле оказался человек, который изо всех сил стремился превратить Россию в полноправного политического игрока на европейском поле. И при этом хорошо понимал, что сделать это без реформирования важнейших сторон государственной жизни просто невозможно» (А. Трофимов о царе Алексее Михайловиче)
4. «В военном отношении наше участие в Семилетней войне имеет громадное значение... война, веденная армией, руководимой генералами предшествовавшей эпохи, послужила школой для таких будущих деятелей, как Румянцев, Панин, Прозоровский, Суворов» (А. К. Байов).

- 5. «Ее правление вошло в историю как еще одна модернизация России вслед за Петром I, а проводимая политика — как политика просвещенного абсолютизма. В результате этой политики была создана законная, сословная, самодержавная дворянская монархия» (Орлов А.С., Георгиева Н.Г. о Екатерине II)
- 6. «Не будь Крымской войны, обнаружившей, что Россия не в состоянии соревноваться с европейскими державами, крепостное право могло продержаться еще лет 30» (С.Е. Эрлих)
- 7. «Скоротечность, успешность и относительно низкие потери, понесенные советскими войсками в Кенигсбергской операции против противника, блокированного в сильно укрепленном оборонительном районе, говорят о том, что она была проведена в соответствии с одним из принципов суворовской науки — побеждать не числом, а умением» (Г.В. Кретьинин)

Максимальное количество баллов – 25. Я полностью согласен с мнением Орлова А.С., Георгиева Н.Г. (София Абушита Фредериха Ангальт-Вердского)

5. Екатерина II (1762-1796) ^{также} ^{особо} ^{тило} Петра I, она имела свой пророческий план при великом троне, свергнув Петра III. Во многом она ^{на} ^{попыталась} ^{придерживаться} к идеям просвещения. Она общалась с многими иностранными философами. В их число входил сам Фридрих-Мария Вольтер. Однако стоит отметить, что ограничивает свои взгляды на конституции и не все её реформы относятся к просвещению. Первым проявлением Екатерины пришло название периода Просвещенного абсолютизма. В честь за

Цели просвещения: свобода личности, равенство, ограничение самодержавия монарха.

Ет. Императрица понимала, что страну надо реформировать и для этого нужен отбор законов татар. Так в 1767г. Она создала Уложенную комиссию, в которую входили представители из разных слоев населения. К сожалению, из-за разногласий и разногласий. Вскоре она реформировала Уложенную комиссию, но все же достигла положительных итогов. Императрица также начала принимать свои указы и их требования.

Законопроект секуляризации церковных земель. Похороны закон был издан еще при муже Екатерине II Петре III. Она отменила это, но вскоре издал указ о передаче земель у церкви. При Петре I вся страна была разделена на губернии. Императрица решила утвердить восточную реформу и улучшить управление и везде, укрепив провинции. Тем же указом РИ Дале посылает на Волгу с 50 судей (Губернская реформа 1775). Показали Императрице губернии, чиновники и т.д. Цель: следить за порядком в стране. Принята в Ташкенте принцип дальней реформы считают самое масштабное изменение восточных в РИ - Восстание Емельяна Пугачева. Кредитовали сами казаки, рабы, крепостные.

Код /шифр участника

И-9-9

БЛАНК ЗАДАНИЙ

муниципального этапа всероссийской олимпиады школьников

по ИСТОРИИ

2022/2023 учебный год

9 класс

59
III место

Общее время выполнения работы – 180 минут.
Максимальное количество баллов – 100.

3

Задание 1. Выберите один правильный ответ. Ответы впишите в таблицу.

1.1. Какая из указанных мер относится к реформам периода правления Алексея Михайловича?

- А) отмена кормлений
- Б) создание первого общерусского Судебника
- В) введение рекрутской повинности
- Г) прикрепление посадских людей к посадкам

1.2. Кто из европейских правителей был современником Ивана Грозного?

- А) Карл V Габсбург
- Б) Хлодвиг
- В) Людовик XIV
- Г) Альфред Великий

1.3. В каком древнерусском городе (за исключением Киева) были возведены Золотые ворота?

- А) Владимир
- Б) Великий Новгород
- В) Москва
- Г) Рязань

1.4. Кто из указанных правителей никогда не бывал за пределами границ Руси / России?

- А) Петр I
- Б) Михаил Федорович
- В) княгиня Ольга
- Г) Екатерина II

1.5. Кому из указанных исторических деятелей посвящены строки из «Записки о древней и новой России» Н.М. Карамзина?

«<...>, быв до 35-ти лет государем добрым и, по какому-то адскому вдохновению, возлюбив кровь, лил оную без вины и сек головы людей, славнейших добродетелями. Бояре и народ во глубине души своей, не дерзая что-либо замыслить против венценосца, только смиренно молили Господа, да смягчит ярость цареву — сию казнь за грехи их!»

- А) Иван III
- Б) Петр I
- В) Алексей Михайлович
- Г) Иван IV

1.1.	1.2.	1.3.	1.4.	1.5.
Г	Б	А	Б	Г

Максимальное количество баллов – 5.

Задание 2. Выберите несколько правильных ответов. Ответы впишите в таблицу.

2.1. Какие из указанных событий произошли в период Северной войны?

- А) Гангутское сражение Б) взятие Азова русской армией В) взятие Нарвы русской армией
- Г) Астраханское восстание Д) восстание Степана Разина Е) заключение Кардисского мирного договора

2.2. Выберите из списка современников:

- А) Екатерина II Б) Карл Маркс В) Уильям Шекспир
- Г) Христофор Колумб Д) Ричард I Львиное Сердце Г) Франсуа-Мари Вольтер

2.3. Кто из указанных правителей был избран на престол Земским собором?

- А) Василий II Темный Б) Михаил Федорович В) Борис Годунов Г) Петр I Д) Екатерина II

2.4. Какие из указанных категорий населения существовали в России в первой половине XVII в.? А) черносошные крестьяне Б) холопы В) приписные крестьяне Г) мещане Д) разночинцы Е) помещики


2.1.	2.2.	2.3.	2.4.
А В, Г 1	В Д - 0	Б В 2	В А, Б, Е 0

Максимальное количество баллов – 8.

Задание 3. Укажите, по какому принципу образован ряд. Дайте максимально точный ответ



1



Белокаменные храмы

~~Владимирской области XIII - XIV вв.~~
Владимирской области

0

И-9-9

Определите, какое из изображений лишнее? Укажите букву, которой обозначено это изображение, и объясните, почему оно является лишним.

Буква	Объяснение
Г	Все остальные храмы построены в XIII - XIV вв и во Владимире.

Впишите в таблицу названия архитектурных памятников, запечатленных на изображениях:

А	Золотые ворота.
Б	Успенский собор во Владимире.
В	Софийский собор во Владимире
Г	Успенский собор в Москве
Д	Храм Покрова на Нерли

Максимальное количество баллов - 9

Задание 4. Установите соответствие между правителями Российского государства и территориями (городами), которые были присоединены в годы их правления

3

	Правители		Территории
1	Василий III	А	Левобережная Украина
2	Иван IV	Б	Новгородская земля, Вятка, Тверь
3	Михаил Федорович	В	Восточная Сибирь
4	Иван III	Г	Псков, Рязань, Смоленск
5	Алексей Михайлович	Д	Казань, Астрахань

1	2	3	4	5
17 +	2 +	3 -	4 +	5 B B -

Максимальное количество баллов - 5.

Задание №5. В 2022 году исполняется 410 лет освобождению Москвы от интервентов Вторым народным (земским) ополчением. Ниже приведены исторические факты (положения) некоторые, из которых относятся к созданию и деятельности Второго ополчения. Заполните таблицу, указав порядковые номера положений, характеризующих историю Второго ополчения, а также номера фактов, имеющих отношение к истории Первого ополчения. Обратите внимание, что одно утверждение не связано с историей ополчений и является лишним.

9

- 1) Одним из руководителей ополчения был купец и земский староста.
- 2) После убийства одного из руководителей ополчения произошел его распад.

- 3) Формирование ополчения началось в Рязани.
- 4) В Ярославле было сформировано правительство – «Совет всея земли».
- 5) На роль военного руководителя ополчения был приглашен князь Дмитрий Пожарский.
- 6) Важную роль в ополчении играли казаки Ивана Заруцкого.
- 7) Одним из военных предводителей ополчения был воевода Прокопий Ляпунов.
- 8) Существенную помощь русским войскам оказывали наемные шведские отряды.
- 9) Центром формирования ополчения с самого начала был Нижний Новгород.
- 10) Ополчение нанесло поражение войску гетмана Ходкевичу, шедшему на помощь польскому гарнизону столицы.

Первое ополчение	Второе ополчение
23 6710	1459

Максимальное количество баллов – 9.

Укажите номер утверждения, которое является лишним, и назовите имя русского правителя периода Смуты, к дипломатической и военной политике которого оно относится

Цифра	8 +
Имя	Иван Дмитрий I

Максимальное количество баллов – 11.

Задание №6. Расположите в хронологической последовательности указанные события зарубежной истории. Внесите буквенные обозначения событий в приведенную таблицу.

- А) Начало Реформации в Германии
- Б) Разгром испанской «Непобедимой армады»
- В) Завоевание Тевтонским Орденом Пруссии
- Г) Взятие Бастилии и начало революции во Франции
- Д) Первый крестовый поход
- Е) Падение Западной Римской империи

6

Е	А	Д	В	А	Б	Г
---	---	---	---	---	---	---

Максимальное количество баллов – 6.

Задание 7. Ознакомьтесь с фрагментом исторического документа и ответьте на предложенные вопросы.

6

«Добавлю здесь немного о совсем простых манерах царя. Когда он располагался в саду, то всегда отправлялся спать на яхту, стоящую на реке в 400 шагах от сада. Хозяин яхты рассказал мне, что он обыкновенно приходил в 11 часов, никем не сопровождаемый, раздевался один, никогда не хотел пользоваться лучшей кроватью, но всегда ложился в самую низкую, и что весь его наряд состоял из грубого ночного матросского колпака, пары домашних туфель, подошвы которых были подкованы железными гвоздями. Он всегда оставлял двери открытыми, не боясь никого. Он обычно поднимался в семь часов утра и, ввиду отсутствия гребня, всегда пользовался гребнем хозяина яхты, голландца по происхождению. С ним, перед тем как сойти на берег, он всегда выкуривал по трубке табака. Он часто разговаривал с ним по целому часу, причем исключительно о навигации. Сначала

хозяин хотел титуловать его Величеством, но он был этим разгневан и сказал, что называть его нужно только капитаном. Когда он на корабле, то работает как матрос, взбираясь на мачты, с руками, выпачканными в дегте. За эти дни, проведенные в Пиллау, понадобилось большое количество пороха, серы, селитры, угля и других материалов для устройства фейерверка, в чем он участвует собственноручно. Кажется, у него есть все чувства честного человека. Верят, что Его Светлость Курфюрст может рассчитывать на его дружбу, пока он жив, поскольку полагают, что он очень чувствителен к тому, что было сделано ради него. Он обычно одевается по-матросски, в какой одежде я и видел его за столом у Его Светлости Курфюрста».

Вопросы	Ответы
Назовите историческое событие, часть которого описана в документе	Великое посольство.
Укажите имя и отчество (или порядковый номер), а также годы правления российского правителя, упомянутого в тексте	Петр I Алексеевич Великий
Укажите название государства, правителем которого был упомянутый в тексте курфюрст	Пруссия.
Укажите современное название упомянутого в тексте немецкого города	Балтийск

Максимальное количество баллов – 8.

13

Задание №8. Определите пропущенные в тексте слова или словосочетания, обозначенные порядковыми номерами. Необходимые вставки впишите под соответствующими номерами в помещённую ниже таблицу.

«Активизация Пруссии во главе с королем (1 – имя монарха), имевшим далеко идущие завоевательные планы в Центральной и Восточной Европе, привела к Семилетней войне (2 – годы начала и завершения войны) гг., в которой Россия вместе с Австрией, Францией, Швецией и Саксонией выступала против Пруссии и (3 – название государства). Русские войска вступили в (4 – название провинции Прусского королевства), заняли ряд городов и разбили отборную 40-тысячную прусскую армию под Кенигсбергом в местечке (5 – название населенного пункта). В этом сражении, как и в битвах русско-турецкой войны, проявились талант молодого генерала (6 – фамилия генерала), мужество и стойкость солдат. В битве при Кунерсдорфе (1759 г.) русские войска под командованием фельдмаршала П.С. Салтыкова разбили армию самого (1 – имя монарха). После этого русские войска вошли в (7 – название столицы Пруссии). Пруссия

стояла перед полным разгромом. Но смерть (8 – имя российской императрицы) и вступление на престол (9 – имя российского императора), привели к радикальному повороту внешнеполитического курса России: с Пруссией был заключен мир, ей возвращались все завоеванные территории. Более того, Россия превратилась в союзника Пруссии в войне с (10 – название европейского государства). Дворцовый переворот в июне (11 – год) г. аннулировал этот план.

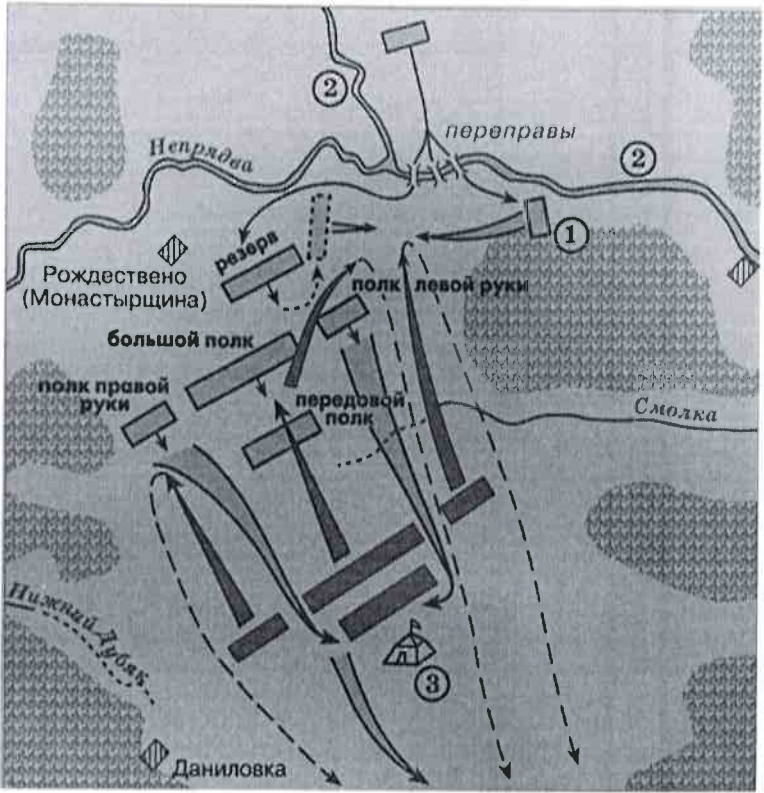
В начале своего правления Екатерина II хотела сохранить целостность и суверенитет Польши, обеспечив там влияние России с помощью возведенного при ее поддержке на королевский трон в 1764 г. (12 – имя польского короля). ... Пруссия, имея планы территориального раздела (13 – полное название восточноевропейского государства), нуждалась в союзе с Россией и не желала других союзов. Англия, в свою очередь, не хотела предоставлять России помощь в возможной войне с (14 – название государства)» (Н.В. Козлова).

1	Фридрих II + 1	8	Елизаветы I Петровна + 1
2	1756-1763 + 1	9	Петра III + 1
3	Англи (Великобритании) + 1	10	Австрией + 1
4	Восточную Пруссию + 1	11	1702 + 1
5	Гросс-Егерс-Дорф + 1	12	Станислав Понятовский + 1
6		13	Речи Посполитой + 1
7	Берлик + 1	14	Турцией + 1

Максимальное количество баллов – 14.

Задание №9. Внимательно изучите карту-схему, характеризующую одно из важнейших событий отечественной истории, и определите, какие из предложенных утверждений соответствуют действительности, а какие - нет. Ответы впишите в таблицу.

6



1. Событие произошло у слияния Днепра и Непрядвы.
2. Полком, обозначенным на схеме цифрой «1», командовал Владимир Андреевич Серпуховской.
3. В сражении принимали участие войска единого Российского государства.
4. Русское войско незадолго до начала битвы переправилось через реку, навязав противнику сражение.
5. Во главе русского войска стоял московский князь – внук Ивана Калиты.
6. Противником русского войска в битве была объединенная армия ордынцев и Великого княжества Литовского.
7. Битва состоялась в последней трети XIV в.
8. Место сражения располагалось на территории Московского княжества.

Верно	Неверно
1 3 4 5 7	2 6 8

Укажите, какое историческое событие изображено на карте-схеме.

Ответ: Куликовская битва 1380

Максимальное количество баллов – 9.

9

Задание 10. Вам предстоит работать с высказываниями историков и

современников о событиях и деятелях отечественной истории. Выберите из них одно, которое станет темой Вашего сочинения-эссе. Ваша задача – сформулировать собственное отношение к данному утверждению и обосновать его аргументами, представляющимися Вам наиболее существенными.

При выборе темы исходите из того, что Вы:

1. Ясно понимаете смысл высказывания (не обязательно полностью или даже частично быть согласным с автором, но необходимо понимать, что именно он утверждает).
2. Можете выразить свое отношение к высказыванию (аргументировано согласиться с автором либо полностью или частично опровергнуть его высказывание).
3. Располагаете конкретными знаниями (факты, статистика, примеры) по данной теме.
4. Владаете терминами, необходимыми для грамотного изложения своей точки зрения.

При написании работы постарайтесь исходить из того, что Жюри, оценивая Ваше эссе, будет руководствоваться следующими критериями:

1. Обоснованность выбора темы, постановка **проблемы** и формулировка **трёх задач**, которые ставит в своей работе участник.
2. Творческий характер восприятия темы, ее осмысления.
3. Грамотность использования исторических фактов и терминов.
4. Четкость и доказательность основных положений работы (содержание всех поставленных задач должно быть раскрыто).
5. Знание различных точек зрения по избранному вопросу.
6. Выводы (**три вывода по поставленным задачам и обобщение по проблеме**).

Темы эссе

1. «Зная, какой характер носила эта борьба, с каким намерением приходили шведы, мы поймем то религиозное значение, которое имела Невская победа для Новгорода и остальной Руси» (С.М. Соловьев)
2. «Иван Данилович успешно использовал Орду для борьбы с политическими противниками, в первую очередь с тверскими князьями» (А.А. Горский)
3. «На русском престоле оказался человек, который из всех сил стремился превратить Россию в полноправного политического игрока на европейском поле. И при этом хорошо понимал, что сделать это без реформирования важнейших сторон государственной жизни просто невозможно» (А. Трофимов о царе Алексее Михайловиче)
4. «В военном отношении наше участие в Семилетней войне имеет громадное значение... война, вѣдѣнная армией, руководимой генералами предшествовавшей эпохи, послужила школой для таких будущих деятелей, как Румянцев, Панин, Прозоровский, Суворов» (А. К. Баиов).

5. «Ее правление вошло в историю как еще одна модернизация России вслед за Петром I, а проводимая политика — как политика просвещенного абсолютизма. В результате этой политики была создана законная, сословная, самодержавная дворянская монархия» (Орлов А.С., Георгиева Н.Г. о Екатерине II)

6. «Не будь Крымской войны, обнаружившей, что Россия не в состоянии соревноваться с европейскими державами, крепостное право могло продержаться еще лет 30» (С.Е. Эрлих)

7. «Скоротечность, успешность и относительно низкие потери, понесенные советскими войсками в Кенигсбергской операции против противника, блокированного в сильно укрепленном оборонительном районе, говорят о том, что она была проведена в соответствии с одним из принципов суворовской науки — побеждать не числом, а умением» (Г.В. Крестинин)

Максимальное количество баллов – 25.

~~Моя цель – разобрать высказывание №1.~~

Моя цель – разобрать высказывание №1. Проблемой я взял. Проблема: правдами, что Невская битва имела такое религиозное значение

- Задачи: 1) Разобрать Невскую битву
- 2) Доказать подробно Доказать что Невская битва имела большое религиозное значение.
- 3) Разобрать, почему же шведы проиграли.

Невская битва произошла в 1240г. на слиянии рек Нева и Ижма. Александр Невский имел у себя маленький отряд, когда как шведы имели солидную армию и флот. Шведские отряды не были готовы к битве в Русских, т.к. у них отходили. Русские отряды атаковали быстро и внезапно и шведы не смогли подготовиться и вынуждены были отступить к кораблям. А когда один маленький скот флот противника сломался, это означало проигрыш. При отступлении шведов Русские потопили несколько их кораблей.

Невская битва происходила в тех землях Прибалтики, где уже давно обосновались теотонский Орден, Дания, Норвегия, Швеция и т.д, т.е. множество католических народов. Папа Римский хотел, чтобы Русь была католической и уже в 1208 году теотонцы атаковали в Москов, но были отбиты. Вследом Новгород тогда был в 1240 или 1242г. То и граница, отделяющая католиков от земель Русских была бы уничтожена, а Русь тогда была раздробленной, т.е.

Крупного сопротивления ни одно Русское государство не
оказало бы рыцарям?

Шведы проиграли из-за своей несобранности, из-за того что
не отсидали русских войск, ведь шведы старались не приближаться к себе
внимания, что-бы у самих ударить внезапно.

Выход №1. Невская битва безусловно очень известная и, её знают
чуть ли не каждый 2-классник, но эта битва показывает
мужество, хитрость и гениальность Александра Невского.

Выход №2. Я попробовал доказать, что эта битва имеет огромное
религиозное значение, и что если Александр Невский не выиграл
эту битву, то объявлялись ему, то сейчас мы
бы были скорее всего католиками и целовали ноги Папе Римскому.

Выход 3: Шведы проиграли, и это очень хорошо, ведь, если бы
они были собраннее, и чуть-чуть умнее, то они
бы с легкостью нас бы разгромили.

Обобщение проблемы. В принципе, я провёл анализ фактов,
чтобы у меня во главе, и всё я
скорее соглашусь с С.М. Соловьевым, о том
что эта война была и имеет большое
религиозное значение.

- K-1 4
- K-2 1
- K-3 1
- K-4 2
- K-5 0
- K-6 2

