

558.

Код /шифр участника

И-8-22

БЛАНК ЗАДАНИЙ
муниципального этапа всероссийской олимпиады школьников
по ИСТОРИИ

2022/2023 учебный год

8 класс

Общее время выполнения работы – 90 минут.
Максимальное количество баллов – 100.

8

Задание 1. Выберите один правильный ответ. Ответ внесите в таблицу.

- 1.1. Какое из событий произошло в то же десятилетие, что и первый крестовый поход?
 А) Любечский съезд князей Б) строительство Софийского собора в Киеве В) поход Святослава Игоревича против хазар Г) визит княгини Ольги в Константинополь
- 1.2. Основание крепости Кенигсберг произошло в год, когда правителем Великого Владимирского княжества был:
 А) Владимир Мономах Б) Александр Невский В) Иван Калита Г) Дмитрий Донской
- 1.3. Какое из указанных государственных образований было создано в 962 году?
 А) Золотая Орда Б) Византийская империя В) Священная Римская империя германской нации Г) Хазарский каганат
- 1.4. Какой древнерусский город современники называли «господином»?
 А) Киев Б) Ростов В) Новгород Г) Смоленск
- 1.5. 26 июля 1951 г. на Неревском раскопе Новгорода археологическая экспедиция под руководством А. В. Арциховского обнаружила первую:
 А) княжескую печать Б) берестяную грамоту В) стоянку первобытного человека Г) серебряную монету

1.1.	1.2	1.3	1.4	1.5
Б) —	Б) +	В) +	В) +	Б) +

Максимальное количество баллов – 10.

6

Задание 2. Выберите несколько правильных ответов. Ответы внесите в таблицу.

- 2.1. Какие из указанных понятий **не** относятся к периоду нахождения у власти царевны Софьи?

U-8-22

А) Вечный мир Б) Священная лига В) Славяно-греко-латинская академия Г) Крымские походы Д) Азовские походы Е) Земские соборы

2.2. Какие из перечисленных терминов стали употребляться на Руси после нашествия монголов?

А) улус Б) удел В) ярлык Г) баскак Д) смерд Е) каган

2.3. Укажите современников Ивана Грозного?

А) Николай Коперник Б) Микеланджело Буонарроти В) Жан Батист Мольер Г) Иммануил Кант Д) Марко Поло

2.4. Какие из указанных событий относятся к эпохе Смутного времени?

А) осада Троице-Сергиева монастыря войсками Яна Сапеги Б) осада Пскова войсками Стефана Батория В) осада Соловецкого монастыря царскими войсками Г) осада Москвы войсками Ляпунова, Трубецкого и Заруцкого Д) осада Смоленска войсками Сигизмунда III

2.5. К орудиям земледельческого труда русского крестьянина относятся:

А) соха Б) борона В) булава Г) рало Д) палица

2.1.	2.2.	2.3.	2.4.	2.5.
А), Б), Г) -	В), Г) 1.	А), Б) 2	А), Г), Д) 2	А), Б) 1

Максимальное количество баллов – 10.

4

Задание 3. Определите, какое из перечисленных имён (понятий, дат) лишнее?

Лишнее слово зачеркните. Укажите, по какому принципу образован ряд. Дайте максимально точный ответ.

3.1. 1492 —1493 гг., 1493 —1496 гг., 1498 —1500 гг., 1502 —1504, ~~1505 —1533 гг.~~ +

Русско-польские войны

3.2. Франц Лефорт, Патрик Гордон, Яков Брюс, ~~Андрей Курбский~~, Феофан Прокопович +

Создательники Петра I

3.3. Челобитный, поместный, вотчинный, ~~разбойный~~, стрелецкий, городничий

Должности

Максимальное количество баллов – 9.

8

Задание 4. Установите соответствие между городами и связанными с ними событиями, а также понятиями и устойчивыми выражениями.

1	Москва	А	«300 золотых поясов»
2	Великий Новгород	Б	«Третий Рим»
3	Ярославль	В	Ключ-город
4	Смоленск	Г	Совет всея земли

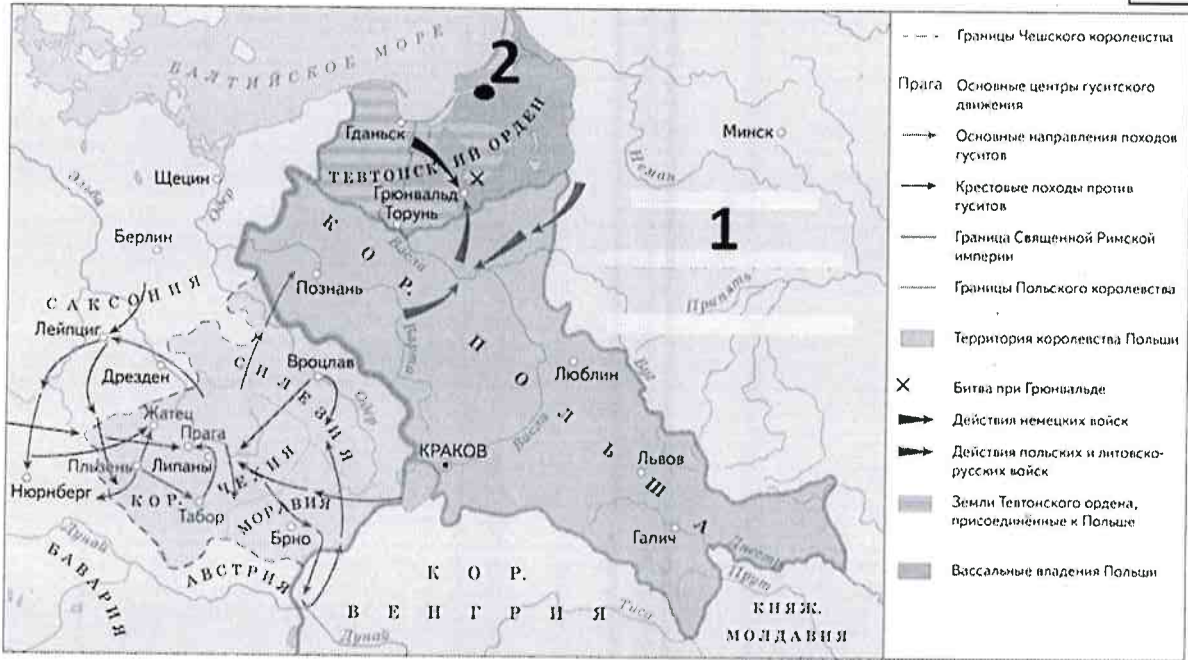
5	Владимир	Д	«родина Деда Мороза»
6	Великий Устюг	Е	Золотые ворота

1	2	3	4	5	6
Б +	Г -	А -	В +	Е +	Д +

Максимальное количество баллов – 12.

Задание 5. Внимательно изучите карту-схему, на которой отражены события европейской истории эпохи Средневековья и ответьте на вопросы.

6



Вопрос	Ответ
Определите, в каком веке происходили указанные на карте-схеме события	XV век +
Укажите средневековое название государства, обозначенного на карте цифрой 1	Королство Литва +
Укажите средневековое название города, обозначенного на карте цифрой 2	Тевель -

Выберите из списка два события, которые происходили в России или мире в тот же исторический период, который отражен на карте-схеме:

- А) Борьба Василия II Темного с Василием Косым и Дмитрием Шемякой
- Б) Захват Константинополя турками-османами
- В) Опричнина Ивана Грозного
- Г) Соляной бунт в Москве
- Д) Первое кругосветное плавание Фернана Магеллана

А), Д)

Максимальное количество баллов – 10.

Задание 6. Расположите в хронологической последовательности события отечественной истории.

0

- 1) События правления Ивана IV Грозного
 - А) основание Архангельска
 - Б) великий пожар и восстание в Москве
 - В) учреждение опричнины
 - Г) венчание на царство
- 2) События правления Петра I
 - А) Азовские походы
 - Б) Начало Северной войны
 - В) Великое посольство
 - Г) Основание Санкт-Петербурга

1	Г)	А)	В)	Б)
2	А)	Г)	Б)	В)

Максимальное количество баллов – 10.

Задание 7. Ознакомьтесь с фрагментом летописной повести, посвященной одному из событий отечественной истории, и ответьте на вопросы.

2

«Окаянный же [...] возгордившись и считая себя царем начал осуществлять злой замысел, темных своих князей звать. И сказал им: «Пойдем на русского князя и на всю силу русскую, как при Батые было, христианство уничтожим и церкви божию спалим...» Это из-за того, что нечестивый люто гневался за своих друзей и любимцев, князей, убитых на реке Воже».

Вопрос	Ответ
Укажите имя исторического деятеля, которому летописная повесть приписывает данные слова.	
Укажите имя русского князя, о котором говорится в тексте.	
Назовите часть века, к которой относится событие, о котором идет речь	Византия, 14 век
Назовите событие, которому посвящена данная летописная повесть	
Назовите хотя бы одного союзника из числа «темных князей», которых призвал деятель, именуемый в летописи «окаянным» и «нечестивым».	

Максимальное количество баллов – 10.


Задание 8. Расположите по времени создания архитектурные сооружения

8

и памятники, расположенные на территории Калининграда, изображения которых представлены вашему вниманию. Внесите буквенные обозначения в хронологическом порядке в приведенную таблицу.

Укажите, какое учреждение культуры в настоящее время расположено в здании, обозначенном

буквой Г Художественный музей



В) Г) А) Б) Д)

Максимальное количество баллов – 8.

Задание 9. Внимательно изучите карту-схему, на которой изображено событие военной истории России, и ответьте на вопросы.


6



Назовите событие, которое изображено на карте-схеме, и укажите монарха, в годы правления которого оно произошло?

Событие	Завоевание Казани	+
Монарх	Иван IV	+

Какое из представленных архитектурных сооружений связано с событием, изображенным на карте-схеме? Впишите букву, обозначающую верный ответ, назовите храм и объясните свой выбор.



Буква	Б)
Название	Казанский кремль
Объяснение	Он построен в 16-м столетии присоединения Казани к России.

Укажите букву, которая обозначает храм, отличающийся от остальных тем, что он был построен в другом столетии. Назовите его.

Буква	Название
В) +	Соборный собор

Максимальное количество баллов – 11.

7

Задание 10. Определите пропущенные в тексте слова и словосочетания, обозначенные порядковыми номерами. Необходимые вставки впишите под соответствующими номерами в помещённую ниже таблицу.

После смерти царя (1 – имя царя) (1598) [Борис Годунов] был избран (2 – название органа власти) на царство. Годунов, по единодушному мнению современников, был крупным государственным деятелем. Его правительство продлило перемирие с (3 – название государства) и вступило в войну со Швецией (1590 - 1593), в результате которой Россия вернула утерянные после (4 – название войны) города Ям, Орешек, Ивангород и др.,

U-8-22

расширила выход к Балтийскому морю. При Годунове была предпринята энергичная колонизация (5 – регион в России). Годунов добился в 1589 году у константинопольского патриарха... согласия на учреждение русской патриархии (6 – название реформы) ... В 1597 г. были изданы указы об установлении (7 – срок) давности для исков на беглых (8 – группа населения) и указ о холопах, по которому кабальные люди лишались права выкупаться на свободу. Резкое усиление крепостного гнёта в правление Годунова привело в начале XVII в. к гражданской войне. Бедствия населения России усилились вследствие тяжёлого (9 – событие) 1601 -1603 гг. и страшного голода. Несмотря на то, что Годунов закупал хлеб на свои личные деньги и раздавал голодавшему населению, недовольство народных масс было столь велико, что они поддержали (10 – исторический деятель), открывшего в 1604 г. военные действия против Годунова. (Богуславский В.В., Бурминов В.В.)

1	Ивана IV —	6	
2	Земский собор +	7	Тярмеленского срока +
3	Демью Посрединной +	8	Крестьян +
4	Ливонской войны +	9	Мора —
5	Сибири +	10	Алмедмитрия I +

Максимальное количество баллов – 10.

Желаем удачи!

Член жюри:

(подписи)