

И-7-4
-------

## БЛАНК ЗАДАНИЙ

муниципального этапа всероссийской олимпиады школьников

по ИСТОРИИ

2022/2023 учебный год

7 класс

535

Общее время выполнения работы – 90 минут.

Максимальное количество баллов – 100.

4
---

Задание 1. Выберите один правильный ответ. Ответ внесите в таблицу.

1.1. Укажите, кто из указанных правителей Московского государства был сыном племянницы последнего византийского императора?

А) Дмитрий Донской      Б) Василий II Темный      В) Василий I      Г) Василий III

1.2. Какому древнерусскому князю посвящены строки поэтического произведения А.С. Пушкина:

«Князь по полю едет на верном коне.

Из тёмного леса навстречу ему

Идёт вдохновенный кудесник,

Покорный Перуну старик одному,

Заветов грядущего вестник...»

А) Олег      Б) Игорь      В) Святослав      Г) Владимир

1.3. Резиденция митрополита, возглавлявшего православную церковь на Руси в годы правления Дмитрия Донского, была в городе:

А) Киев      Б) Владимир      В) Великий Новгород      Г) Тверь      Д) Москва

1.4. О каком кочевом народе идет речь в летописном фрагменте? «Пришли [...] впервые на русскую землю, а Святослав был в Переславце и затворилась Ольга с внуками своими, Ярополком, Олегом и Владимиром, в городе Киеве».

А) хазары      Б) печенеги      В) половцы      Г) монголы

1.5. Какое из указанных понятий не относится к процессу оформления крепостного права в России? А) Судебник      Б) пожилое      В) помещик      Г) Русская правда      Д) Юрьев день

1.6. Причиной восстания древлян в 945 году стал (а)?

А) война с Византией      Б) сбор полюдья      В) христианизация древлян      Г) перенос столицы древнерусских земель из Новгорода в Киев

1.1.	1.2	1.3	1.4	1.5	1.6.
А -	В -	В -	В +	В -	В +

45

И-7-4

Максимальное количество баллов – 12.

5

Задание 2. Выберите несколько правильных ответов. Ответы внесите в таблицу.

2.1. Какие из указанных овощей отсутствовали в рационе средневекового русского крестьянина?

А) репа Б) капуста В) картофель Г) свекла Д) огурец Е) помидор

2.2. Кто из указанных народов не участвовал в битве на Калке 1223 года?

А) монголы Б) хазары В) половцы Г) шведы

2.3. Знаменитыми иконописцами были:

А) Иларион Б) Феофан Грек В) Сергей Радонежский Г) Андрей Рублев Д) Иван Федоров

2.4. Какие из указанных монархов были правителями европейских государств в год основания замка Кенигсберг?

А) Ричард Львиное Сердце Б) король франков Карл Великий В) Людовик IX Святой Г) Пршемысл Отакар II

2.1.	2.2.	2.3.	2.4.
<del>А</del> В + 35	Г + 15	Г + 15	<del>Б</del> В -

Максимальное количество баллов – 12.

Задание 3. Установите соответствие между историческими событиями (процессами, явлениями) и периодами правления отечественных монархов.

4

	События		Периоды правления
1	Нашествие Батые на Северо-Восточную Русь	А	Правление Дмитрия Донского
2	Начало борьбы Москвы и Твери за великое княжение	Б	Правление Ивана Калиты
3	«Феодалная война в Московском государстве»	В	Правление Юрия Всеволодовича
4	Строительство храма Святой Софии в Новгороде	Г	Правление Василия Темного
5	Строительство белокаменного Кремля в Москве	Д	Правление Ярослава Мудрого

1	2	3	4	5
В +	А -	Г +	В -	Д -

Максимальное количество баллов – 10.

**Задание 4.** По какому принципу образован ряд. Дайте максимально точный ответ.

Зачеркните «лишнее» понятие.

4.1. перелог, подсека, трехполье, ~~барщина~~, залежь.

3

4.2. вандалы, вестготы, остготы, ~~басты~~, франки, саксы

Все остальные ~~т~~ не славяне.

4.3. Генеральные штаты, Сейм, Кортесы, Ландтаг, ~~Приказы~~

Все остальное относится к Франции

Максимальное количество баллов – 9.

**Задание 5.** Внимательно изучите предложенное изображение и впишите ответы в пропуски, оставленные в тексте:

12



Событие, запечатлённое на картине художника XIX века, произошло в 1) 10 + веке.

Правителем древнерусского государства во время данного события был князь 2) Владимир +. Он принадлежал к династии 3) Рюриковичей +

Данное событие получило в отечественной исторической науке название 4) Великое Крещение +. Государство, которое оказало самое большое влияние на данное событие, называлось 5) Царьград Византийская империя +. Столицей данного государства был город Константинополь, который на Руси, называли 6) Царьград +.

Максимальное количество баллов – 12.

**Задание 6.** Определите пропущенные в тексте слова, обозначенные порядковыми номерами. Необходимые вставки впишите под соответствующими номерами в помещённую ниже таблицу.

4

В 1348 году на Европу обрушилась эпидемия (1 – название болезни), названная «черной смертью». Она унесла до от трети до половины населения. (2 - название войны) война принесла новые бедствия. Особенно страдала (3 – название государства). Налоги непрерывно росли, и свои, и чужие войска опустошали страну. Когда же начался сбор налога для выкупа (4 – титул) и знатных сеньоров, попавших в плен в битве при Пуатье, то вспыхнуло крестьянское восстание. Поводом к восстанию послужило введение весной 1358 года дополнительной (5 – вид налога) для восстановления разрушенных замков-крепостей. Восстание вошло в историю под названием (6 - название). По словам хронистов в нем участвовало до 100 тысяч крестьян. Предводителем самого многочисленного отряда стал крестьянин (7 - имя крестьянина). У восставших не было программы; их лозунг состоял в том, чтобы перебить всех знатных людей Знамя восставших с изображением (8 – эмблема) - эмблемы королевской власти - подчеркивало их преданность королю.

45

1	Чума Чумы +	5	
2	Столетняя война +	6	Макерия +
3	Франция +	7	Жуит.
4	Бароны рыцарей -	8	

Максимальное количество баллов – 8.

**Задание 7.** Ознакомьтесь с фрагментом из «Истории России с древнейших времен» С.М. Соловьева и ответьте на вопросы.

9

«20 января отправлена была в Москву грамота, что великий князь отчину свою, Великий Новгород, привел во всю свою волю и учинился на нем государем, как и на Москве. Наместниками в Новгороде были назначены князь Иван Васильевич Стрига да брат его, Ярослав, Оболенские... Перед отъездом Иоанн велел схватить старосту купеческого Марка Панфильева, боярыню Марфу Борецкую со внуком ее Василием Федоровым, еще пятерых новгородцев и отвезти их в Москву, имение отписать на себя; забраны были и все договоры, когда-либо заключенные новгородцами с князьями литовскими. 17 февраля тронулся Иоанн из стана, 5 марта приехал в Москву; за ним привезли из Новгорода вечевой колокол и подняли на колокольню на площади кремлевской звонить вместе с другими колоколами».

**Впишите в таблицу год, когда произошло указанное событие? Выбрав из списка, впишите букву, которой обозначено военное событие, являвшееся частью события, описанного в тексте? А) Битва на реке Сить, Б) битва на Воже В) битва на Калке Г) битва на Шелони**

Год, когда произошло событие	Буква, обозначающая военное событие
15 в. в. в.	Г +

15

Укажите, какое из приведенных положений верное, а какое – нет

1. В том же году, когда произошли описанные в тексте события, Леонардо да Винчи создал картину известную как «Мадонна Бенуа» или «Мадонна с цветком».
2. Через год после указанных событий Аристотель Фиораванти достроил Успенский собор в московском Кремле.
3. Через два года после описанных событий Тохтамыш совершил набег на Москву.
4. Во время похода, описанного в тексте, московский князь основал город Юрьев.
5. Во время описанных событий Великое княжество Литовское было союзником московского князя.

Верно	Неверно
125 48	34 48

Максимальное количество баллов – 12.

Задание 8. Установите соответствие между событием и веком, когда оно произошло.

10

	Описание события		Век
1	Заключение Олегом русско-византийского договора	А	XII век
2	Превращение Новгорода в аристократическую республику	Б	XV век
3	Основание Троице-Сергиева монастыря	В	X век
4	Захват Константинополя турками-османами	Г	XIV век
5	Создано «Остромирово Евангелие»	Д	XI век

1	2	3	4	5
В +	А +	Г +	Б +	Д +

Максимальное количество баллов – 10.

0


Задание 9. Расположите по времени создания архитектурные сооружения и памятники, расположенные на территории Калининграда, изображения которых представлены вашему вниманию. Внесите буквенные обозначения в хронологическом порядке в приведенную таблицу.

Укажите, какое учреждение культуры в настоящее время расположено в здании, обозначенном буквой Б Театр

И-7-4



А)



Б)



В)




Г)

В — Б — А — Г +

Максимальное количество баллов – 7.

Задание 10. Внимательно изучите карту-схему с изображением древнерусских земель и ответьте на вопросы.



Города

Торговые пути

Граница русских земель

И-7-4

Впишите название древнерусской территории, обозначенной на карте цифрой 1.	Толыко-Валынская земля
Укажите название города, место которого обозначено на карте цифрой 2.	Калына
Назовите два торговых пути, проходивших через указанную территорию в эпоху Средневековья	Из варяг в греки
Укажите восточнославянское племя (племенной союз), которое проживало на данной территории в IX-X веках?	Рыно-угорские племена

Максимальное количество баллов – 8.

Член жюри: \_\_\_\_\_

*Евг*  
(подписи)  
*Евг*

*Евг. В*  
*Евг. В*

Код /шифр участника

525 52  
5/5  
U-7-8

### БЛАНК ЗАДАНИЙ

#### муниципального этапа всероссийской олимпиады школьников по ИСТОРИИ

2022/2023 учебный год

7 класс

Общее время выполнения работы – 90 минут.

Максимальное количество баллов – 100.

65

**Задание 1.** Выберите один правильный ответ. Ответ внесите в таблицу.

1.1. Укажите, кто из указанных правителей Московского государства был сыном племянницы последнего византийского императора?

А) Дмитрий Донской       Б) Василий II Темный      В) Василий I      Г) Василий III

1.2. Какому древнерусскому князю посвящены строки поэтического произведения А.С. Пушкина:

«Князь по полю едет на верном коне.  
Из тёмного леса навстречу ему  
Идёт вдохновенный кудесник,  
Покорный Перуну старик одному,  
Заветов грядущего вестник...»

А) Олег      Б) Игорь      В) Святослав      Г) Владимир

1.3. Резиденция митрополита, возглавлявшего православную церковь на Руси в годы правления Дмитрия Донского, была в городе:

А) Киев       Б) Владимир      В) Великий Новгород      Г) Тверь      Д) Москва

1.4. О каком кочевом народе идет речь в летописном фрагменте? «Пришли [...] впервые на русскую землю, а Святослав был в Переславце и затворилась Ольга с внуками своими, Ярополком, Олегом и Владимиром, в городе Киеве».

А) хазары      Б) печенеги      В) половцы      Г) монголы

1.5. Какое из указанных понятий не относится к процессу оформления крепостного права в России? А) Судебник      Б) пожилое      В) помещик       Г) Русская правда      Д) Юрьев день

1.6. Причиной восстания древлян в 945 году стал (а)?

А) война с Византией       Б) сбор полюдья      В) христианизация древлян      Г) перенос столицы древнерусских земель из Новгорода в Киев

1.1.	1.2	1.3	1.4	1.5	1.6.
Б)	А) +	Б)	А)	Б) +	Б) +



И-7-8

Максимальное количество баллов – 12.

5+3=8

Задание 2. Выберите несколько правильных ответов. Ответы внесите в таблицу.

2.1. Какие из указанных овощей отсутствовали в рационе средневекового русского крестьянина?

А) репа Б) капуста В) картофель Г) свекла Д) огурец Е) помидор

2.2. Кто из указанных народов не участвовал в битве на Калке 1223 года?

А) монголы Б) хазары В) половцы Г) шведы

2.3. Знаменитыми иконописцами были:

А) Иларион Б) Феофан Грек В) Сергей Радонежский Г) Андрей Рублев Д) Иван Федоров

2.4. Какие из указанных монархов были правителями европейских государств в год основания замка Кенигсберг?

А) Ричард Львиное Сердце Б) король франков Карл Великий В) Людовик IX Святой Д) Пршемысл Отакар II

2.1.	2.2.	2.3.	2.4.
В), Е) 38	Г) 1	В), Г), А) 1	Г), В) 30

Максимальное количество баллов – 12.

Задание 3. Установите соответствие между историческими событиями (процессами, явлениями) и периодами правления отечественных монархов.

4

	События		Периоды правления
1	Нашествие Батые на Северо-Восточную Русь	А	Правление Дмитрия Донского
2	Начало борьбы Москвы и Твери за великое княжение	Б	Правление Ивана Калиты
3	«Феодалная война в Московском государстве»	В	Правление Юрия Всеволодовича
4	Строительство храма Святой Софии в Новгороде	Г	Правление Василия Темного
5	Строительство белокаменного Кремля в Москве	Д	Правление Ярослава Мудрого

1	2	3	4	5
А) —	Б) +	В) —	Д) +	Б) —

Максимальное количество баллов – 10.

Задание 4. По какому принципу образован ряд. Дайте максимально точный ответ.

Зачеркните «лишнее» понятие.

4.1. перелог, подсека, трёхполье, барщина, залежь.

Трёхполье - один из видов земледелия на Руси, остальные



4.2. вандалы, вестготы, остготы, балты, франки, саксы слова уже других понятий.

Все остальные слова обозначают этнические группы.

4.3. Генеральные штаты, Сейм, Кортесы, Ландтаг, Приказы

Приказы - важные государственные органы России, а остальные

Максимальное количество баллов - 9. уже зарубежных государств своих стран.

Задание 5. Внимательно изучите предложенное изображение и впишите

ответы в пропуски, оставленные в тексте:



Событие, запечатлённое на картине художника XIX века, произошло в 1) X (10) веке.

Правителем древнерусского государства во время данного события был князь

2) Владимир Святославович. Он принадлежал к династии 3) Рюриковичей.

Данное событие получило в отечественной исторической науке название 4)

Крещение Руси. Государство, которое оказало самое большое

влияние на данное событие, называлось 5) Византия. Столицей


данного государства был город Константинополь, который на Руси, называли 6)

Царьград.

Максимальное количество баллов - 12.

Задание 6. Определите пропущенные в тексте слова, обозначенные порядковыми номерами. Необходимые вставки впишите под соответствующими номерами в

помещённую ниже таблицу.



И-7-8

В 1348 году на Европу обрушилась эпидемия (1 – название болезни), названная «черной смертью». Она унесла до от трети до половины населения. (2 - название войны) война принесла новые бедствия. Особенно страдала (3 – название государства). Налоги непрерывно росли, и свои, и чужие войска опустошали страну. Когда же начался сбор налога для выкупа (4 – титул) и знатных сеньоров, попавших в плен в битве при Пуатье, то вспыхнуло крестьянское восстание. Поводом к восстанию послужило введение весной 1358 года дополнительной (5 – вид налога) для восстановления разрушенных замков-крепостей. Восстание вошло в историю под названием (6 - название). По словам хронистов в нем участвовало до 100 тысяч крестьян. Предводителем самого многочисленного отряда стал крестьянин (7 - имя крестьянина). У восставших не было программы; их лозунг состоял в том, чтобы перебить всех знатных людей Знамя восставших с изображением (8 – эмблема) - эмблемы королевской власти - подчеркивало их преданность королю.

1	Чума	5	
2		6	
3	Священная Римская Империя	7	
4		8	

Максимальное количество баллов – 8.

**Задание 7.** Ознакомьтесь с фрагментом из «Истории России с древнейших времен» С.М. Соловьева и ответьте на вопросы.

6

«20 января отправлена была в Москву грамота, что великий князь отчину свою, Великий Новгород, привел во всю свою волю и учинился на нем государем, как и на Москве. Наместниками в Новгороде были назначены князь Иван Васильевич Стрига да брат его, Ярослав, Оболенские... Перед отъездом Иоанн велел схватить старосту купеческого Марка Панфильева, боярыню Марфу Борецкую со внуком ее Василием Федоровым, еще пятерых новгородцев и отвезти их в Москву, имение отписать на себя; забраны были и все договоры, когда-либо заключенные новгородцами с князьями литовскими. 17 февраля тронулся Иоанн из стана, 5 марта приехал в Москву; за ним привезли из Новгорода вечевой колокол и подняли на колокольню на площади кремлевской звонить вместе с другими колоколами».

**Впишите в таблицу год, когда произошло указанное событие? Выбрав из списка, впишите букву, которой обозначено военное событие, являвшееся частью события, описанного в тексте?** А) Битва на реке Сить, Б) битва на Воже В) битва на Калке Г) битва на Шелони

Год, когда произошло событие	Буква, обозначающая военное событие
1348г.	А)

Укажите, какое из приведенных положений верное, а какое – нет

1. В том же году, когда произошли описанные в тексте события, Леонардо да Винчи создал картину известную как «Мадонна Бенуа» или «Мадонна с цветком».
2. Через год после указанных событий Аристотель Фиораванти достроил Успенский собор в московском Кремле.
3. Через два года после описанных событий Тохтамыш совершил набег на Москву.
4. Во время похода, описанного в тексте, московский князь основал город Юрьев.
5. Во время описанных событий Великое княжество Литовское было союзником московского князя.

Верно	Неверно
2); 3)	1); 4); 5)

Максимальное количество баллов – 12.

Задание 8. Установите соответствие между событием и веком, когда оно произошло.

6

	Описание события		Век
1	Заключение Олегом русско-византийского договора	А	XII век
2	Превращение Новгорода в аристократическую республику	Б	XV век
3	Основание Троице-Сергиева монастыря	В	X век
4	Захват Константинополя турками-османами	Г	XIV век
5	Создано «Остромирово Евангелие»	Д	XI век

1	2	3	4	5
<del>Г)</del>	<del>А)</del>	<del>В)</del>	Б)	<del>Д)</del>

Максимальное количество баллов – 10.


2

Задание 9. Расположите по времени создания архитектурные сооружения и памятники, расположенные на территории Калининграда, изображения которых представлены вашему вниманию. Внесите буквенные обозначения в хронологическом порядке в приведенную таблицу.

Укажите, какое учреждение культуры в настоящее время расположено в здании, обозначенном буквой Б - Музей изобразительных искусств.



А)



Б)



В)




Г)

В	+	Б)	—	В)	+	А)	—
---	---	----	---	----	---	----	---

Максимальное количество баллов – 7.

Задание 10. Внимательно изучите карту-схему с изображением древнерусских земель и ответьте на вопросы.



Города

----- Торговые пути



Граница русских земель

И-7-8

Впишите название древнерусской территории, обозначенной на карте цифрой 1.	Новгородская Рес. +
Укажите название города, место которого обозначено на карте цифрой 2.	Новгород. +
Назовите два торговых пути, проходивших через указанную территорию в эпоху Средневековья	"Из Варяг в Греки" +
Укажите восточнославянское племя (племенной союз), которое проживало на данной территории в IX-X веках?	Финно-угры. —

Максимальное количество баллов – 8.

Член жюри: Евг. Есенин И.В.  
(подписи)  
Иван Иванович Есенин