

**БЛАНК ЗАДАНИЙ**  
**муниципального этапа всероссийской олимпиады школьников**  
**по географии**  
(предмет)

**II ТУР (АНАЛИТИЧЕСКИЙ)**

**2022/2023 учебный год**

**7 – 8 класс**

Общее время выполнения работы – **180 минут**.

На II (аналитический) тур отводится **120 минут**.

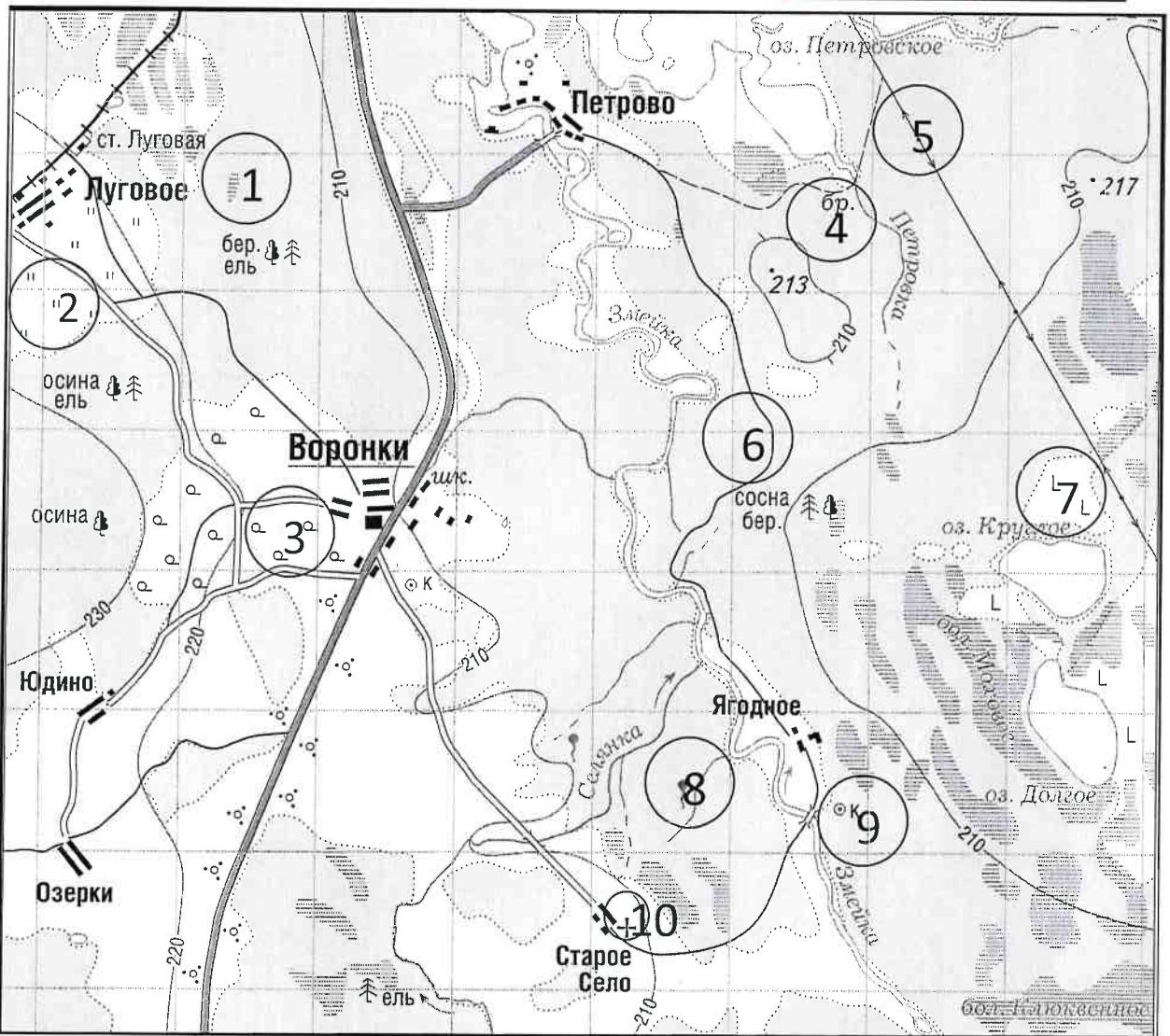
Максимально возможное количество баллов, которое Вы можете набрать на аналитическом туре, составляет 80 баллов.

При ответе на задания запрещено пользоваться школьными и прочими атласами, справочными материалами, а также учебниками, мобильными телефонами, карманными компьютерами! Желаем успеха!

**Задание 1. «Географы-практики».**

Перед Вами участок плана местности. Ответьте на поставленные ниже плана вопросы. Ответ внесите в таблицу.

1. Какие объекты обозначены на карте условными знаками № 1–10?
2. Определите, по какому азимуту необходимо двигаться от вершины холма с абсолютной высотой 213 м до школы.
3. Определите через сколько метров по высоте проведены горизонтالي (поперечное сечение рельефа).
4. Определите максимальную высоту на изображённой территории. Если невозможно указать точную цифру, то напишите ответ в виде интервала, например, более 50 м, но менее 55 м.
5. Водосборный бассейн какой реки показан на данной карте?
6. В каком направлении она протекает?
7. По какому искусственному сооружению проходит железная дорога, проходящая через станцию Луговая?
8. В какой лес Вы отправитесь, чтобы заготовить традиционные в России банные веники? Укажите цифру(ы) номера участка.
9. В какой природной зоне находится изображённая на карте территория?



№ элемента	Элемент ответа	Ответ
1.	1. Условный знак № 1	Болото 1
	2. Условный знак № 2	Луг 1
	3. Условный знак № 3	Кустарники 0
	4. Условный знак № 4	
	5. Условный знак № 5	
	6. Условный знак № 6	Грибная дорада ✓ 1
	7. Условный знак № 7	Срубленные деревья ✓ 1
	8. Условный знак № 8	Родник ✓ 1
	9. Условный знак № 9	Колодец ✓ 1
	10. Условный знак № 10	Церковь 1
2.	Азимут	
3.	Горизонтالي проведены через:	10 м 1
4.	Максимальная высота	более 230 м, но менее 240 м 1
5.	Водосборный бассейн	Змейка 1
6.	Направление течения реки	Север (С-С-З) 1
7.	Искусственное железнодорожное сооружение	
8.	Лес заготовки веников (номера)	8, 6, 1 1
9.	Природная зона	Смешанные леса 3

Максимальное количество баллов – 20.

Члены жюри (подписи) \_\_\_\_\_

(фактически  
набранное  
количество баллов)

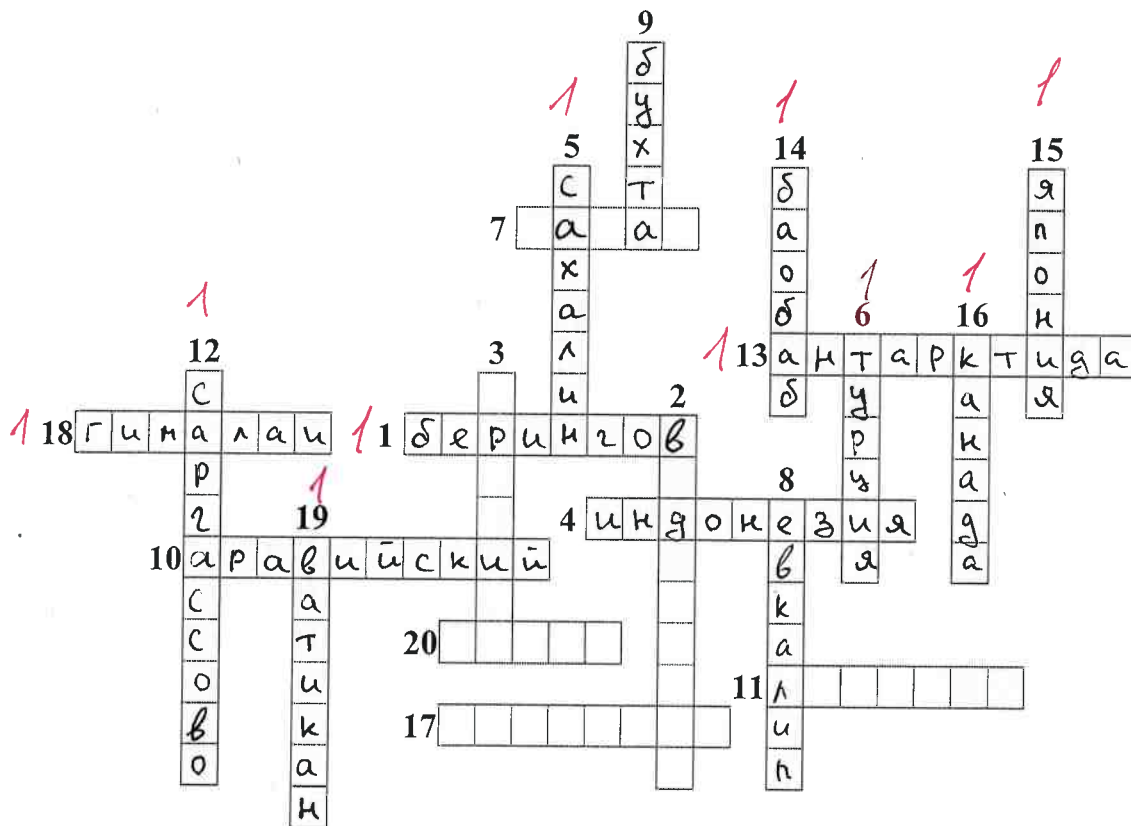
15

**Задание 2. Географическая разминка-кроссворд «По материкам и странам».**

Разгадайте предложенный кроссворд.

**По горизонтали.** ✓1. Название пролива между Россией и США. 4. Самый большой по площади архипелаг Земли. 7. Название залива, в котором зарегистрирована самая большая высота приливов (19,6 м). ✓10. Самый большой полуостров Земли. 11. Самый холодный населенный пункт России, «полюс холода» северного полушария. 13. Материк, на котором не бывает дождей. 17. Как называется полуостров, на котором находится значительная часть Королевства Дания? ✓18. Величайшая горная система, название которой с разных языков переводится как «снежная гора», «обитель снегов» и т.д. 20. Как называется местный сухой горячий шквалистый ветер юго-западного и западного направлений в пустыни Сахара и на Аравийском полуострове?

**По вертикали.** 2. Растение-эндемик пустыни Намиб с длинными листьями, умеющими впитывать влагу из воздуха. Растение, «растущее вниз». Увековечено на гербе Намибии. 3. Как называется крупный физико-географический район Земли, перевод названия которого с греческого языка означает «Территория под созвездием Большой Медведицы»? ✓5. Самый большой по площади территории остров России. ✓6. Какое государство занимает большую часть полуострова Малая Азия? 8. Самый высокий в мире древесный эндемик Северной Америки. 9. Узкий, длинный залив, окаймленный скалистыми берегами. Их много на Скандинавском полуострове. ✓12. Какое море называют «Морем без берегов»? ✓14. Самое распространенное дерево африканских саванн. Приспособилось накапливать влагу, чтобы пережить сухой сезон. ✓15. Крупнейшими островами какого государства являются Хонсю, Хоккайдо, Кюсю, Сикоку? ✓16. Страна, на флаге которой изображен кленовый лист. ✓19. Самое маленькое государство на планете (площадью всего лишь 0,44 км<sup>2</sup>).



Максимальное количество баллов – 20.

Члены жюри (подписи) \_\_\_\_\_

(фактически  
набранное  
количество баллов)




10

### Задание 3. Чтобы помнили...

В последние годы, к великому сожалению, в некоторых странах происходит забвение памяти павших героев в Великой Отечественной войне. Сносятся памятники, происходит отрицание событий того времени. Но в наше нелегкое время мы не должны забывать нашу историю.

В этом задании Вам предстоит изучить информацию о некоторых памятниках, посвященных событиям Великой Отечественной войны. В таблице даны описания или представлены изображения известных в нашей стране воинских мемориальных комплексов или памятников героям Великой Отечественной войны. Также сформулированы вопросы, связанные с этими мемориалами. Ответьте, пожалуйста, на них, занеся ответы в соответствующие строки третьего столбика.



№	Описание или изображение	Вопросы
1.	 <p data-bbox="523 568 799 600">Памятник-ансамбль</p>  <p data-bbox="579 1061 743 1093">Скульптура</p>	<p data-bbox="1034 197 1481 264">1. Название памятника-ансамбля:</p> <p data-bbox="1034 309 1481 376">2. Название скульптуры памятника-ансамбля:</p> <p data-bbox="1034 376 1481 443"><u>Родина-мать зовёт</u> 1</p> <p data-bbox="1034 454 1481 521">3. Название возвышенности, на которой расположен:</p> <p data-bbox="1034 566 1481 633">4. В каком городе расположен:</p> <p data-bbox="1034 633 1481 701"><u>Владимир</u> 0</p> <p data-bbox="1034 723 1481 790">5. Название города до 1925 г.:</p> <p data-bbox="1034 857 1481 925">6. Название города с: 1925 по 1961 гг.:</p>
2.		<p data-bbox="1034 1108 1481 1176">1. Название памятника:</p> <p data-bbox="1034 1176 1481 1243">2. В каком субъекте России расположен:</p> <p data-bbox="1034 1332 1481 1400">3. В каком городе расположен:</p> <p data-bbox="1034 1400 1481 1512">4. На каком физико-географическом объекте (мысе) расположен:</p> <p data-bbox="1034 1556 1481 1668">5. Какой субъект Российской Федерации окружает тот, в котором расположен памятник:</p>

№	Описание или изображение	Вопросы
3.		<p>1. Название мемориального комплекса:</p> <p>_____</p> <p>_____</p> <p>2. Субъект РФ, в котором расположен:</p> <p>_____</p> <p>3. С каким регионом России граничит субъект, в котором расположен памятник:</p> <p>_____</p>
4.	<p>История этого мемориального комплекса относится не только ко временам Великой Отечественной войны, но и к современности. 8 сентября 2022 года завершилась его реконструкция.</p> 	<p>1. Название мемориала:</p> <p>_____</p> <p>2. Субъект РФ, в котором расположен:</p> <p>_____</p> <p>3. В какой природной зоне находится территория этого мемориального комплекса:</p> <p>_____</p> <p>4. Памятник расположен на одной из высших точек этого протяженного орографического объекта. Укажите его:</p> <p>_____</p>

№	Описание или изображение	Вопросы
		

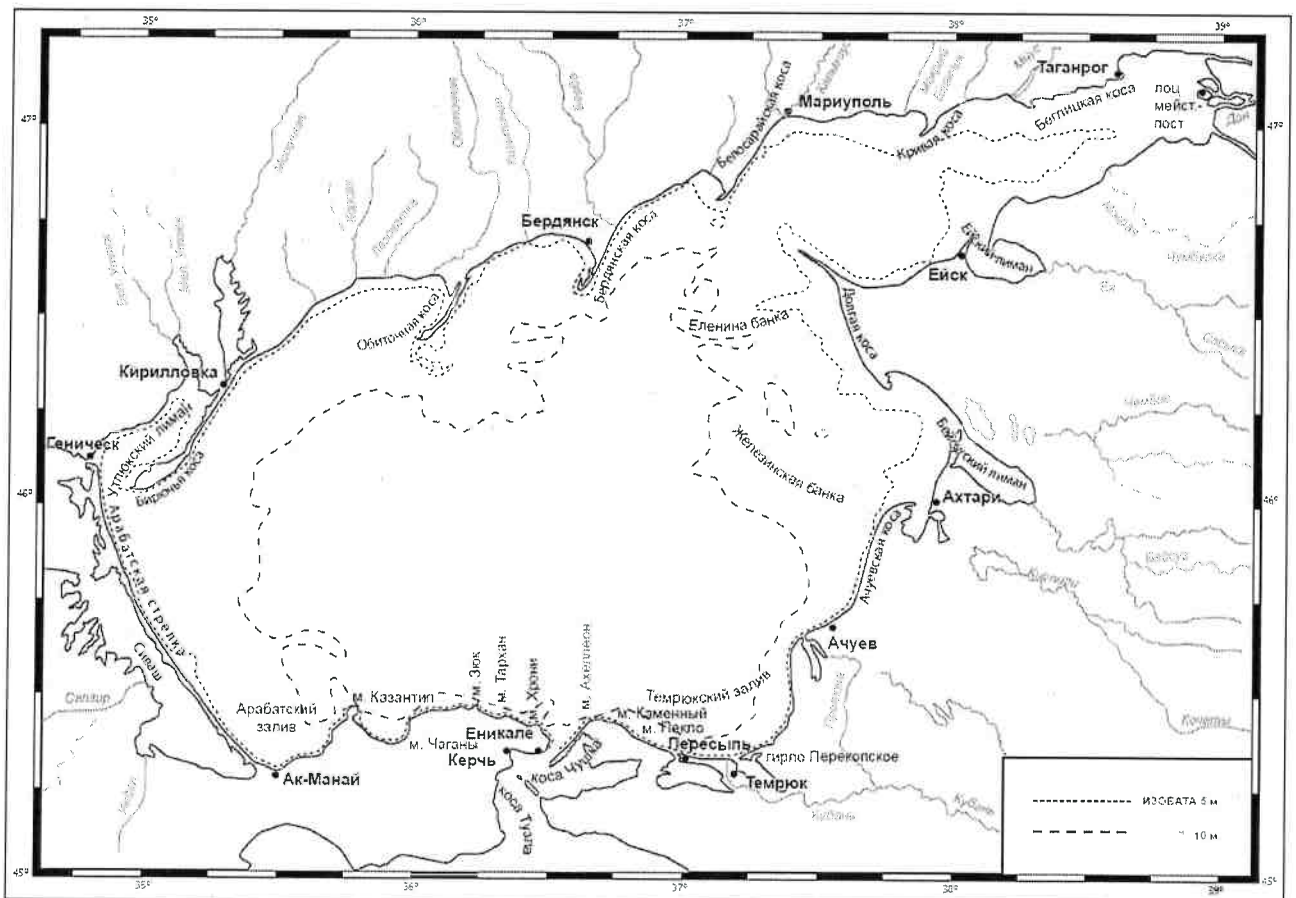
Максимальное количество баллов – 20.

Члены жюри (подписи) \_\_\_\_\_

(фактически  
набранное  
количество баллов)

#### Задание 4. «По морям...по волнам...»

На рисунке представлена карта одного из гидрологических объектов. Да, он невелик по своим размерам, но достаточно важен для жизни нашей страны. Вам необходимо определить, что это за объект и ответить на ряд вопросов. Для простоты формулировки ответа они сформулированы в форме таблицы.





№	Вопрос	Ответ
1.	Как называется этот гидрологический объект?	Белое море 0
2.	Берега какой страны он омывает?	Россия 1
3.	Какие регионы этой страны имеют выход к этому объекту?	1. _____ 2. _____ 3. _____ 4. _____ 5. _____ 6. _____
4.	Укажите две крупные наиболее известные реки, впадающие в этот объект	1. Дон 0,5 2. _____
5.	Как называются заливы, образованные в результате затопления морем долин рек из-за понижения уровня суши благодаря действию геологических процессов? В результате этого происходит смешивание пресных вод рек и соленых вод морей. Эти объекты также представлены на представленной береговой линии.	
6.	В акваторию этого объекта вдается великое множество узких продолговатых геоморфологических объектов. Два аналога таковых присутствуют и в Калининградской области. Как называются эти объекты?	Косы 1
7.	Как называется самый длинный объект (протяженность составляет 112 км), описанный в пункте 6 и расположенный в юго-западной части изучаемого объекта?	Арабатская стрелка 1
8.	Какова средняя глубина этого гидрологического объекта? А максимальная?	1. Средняя глубина: 5 м 2. Максимальная глубина: 10 м 0
9.	На дне этого объекта находятся возвышенности, на которых средняя глубина становится еще меньше. Как называются тип этих возвышенности (есть стеклянный аналог тары)?	
10.	С каким более крупным гидрологическим объектом соединяется искомый в южной части?	
11.	Как называется пролив между ними?	
12.	Какой важный инфраструктурный объект построен через этот пролив?	
13.	Назовите как можно больше портов, расположенных на берегах этого водоема.	1. Таганрог 0,5 2. Мариупольский порт 0,5 3. Ейск 0,5 4. Ахтари 5. Бердянск 0,5 6. Генчическ 7. Керчь 0,5 8. Темрюк 0,5
14.	Каким материалом сложено большинство пляжей вокруг этого объекта?	Песок 0

Максимальное количество баллов – 20.

Максимальное количество баллов за аналитический тур – 80.

Члены жюри (подписи) \_\_\_\_\_

(фактически  
набранное  
количество баллов)

61,5



**БЛАНК ЗАДАНИЙ**  
**муниципального этапа всероссийской олимпиады школьников**  
**по географии**  
(предмет)

**I ТУР (ТЕСТОВЫЙ)**

**2022/2023 учебный год**

**7 – 8 класс**

Общее время выполнения работы – **180 минут**.

На выполнение заданий I (тестового) тура отводится **60 минут**.

На II (аналитический) тур отводится **120 минут**.

При ответе на задания запрещено пользоваться школьными и прочими атласами, справочными материалами, а также учебниками, мобильными телефонами, карманными компьютерами! Желаем успеха!

Ответьте на поставленные вопросы, выбрав **один** правильный вариант ответа. При ответе на вопросы будьте очень внимательны, так как некоторые вопросы требуют определить неверный вариант или имеют формулировку с отрицанием.

**Не забудьте перенести свои ответы в бланк ответов (таблица)!**

1. Выберите правильное утверждение о расположении высочайшей точки России:

- 1) гора Белуха находится в Республике Алтай;
- 2) вулкан Ключевская Сопка расположен в Камчатском крае;
- 3) гора Эльбрус расположена на границе Кабардино-Балкарии и Карачаево-Черкесии;
- 4) гора Бештау находится в Ставропольском крае.

2. Выберите вариант ответа, в котором указаны столицы стран, имеющих выход к самому большому замкнутому водоему Земли:

- 1) Ашхабад, Тегеран, Баку, Астана; 2) Москва, Пекин, Улан-Батор, Астана;
- 3) Додома, Найроби, Кампала, Мапуту; 4) Дели, Катманду, Исламабад, Пекин.

3. В каком из вариантов ответа представлены только государства-архипелаги:

- 1) Мадагаскар, Непал, Мексика, Исландия; 2) Кирибати, Филиппины, Индонезия, Фиджи;
- 3) Туркменистан, Киргизия, Таджикистан, Узбекистан;
- 4) Португалия, Ирландия, Чили, Сомали.

4. Выберите верное утверждение, характеризующее географическое положение объектов:

- 1) Саудовская Аравия и Египет расположены на берегах Красного моря;
- 2) ЮАР и Намибия расположены в пустыне Сахара;
- 3) Марокко и Тунис расположены на берегу Индийского океана;
- 4) через Мавританию и Мали протекает река Нил.

5. Выберите вариант, в котором указаны субъекты России, расположенные на территории с избыточным увлажнением ( $K_u \gg 1$ ):

- 1) Ростовская обл., Ставропольский край, Луганская Народная Республика, Севастополь;
- 2) Приморский край, Чукотский авт. окр., Ямало-Ненецкий авт. окр., Мурманская обл.;
- 3) Респ. Алтай, Иркутская обл., Респ. Тыва, Курганская обл.;
- 4) Астраханская обл., Саратовская обл., Респ. Хакасия, Тамбовская обл.

6. В зону муссонной циркуляции атмосферы попадают такие территории как:

- 1) Красноярский край, Респ. Якутия, Ханты-Мансийский авт. окр., Респ. Бурятия;
- 2) Калининградская обл., Ленинградская обл., Санкт-Петербург, Псковская обл.;
- 3) Хабаровский край, Сахалинская обл., Амурская обл., Приморский край;
- 4) Респ. Марий Эл, Респ. Удмуртия, Респ. Татарстан, Кировская обл.

7. Выберите ряд стран, которые имеют выход к самым соленым морям:

- 1) Тунис, Италия, Саудовская Аравия, Эритрея;
- 2) Мозамбик, ЮАР, Танзания, Австралия;
- 3) Чили, Аргентина, Уругвай, Перу;
- 4) Индонезия, Малайзия, Вьетнам, Таиланд.

8. Выберите вариант, в котором указаны только опасные ледовые гидрологические явления:

- 1) наводнение, паводок, половодье; 2) обвал, осыпь, солифлюкция;
- 3) блуждающие огни, шепот звезд, трясина; 4) зажор, забереги, шуга;

9. Выберите правильное утверждение, указывающее на особенности географического положения географических объектов:

- 1) река Неман протекает по территории Белоруссии, Литвы и России;
- 2) остров Гренландия – это особый административный район Канады;
- 3) Россия и Таджикистан являются соседями первого порядка;
- 4) самая протяженная сухопутная граница у России с Китаем.

10. В составе древесных пород в России преобладают:

- 1) лиственница и сосна; 2) ель и пихта; 3) береза и дуб; 4) бук и граб.

11. Какое утверждение о размещении населения на определенных территориях Земли является верным:

- 1) самыми заселенными районами Австралии являются центральные;
- 2) максимальная плотность населения в США фиксируется на Востоке и Северо-Востоке;
- 3) самыми густонаселенными районами Европы являются Северная и Восточная Европа;
- 4) в Китае самыми слабозаселенными территориями являются Восток и Юго-Восток.

12. В каком географическом объекте расположен «Пуп Земли» (точка с географическими координатами  $0^{\circ}$  географической широты  $0^{\circ}$  географической долготы):

1) государство Нигерия; 2) г. Лондон; 3) горная система Гималаи; 4) Гвинейский залив.

13. Крупнейшим островом архипелага Японских островов является:

1) Хонсю; 2) Хоккайдо; 3) Кюсю; 4) Сикоку.

14. В каком случае амплитуда температур будет составлять  $58^{\circ}\text{C}$ :

1)  $-4^{\circ}\text{C}$  и  $+17^{\circ}\text{C}$ ; 2)  $+38^{\circ}\text{C}$  и  $+20^{\circ}\text{C}$ ; 3)  $-38^{\circ}\text{C}$  и  $+20^{\circ}\text{C}$ ; 4)  $-24^{\circ}\text{C}$  и  $+24^{\circ}\text{C}$  ?

15. Определите вариант ответа, в который закралась неточность:

1) река Нил впадает в Красное море; 2) река Нигер впадает в Гвинейский залив;

3) Суэцкий канал связывает Красное и Средиземное моря;

4) Средиземное море отделяет от вод Атлантического океана Гибралтарский пролив.

16. Выберите правильное сочетание «Природная зона – тип почв»:

1) влажные экваториальные леса – черноземы; 2) тайга – подзолистые;

3) степь – красно-желтые ферралитные; 4) тундра – каштановые.

17. Выберите вариант ответа, в котором указаны, не характерные для Калининградской области формы рельефа:

1) карстовые воронки, бугры пучения, плоскогорья;

2) всхолмленные равнины, конечно-моренные гряды, речные долины;

3) польдеры, низменности, возвышенности; 4) дюны, авандюны, камовые холмы.

18. Выберите «лишнее» сочетание географических объектов:

1) Нил, Нигер, Конго; 2) Амазонка, Тапажос, Парана; 3) Миссури, Миссисипи, Юкон;

4) Балхаш, Байкал, Иссык-Куль.

19. Выберите регион, в котором будет самая высокая вероятность циклонального типа погоды:

1) Сахалинская обл.; 2) Республика Тыва; 3) Свердловская обл.; 4) Иркутская обл.

20. Укажите вариант ответа, в котором перечислены горные области и территории, относящиеся к кайнозойской складчатости:

1) Срединный хребет, о. Сахалин, Кавказские горы;

2) Восточно-Европейская равнина, Среднесибирское плоскогорье, Становой хребет;

3) Верхоянский хребет, хребет Черского, Колымское нагорье;

4) Алтай, Саяны, Яблоновой хребет.

**Максимальное количество баллов – 20.**

## Бланк ответов

№ задания	Ответ	№ задания	Ответ
1.	3 ✓	11.	3
2.	2	12.	1
3.	2 ✓	13.	24
4.	1 ✓	14.	3 ✓
5.	2 ✓	15.	2
6.	2	16.	2 ✓
7.	1 ✓	17.	1 ✓
8.	1	18.	2
9.	4	19.	4
10.	3	20.	1 ✓

Член жюри : \_\_\_\_\_

(фактически  
набранное  
количество баллов)

9



**БЛАНК ЗАДАНИЙ**  
**муниципального этапа всероссийской олимпиады школьников**  
**по географии**  
(предмет)

**I ТУР (ТЕСТОВЫЙ)**

**2022/2023 учебный год**

**7 – 8 класс**

Общее время выполнения работы – **180 минут**.

На выполнение заданий I (тестового) тура отводится **60 минут**.

На II (аналитический) тур отводится **120 минут**.

При ответе на задания запрещено пользоваться школьными и прочими атласами, справочными материалами, а также учебниками, мобильными телефонами, карманными компьютерами! Желаем успеха!

Ответьте на поставленные вопросы, выбрав **один** правильный вариант ответа. При ответе на вопросы будьте очень внимательны, так как некоторые вопросы требуют определить неверный вариант или имеют формулировку с отрицанием.

**Не забудьте перенести свои ответы в бланк ответов (таблица)!**

1. Выберите правильное утверждение о расположении высочайшей точки России:

1) гора Белуха находится в Республике Алтай;

2) вулкан Ключевская Сопка расположен в Камчатском крае;

3) гора Эльбрус расположена на границе Кабардино-Балкарии и Карачаево-Черкесии;

4) гора Бештау находится в Ставропольском крае.

2. Выберите вариант ответа, в котором указаны столицы стран, имеющих выход к самому большому замкнутому водоему Земли:

1) Ашхабад, Тегеран, Баку, Астана; 2) Москва, Пекин, Улан-Батор, Астана;

3) Додома, Найроби, Кампала, Мапуту; 4) Дели, Катманду, Исламабад, Пекин.

3. В каком из вариантов ответа представлены только государства-архипелаги:

1) Мадагаскар, Непал, Мексика, Исландия; 2) Кирибати, Филиппины, Индонезия, Фиджи;

3) Туркменистан, Киргизия, Таджикистан, Узбекистан;

4) Португалия, Ирландия, Чили, Сомали.

4. Выберите верное утверждение, характеризующее географическое положение объектов:

1) Саудовская Аравия и Египет расположены на берегах Красного моря;

2) ЮАР и Намибия расположены в пустыне Сахара;

3) Марокко и Тунис расположены на берегу Индийского океана;

4) через Мавританию и Мали протекает река Нил.

5. Выберите вариант, в котором указаны субъекты России, расположенные на территории с избыточным увлажнением (Ку>>>1):
- 1) Ростовская обл., Ставропольский край, Луганская Народная Республика, Севастополь;
  - 2) Приморский край, Чукотский авт. окр., Ямало-Ненецкий авт. окр., Мурманская обл.;
  - 3) Респ. Алтай, Иркутская обл., Респ. Тыва, Курганская обл.;
  - 4) Астраханская обл., Саратовская обл., Респ. Хакасия, Тамбовская обл.
6. В зону муссонной циркуляции атмосферы попадают такие территории как:
- 1) Красноярский край, Респ. Якутия, Ханты-Мансийский авт. окр., Респ. Бурятия;
  - 2) Калининградская обл., Ленинградская обл., Санкт-Петербург, Псковская обл.;
  - 3) Хабаровский край, Сахалинская обл., Амурская обл., Приморский край;
  - 4) Респ. Марий Эл, Респ. Удмуртия, Респ. Татарстан, Кировская обл.
7. Выберите ряд стран, которые имеют выход к самым соленым морям:
- 1) Тунис, Италия, Саудовская Аравия, Эритрея;
  - 2) Мозамбик, ЮАР, Танзания, Австралия;
  - 3) Чили, Аргентина, Уругвай, Перу;
  - 4) Индонезия, Малайзия, Вьетнам, Таиланд.
8. Выберите вариант, в котором указаны только опасные ледовые гидрологические явления:
- 1) наводнение, паводок, половодье; 2) обвал, осыпь, солифлюкция;
  - 3) блуждающие огни, шепот звезд, трясина; 4) зажор, забереги, шуга;
9. Выберите правильное утверждение, указывающее на особенности географического положения географических объектов:
- 1) река Неман протекает по территории Белоруссии, Литвы и России;
  - 2) остров Гренландия – это особый административный район Канады;
  - 3) Россия и Таджикистан являются соседями первого порядка;
  - 4) самая протяженная сухопутная граница у России с Китаем.
10. В составе древесных пород в России преобладают:
- 1) лиственница и сосна; 2) ель и пихта; 3) береза и дуб; 4) бук и граб.
11. Какое утверждение о размещении населения на определенных территориях Земли является верным:
- 1) самыми заселенными районами Австралии являются центральные;
  - 2) максимальная плотность населения в США фиксируется на Востоке и Северо-Востоке;
  - 3) самыми густонаселенными районами Европы являются Северная и Восточная Европа;
  - 4) в Китае самыми слабозаселенными территориями являются Восток и Юго-Восток.

12. В каком географическом объекте расположен «Пуп Земли» (точка с географическими координатами  $0^{\circ}$  географической широты  $0^{\circ}$  географической долготы):
- 1) государство Нигерия;
  - 2) г. Лондон;
  - 3) горная система Гималаи;
  - 4) Гвинейский залив.
13. Крупнейшим островом архипелага Японских островов является:
- 1) Хонсю;
  - 2) Хоккайдо;
  - 3) Кюсю;
  - 4) Сикоку.
14. В каком случае амплитуда температур будет составлять  $58^{\circ}\text{C}$ :
- 1)  $-4^{\circ}\text{C}$  и  $+17^{\circ}\text{C}$ ;
  - 2)  $+38^{\circ}\text{C}$  и  $+20^{\circ}\text{C}$ ;
  - 3)  $-38^{\circ}\text{C}$  и  $+20^{\circ}\text{C}$ ;
  - 4)  $-24^{\circ}\text{C}$  и  $+24^{\circ}\text{C}$  ?
15. Определите вариант ответа, в который закралась неточность:
- 1) река Нил впадает в Красное море;
  - 2) река Нигер впадает в Гвинейский залив;
  - 3) Суэцкий канал связывает Красное и Средиземное моря;
  - 4) Средиземное море отделяет от вод Атлантического океана Гибралтарский пролив.
16. Выберите правильное сочетание «Природная зона – тип почв»:
- 1) влажные экваториальные леса – черноземы;
  - 2) тайга – подзолистые;
  - 3) степь – красно-желтые ферраллитные;
  - 4) тундра – каштановые.
17. Выберите вариант ответа, в котором указаны, не характерные для Калининградской области формы рельефа:
- 1) карстовые воронки, бугры пучения, плоскогорья;
  - 2) всхолмленные равнины, конечно-моренные гряды, речные долины;
  - 3) польдеры, низменности, возвышенности;
  - 4) дюны, авандюны, камовые холмы.
18. Выберите «лишнее» сочетание географических объектов:
- 1) Нил, Нигер, Конго;
  - 2) Амазонка, Тапажос, Парана;
  - 3) Миссури, Миссисипи, Юкон;
  - 4) Балхаш, Байкал, Иссык-Куль.
19. Выберите регион, в котором будет самая высокая вероятность циклонального типа погоды:
- 1) Сахалинская обл.;
  - 2) Республика Тыва;
  - 3) Свердловская обл.;
  - 4) Иркутская обл.
20. Укажите вариант ответа, в котором перечислены горные области и территории, относящиеся к кайнозойской складчатости:
- 1) Срединный хребет, о. Сахалин, Кавказские горы;
  - 2) Восточно-Европейская равнина, Среднесибирское плоскогорье, Становой хребет;
  - 3) Верхоянский хребет, хребет Черского, Колымское нагорье;
  - 4) Алтай, Саяны, Яблоновой хребет.

**Максимальное количество баллов – 20.**

## Бланк ответов

№ задания	Ответ	№ задания	Ответ
1.	3 ✓	11.	<del>4</del> 2 ✓
2.	1 ✓	12.	4 ✓
3.	2 ✓	13.	1 ✓
4.	1 ✓	14.	3 ✓
5.	1	15.	1 ✓
6.	3 ✓	16.	3
7.	1 ✓	17.	3
8.	1	18.	<del>4</del> 2
9.	1 ✓	19.	<del>2</del> 1 ✓
10.	2	20.	3

Член жюри : \_\_\_\_\_

(фактически  
набранное  
количество баллов)

13



**БЛАНК ЗАДАНИЙ**  
**муниципального этапа всероссийской олимпиады школьников**  
**по географии**  
(предмет)

**II ТУР (АНАЛИТИЧЕСКИЙ)**

**2022/2023 учебный год**

**7 – 8 класс**

Общее время выполнения работы – **180 минут**.

На II (аналитический) тур отводится **120 минут**.

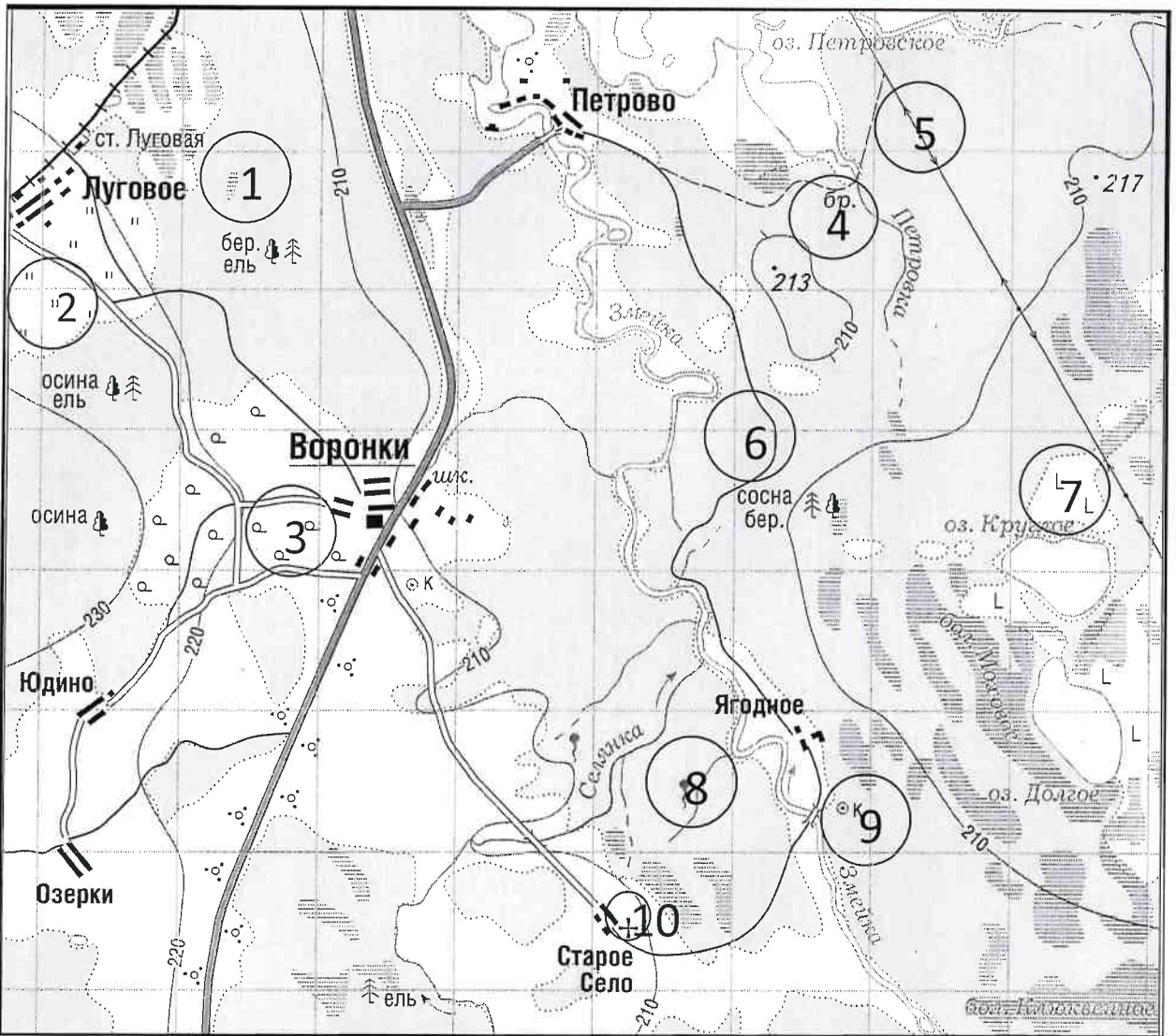
Максимально возможное количество баллов, которое Вы можете набрать на аналитическом туре, составляет 80 баллов.

При ответе на задания запрещено пользоваться школьными и прочими атласами, справочными материалами, а также учебниками, мобильными телефонами, карманными компьютерами! Желаем успеха!

**Задание 1. «Географы-практики».**

Перед Вами участок плана местности. Ответьте на поставленные ниже плана вопросы. Ответ внесите в таблицу.

1. Какие объекты обозначены на карте условными знаками № 1–10?
2. Определите, по какому азимуту необходимо двигаться от вершины холма с абсолютной высотой 213 м до школы.
3. Определите через сколько метров по высоте проведены горизонтالي (поперечное сечение рельефа).
4. Определите максимальную высоту на изображённой территории. Если невозможно указать точную цифру, то напишите ответ в виде интервала, например, более 50 м, но менее 55 м.
5. Водосборный бассейн какой реки показан на данной карте?
6. В каком направлении она протекает?
7. По какому искусственному сооружению проходит железная дорога, проходящая через станцию Луговая?
8. В какой лес Вы отправитесь, чтобы заготовить традиционные в России банные веники? Укажите цифру(ы) номера участка.
9. В какой природной зоне находится изображённая на карте территория?



№ элемента	Элемент ответа	Ответ
1.	1. Условный знак № 1	<i>бер. ель</i> 1
	2. Условный знак № 2	
	3. Условный знак № 3	<i>поле</i> 0
	4. Условный знак № 4	
	5. Условный знак № 5	
	6. Условный знак № 6	<i>лес</i> 1
	7. Условный знак № 7	
	8. Условный знак № 8	
	9. Условный знак № 9	
	10. Условный знак № 10	
2.	Азимут	
3.	Горизонтالي проведены через:	
4.	Максимальная высота	<i>230 м</i> 1
5.	Водосборный бассейн	<i>Змеинка</i> 1
6.	Направление течения реки	<i>на север</i> 1
7.	Искусственное железнодорожное сооружение	<i>перез.</i> 0
8.	Лес заготовки веников (номера)	<i>3</i> 0
9.	Природная зона	<i>тайга</i> 0

Максимальное количество баллов – 20.

Члены жюри (подписи) \_\_\_\_\_

(фактически набранное количество баллов)

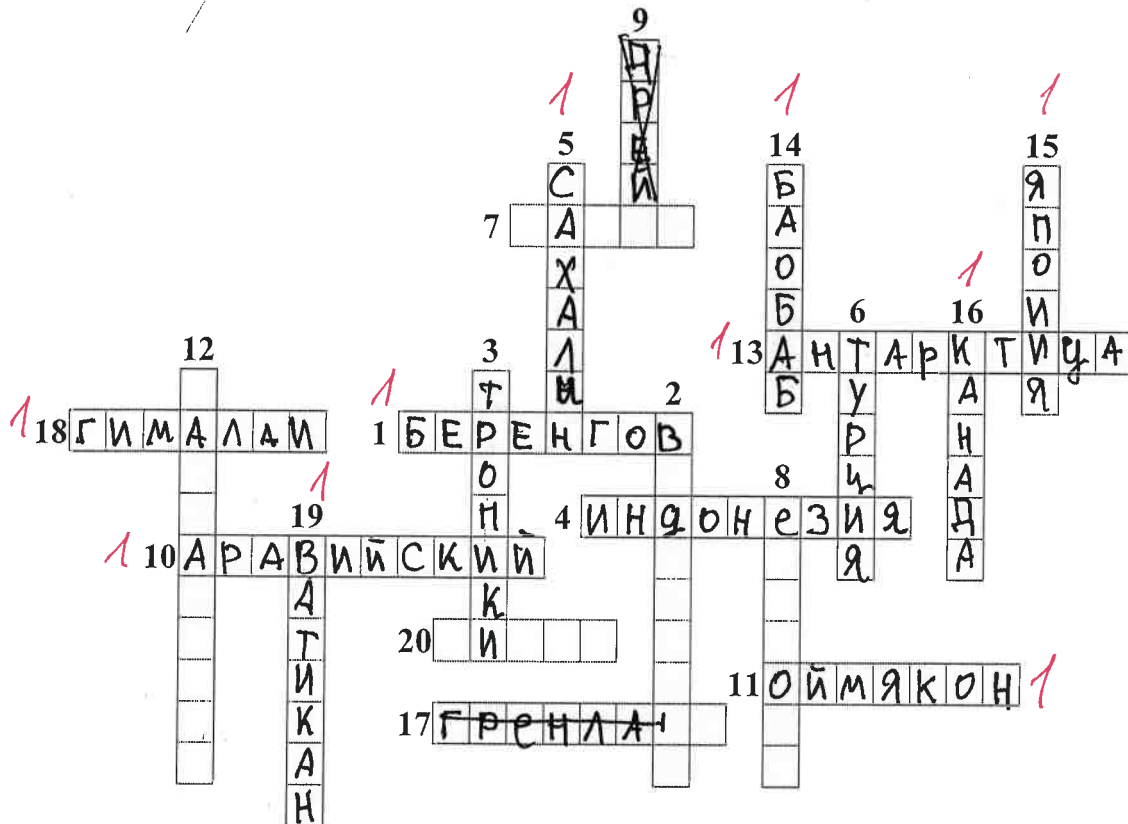
*5*

**Задание 2. Географическая разминка-кроссворд «По материкам и странам».**

Разгадайте предложенный кроссворд.

**По горизонтали.** 1. Название пролива между Россией и США. 4. Самый большой по площади архипелаг Земли. 7. Название залива, в котором зарегистрирована самая большая высота приливов (19,6 м). 10. Самый большой полуостров Земли. 11. Самый холодный населенный пункт России, «полюс холода» северного полушария. 13. Материк, на котором не бывает дождей. 17. Как называется полуостров, на котором находится значительная часть Королевства Дания? 18. Величайшая горная система, название которой с разных языков переводится как «снежная гора», «обитель снегов» и т.д. 20. Как называется местный сухой горячий шквалистый ветер юго-западного и западного направлений в пустыни Сахара и на Аравийском полуострове?

**По вертикали.** 2. Растение-эндемик пустыни Намиб с длинными листьями, умеющими впитывать влагу из воздуха. Растение, «растущее вниз». Увековечено на гербе Намибии. 3. Как называется крупный физико-географический район Земли, перевод названия которого с греческого языка означает «Территория под созвездием Большой Медведицы»? 5. Самый большой по площади территории остров России. 6. Какое государство занимает большую часть полуострова Малая Азия? 8. Самый высокий в мире древесный эндемик Северной Америки. 9. Узкий, длинный залив, окаймленный скалистыми берегами. Их много на Скандинавском полуострове. 12. Какое море называют «Морем без берегов»? 14. Самое распространенное дерево африканских саванн. Приспособилось накапливать влагу, чтобы пережить сухой сезон. 15. Крупнейшими островами какого государства являются Хонсю, Хоккайдо, Кюсю, Сикоку? 16. Страна, на флаге которой изображен кленовый лист. 19. Самое маленькое государство на планете (площадью всего лишь 0,44 км<sup>2</sup>).



Максимальное количество баллов – 20.

Члены жюри (подписи) \_\_\_\_\_

(фактически  
набранное  
количество баллов)




10



### Задание 3. Чтобы помнили...

В последние годы, к великому сожалению, в некоторых странах происходит забвение памяти павших героев в Великой Отечественной войне. Сносятся памятники, происходит отрицание событий того времени. Но в наше нелегкое время мы не должны забывать нашу историю.

В этом задании Вам предстоит изучить информацию о некоторых памятниках, посвященных событиям Великой Отечественной войны. В таблице даны описания или представлены изображения известных в нашей стране воинских мемориальных комплексов или памятников героям Великой Отечественной войны. Также сформулированы вопросы, связанные с этими мемориалами. Ответьте, пожалуйста, на них, занеся ответы в соответствующие строки третьего столбика.



№	Описание или изображение	Вопросы
1.	 <p data-bbox="523 577 799 607">Памятник-ансамбль</p>  <p data-bbox="576 1072 746 1102">Скульптура</p>	<p data-bbox="1034 203 1481 271">1. Название памятника-ансамбля: <u>Родина-мать 0</u></p> <p data-bbox="1034 315 1481 383">2. Название скульптуры памятника-ансамбля: <u>Родина-мать 1</u></p> <p data-bbox="1034 461 1481 528">3. Название возвышенности, на которой расположен: <u>Средне-Ручежная 0</u></p> <p data-bbox="1034 573 1481 640">4. В каком городе расположен: <u>Волгоград 1</u></p> <hr/> <p data-bbox="1034 730 1481 797">5. Название города до 1925 г.: <u>Царицын 0</u></p> <p data-bbox="1034 864 1481 931">6. Название города с: 1925 по 1961 гг.: <u>Сталинград 1</u></p>
2.		<p data-bbox="1034 1111 1481 1178">1. Название памятника: _____</p> <p data-bbox="1034 1189 1481 1256">2. В каком субъекте России расположен: _____</p> <p data-bbox="1034 1335 1481 1402">3. В каком городе расположен: _____</p> <p data-bbox="1034 1413 1481 1525">4. На каком физико-географическом объекте (мысе) расположен: _____</p> <p data-bbox="1034 1559 1481 1671">5. Какой субъект Российской Федерации окружает тот, в котором расположен памятник: _____</p>

№	Описание или изображение	Вопросы
3.		<p>1. Название мемориального комплекса:</p> <p>_____</p> <p>_____</p> <p>2. Субъект РФ, в котором расположен:</p> <p><u>Москва</u></p> <p>3. С каким регионом России граничит субъект, в котором расположен памятник:</p> <p><u>Московская область</u></p>
4.	<p>История этого мемориального комплекса относится не только ко временам Великой Отечественной войны, но и к современности. 8 сентября 2022 года завершилась его реконструкция.</p> 	<p>1. Название мемориала:</p> <p>_____</p> <p>2. Субъект РФ, в котором расположен:</p> <p>_____</p> <p>3. В какой природной зоне находится территория этого мемориального комплекса:</p> <p>_____</p> <p>4. Памятник расположен на одной из высших точек этого протяженного орографического объекта. Укажите его:</p> <p>_____</p>

№	Описание или изображение	Вопросы
		

Максимальное количество баллов – 20.

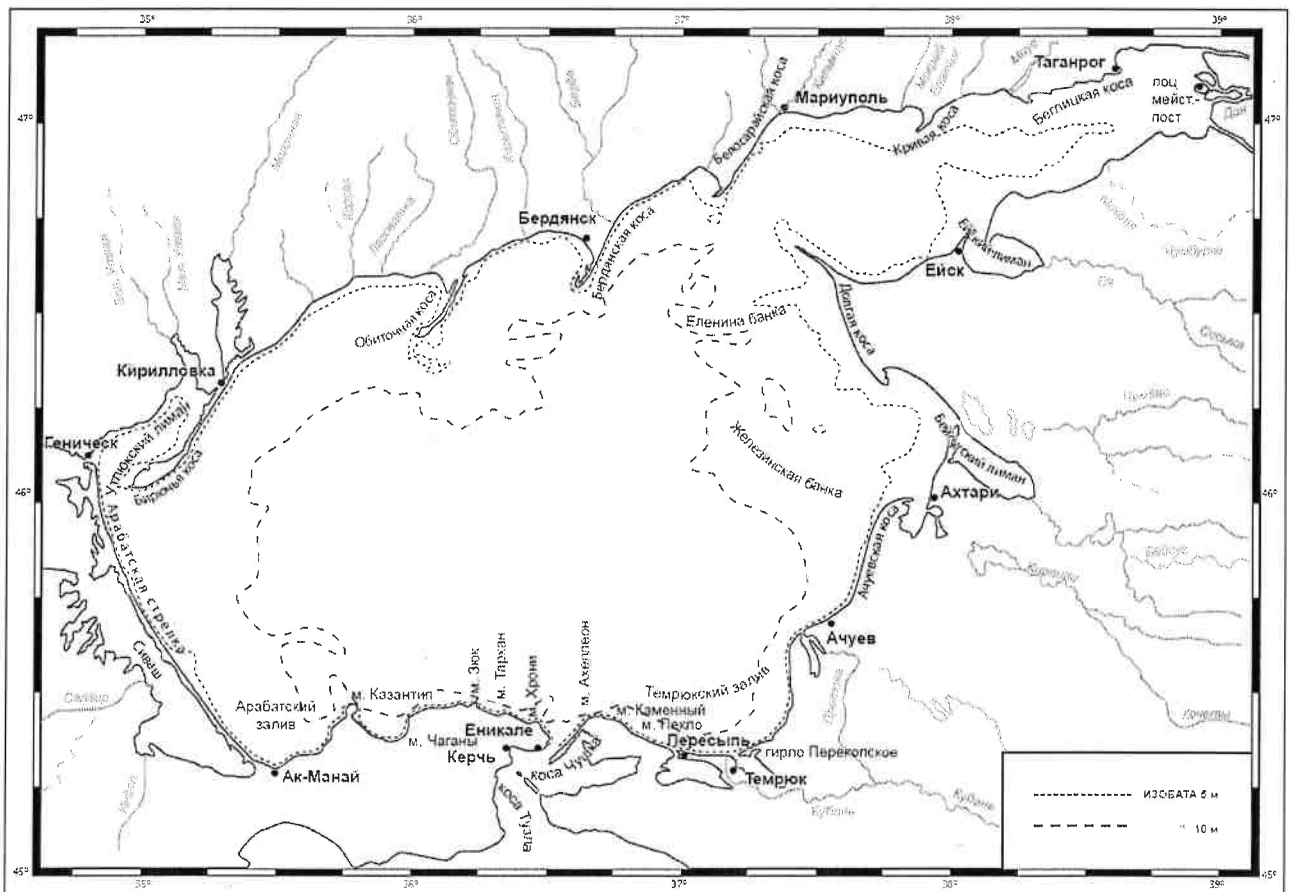
Члены жюри (подписи) \_\_\_\_\_

(фактически  
набранное  
количество баллов)

3

#### Задание 4. «По морям...по волнам...»

На рисунке представлена карта одного из гидрологических объектов. Да, он невелик по своим размерам, но достаточно важен для жизни нашей страны. Вам необходимо определить, что это за объект и ответить на ряд вопросов. Для простоты формулировки ответа они сформулированы в форме таблицы.





№	Вопрос	Ответ
1.	Как называется этот гидрологический объект?	Азовское море 1
2.	Берега какой страны он омывает?	Россия 1
3.	Какие регионы этой страны имеют выход к этому объекту?	1. Республика Крым 0,5 2. Ростовская область 0,5 3. Краснодарский край 0,5 4. Херсонской область 0,5 5. Закарпатская область 0,5 6. Луганская Народная Республика 0,5
4.	Укажите две крупные наиболее известные реки, впадающие в этот объект	1. Дон 0,5 2.
5.	Как называются заливы, образованные в результате затопления морем долин рек из-за понижения уровня суши благодаря действию геологических процессов? В результате этого происходит смешивание пресных вод рек и соленых вод морей. Эти объекты также представлены на представленной береговой линии.	Татарский залив 0
6.	В акваторию этого объекта вдается великое множество узких продолговатых геоморфологических объектов. Два аналога таковых присутствуют и в Калининградской области. Как называются эти объекты?	Косы 1
7.	Как называется самый длинный объект (протяженность составляет 112 км), описанный в пункте 6 и расположенный в юго-западной части изучаемого объекта?	Крымская коса 0
8.	Какова средняя глубина этого гидрологического объекта? А максимальная?	1. Средняя глубина: _____ м 0 2. Максимальная глубина: 15 м
9.	На дне этого объекта находятся возвышенности, на которых средняя глубина становится еще меньше. Как называются тип этих возвышенности (есть стеклянный аналог тары)?	
10.	С каким более крупным гидрологическим объектом соединяется искомый в южной части?	Черное море 1
11.	Как называется пролив между ними?	Херсонский пролив 1
12.	Какой важный инфраструктурный объект построен через этот пролив?	Крымский мост 1
13.	1. Азов 0,5 2. Таганрог 0,5 3. Мариуполь 0,5 4. Астара 5. Ак Махит 6. Бреджиски 0,5 7. Туркменская 0,5 8. Ачцеб.	
14.	Каким материалом сложено большинство пляжей вокруг этого объекта?	

Максимальное количество баллов – 20.

Максимальное количество баллов за аналитический тур – 80.

Члены жюри (подписи) \_\_\_\_\_

(фактически  
набранное  
количество баллов)

11

**БЛАНК ЗАДАНИЙ**  
**муниципального этапа всероссийской олимпиады школьников**  
**по географии**  
(предмет)

**I ТУР (ТЕСТОВЫЙ)**

**2022/2023 учебный год**

**7 – 8 класс**

Общее время выполнения работы – **180 минут**.

На выполнение заданий I (тестового) тура отводится **60 минут**.

На II (аналитический) тур отводится **120 минут**.

При ответе на задания запрещено пользоваться школьными и прочими атласами, справочными материалами, а также учебниками, мобильными телефонами, карманными компьютерами! Желаем успеха!

Ответьте на поставленные вопросы, выбрав **один** правильный вариант ответа. При ответе на вопросы будьте очень внимательны, так как некоторые вопросы требуют определить неверный вариант или имеют формулировку с отрицанием.

**Не забудьте перенести свои ответы в бланк ответов (таблица)!**

1. Выберите правильное утверждение о расположении высочайшей точки России:

- 1) гора Белуха находится в Республике Алтай;
- 2) вулкан Ключевская Сопка расположен в Камчатском крае;
- 3) гора Эльбрус расположена на границе Кабардино-Балкарии и Карачаево-Черкесии;
- 4) гора Бештау находится в Ставропольском крае.

2. Выберите вариант ответа, в котором указаны столицы стран, имеющих выход к самому большому замкнутому водоему Земли:

- 1) Ашхабад, Тегеран, Баку, Астана; 2) Москва, Пекин, Улан-Батор, Астана;
- 3) Додома, Найроби, Кампала, Мапуту; 4) Дели, Катманду, Исламабад, Пекин.

3. В каком из вариантов ответа представлены только государства-архипелаги:

- 1) Мадагаскар, Непал, Мексика, Исландия; 2) Кирибати, Филиппины, Индонезия, Фиджи;
- 3) Туркменистан, Киргизия, Таджикистан, Узбекистан;
- 4) Португалия, Ирландия, Чили, Сомали.

4. Выберите верное утверждение, характеризующее географическое положение объектов:

- 1) Саудовская Аравия и Египет расположены на берегах Красного моря;
- 2) ЮАР и Намибия расположены в пустыне Сахара;
- 3) Марокко и Тунис расположены на берегу Индийского океана;
- 4) через Мавританию и Мали протекает река Нил.



5. Выберите вариант, в котором указаны субъекты России, расположенные на территории с избыточным увлажнением (Ку>>>1):

- 1) Ростовская обл., Ставропольский край, Луганская Народная Республика, Севастополь;
- 2) Приморский край, Чукотский авт. окр., Ямало-Ненецкий авт. окр., Мурманская обл.;
- 3) Респ. Алтай, Иркутская обл., Респ. Тыва, Курганская обл.;
- 4) Астраханская обл., Саратовская обл., Респ. Хакасия, Тамбовская обл.

6. В зону муссонной циркуляции атмосферы попадают такие территории как:

- 1) Красноярский край, Респ. Якутия, Ханты-Мансийский авт. окр., Респ. Бурятия;
- 2) Калининградская обл., Ленинградская обл., Санкт-Петербург, Псковская обл.;
- 3) Хабаровский край, Сахалинская обл., Амурская обл., Приморский край;
- 4) Респ. Марий Эл, Респ. Удмуртия, Респ. Татарстан, Кировская обл.

7. Выберите ряд стран, которые имеют выход к самым соленым морям:

- 1) Тунис, Италия, Саудовская Аравия, Эритрея;
- 2) Мозамбик, ЮАР, Танзания, Австралия;
- 3) Чили, Аргентина, Уругвай, Перу;
- 4) Индонезия, Малайзия, Вьетнам, Таиланд.

8. Выберите вариант, в котором указаны только опасные ледовые гидрологические явления:

- 1) наводнение, паводок, половодье; 2) обвал, осыпь, солифлюкция;
- 3) блуждающие огни, шепот звезд, трясина; 4) зажор, забереги, шуга;

9. Выберите правильное утверждение, указывающее на особенности географического положения географических объектов:

- 1) река Неман протекает по территории Белоруссии, Литвы и России;
- 2) остров Гренландия – это особый административный район Канады;
- 3) Россия и Таджикистан являются соседями первого порядка;
- 4) самая протяженная сухопутная граница у России с Китаем.

10. В составе древесных пород в России преобладают:

- 1) лиственница и сосна; 2) ель и пихта; 3) береза и дуб; 4) бук и граб.

11. Какое утверждение о размещении населения на определенных территориях Земли является верным:

- 1) самыми заселенными районами Австралии являются центральные;
- 2) максимальная плотность населения в США фиксируется на Востоке и Северо-Востоке;
- 3) самыми густонаселенными районами Европы являются Северная и Восточная Европа;
- 4) в Китае самыми слабозаселенными территориями являются Восток и Юго-Восток.

12. В каком географическом объекте расположен «Пуп Земли» (точка с географическими координатами  $0^0$  географической широты  $0^0$  географической долготы):

1) государство Нигерия; 2) г. Лондон; 3) горная система Гималаи; 4) Гвинейский залив.

13. Крупнейшим островом архипелага Японских островов является:

1) Хонсю; 2) Хоккайдо; 3) Кюсю; 4) Сикоку.

14. В каком случае амплитуда температур будет составлять  $58^0\text{C}$ :

1)  $-4^0\text{C}$  и  $+17^0\text{C}$ ; 2)  $+38^0\text{C}$  и  $+20^0\text{C}$ ; 3)  $-38^0\text{C}$  и  $+20^0\text{C}$ ; 4)  $-24^0\text{C}$  и  $+24^0\text{C}$  ?

15. Определите вариант ответа, в который закралась неточность:

1) река Нил впадает в Красное море; 2) река Нигер впадает в Гвинейский залив;

3) Суэцкий канал связывает Красное и Средиземное моря;

4) Средиземное море отделяет от вод Атлантического океана Гибралтарский пролив.

16. Выберите правильное сочетание «Природная зона – тип почв»:

1) влажные экваториальные леса – черноземы; 2) тайга – подзолистые;

3) степь – красно-желтые ферраллитные; 4) тундра – каштановые.

17. Выберите вариант ответа, в котором указаны, не характерные для Калининградской области формы рельефа:

1) карстовые воронки, бугры пучения, плоскогорья;

2) всхолмленные равнины, конечно-моренные гряды, речные долины;

3) польдеры, низменности, возвышенности; 4) дюны, авантюны, камовые холмы.

18. Выберите «лишнее» сочетание географических объектов:

1) Нил, Нигер, Конго; 2) Амазонка, Тапажос, Парана; 3) Миссури, Миссисипи, Юкон;

4) Балхаш, Байкал, Иссык-Куль.

19. Выберите регион, в котором будет самая высокая вероятность циклонального типа погоды:

1) Сахалинская обл.; 2) Республика Тыва; 3) Свердловская обл.; 4) Иркутская обл.

20. Укажите вариант ответа, в котором перечислены горные области и территории, относящиеся к кайнозойской складчатости:

1) Срединный хребет, о. Сахалин, Кавказские горы;

2) Восточно-Европейская равнина, Среднесибирское плоскогорье, Становой хребет;

3) Верхоянский хребет, хребет Черского, Колымское нагорье;

4) Алтай, Саяны, Яблоновой хребет.

**Максимальное количество баллов – 20.**

## Бланк ответов

№ задания	Ответ	№ задания	Ответ
1.	3 ✓	11.	2 ✓
2.	4 ✓	12.	4 ✓
3.	2 ✓	13.	3
4.	1 ✓	14.	2
5.	1	15.	4
6.	2	16.	2 ✓
7.	4	17.	4 ✓
8.	1	18.	2
9.	1 ✓	19.	1 ✓
10.	2	20.	3

Член жюри : \_\_\_\_\_

(фактически  
набранное  
количество баллов)

10

**БЛАНК ЗАДАНИЙ****муниципального этапа всероссийской олимпиады школьников****по географии**

(предмет)

**II ТУР (АНАЛИТИЧЕСКИЙ)****2022/2023 учебный год****7 – 8 класс**Общее время выполнения работы – **180 минут**.На II (аналитический) тур отводится **120 минут**.

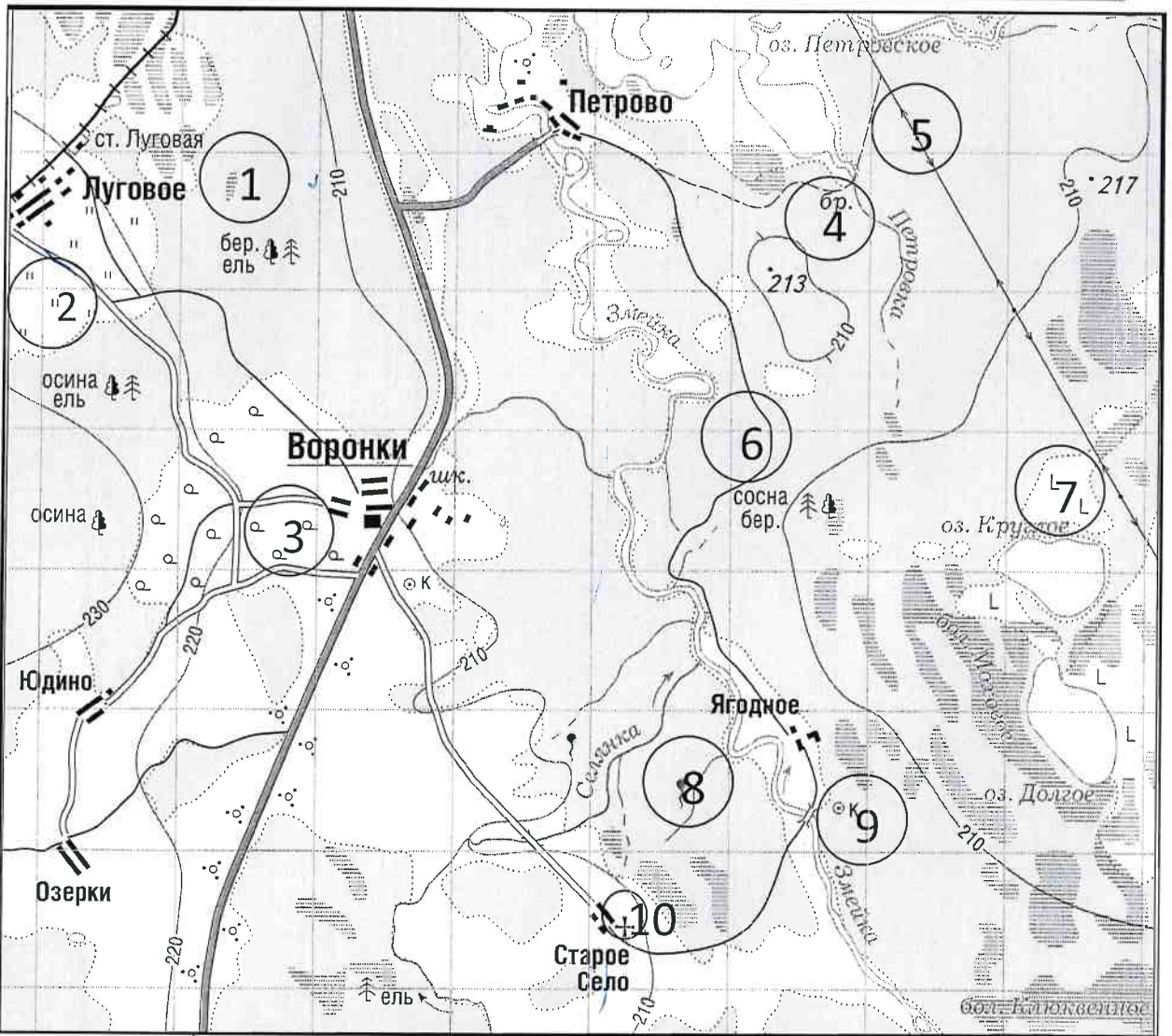
Максимально возможное количество баллов, которое Вы можете набрать на аналитическом туре, составляет 80 баллов.

При ответе на задания запрещено пользоваться школьными и прочими атласами, справочными материалами, а также учебниками, мобильными телефонами, карманными компьютерами! Желаем успеха!

**Задание 1. «Географы-практики».**

Перед Вами участок плана местности. Ответьте на поставленные ниже плана вопросы. Ответ внесите в таблицу.

1. Какие объекты обозначены на карте условными знаками № 1–10?
2. Определите, по какому азимуту необходимо двигаться от вершины холма с абсолютной высотой 213 м до школы.
3. Определите через сколько метров по высоте проведены горизонтالي (поперечное сечение рельефа).
4. Определите максимальную высоту на изображённой территории. Если невозможно указать точную цифру, то напишите ответ в виде интервала, например, более 50 м, но менее 55 м.
5. Водосборный бассейн какой реки показан на данной карте?
6. В каком направлении она протекает?
7. По какому искусственному сооружению проходит железная дорога, проходящая через станцию Луговая?
8. В какой лес Вы отправитесь, чтобы заготовить традиционные в России банные веники? Укажите цифру(ы) номера участка.
9. В какой природной зоне находится изображённая на карте территория?



№ элемента	Элемент ответа	Ответ
1.	1. Условный знак № 1	<i>Сильное разрастание</i> 0
	2. Условный знак № 2	<i>Кусты</i> 0
	3. Условный знак № 3	<i>столы сена</i> 0
	4. Условный знак № 4	<i>брызг</i> 0
	5. Условный знак № 5	
	6. Условный знак № 6	
	7. Условный знак № 7	
	8. Условный знак № 8	
	9. Условный знак № 9	
	10. Условный знак № 10	
2.	Азимут	
3.	Горизонталы проведены через:	
4.	Максимальная высота	
5.	Водосборный бассейн	
6.	Направление течения реки	<i>Сверное</i> 1
7.	Искусственное железнодорожное сооружение	<i>Малышуров</i> 0
8.	Лес заготовки веников (номера)	<i>1, 2, 6</i> 1
9.	Природная зона	<i>Смешанная</i> 3

Максимальное количество баллов – 20.

Члены жюри (подписи) \_\_\_\_\_

(фактически набранное количество баллов)

*5*

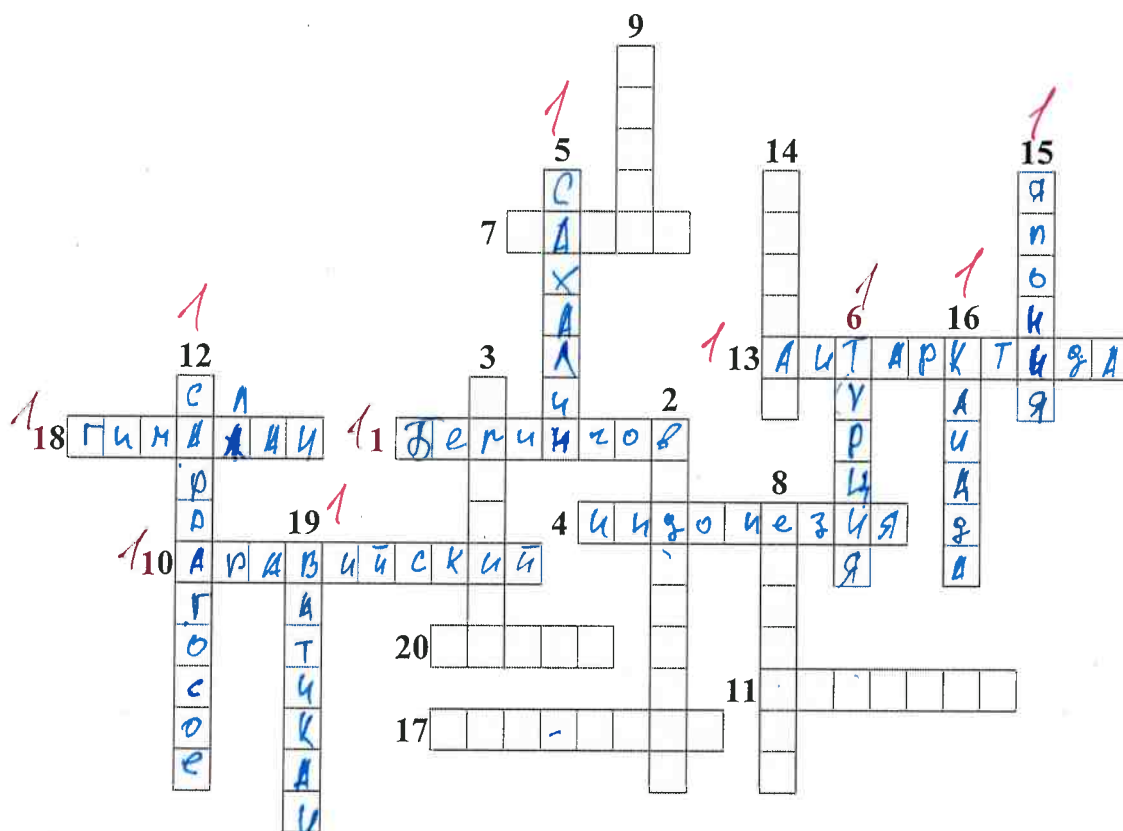


**Задание 2. Географическая разминка-кроссворд «По материкам и странам».**

Разгадайте предложенный кроссворд.

**По горизонтали.** 1. Название пролива между Россией и США. 4. Самый большой по площади архипелаг Земли. 7. Название залива, в котором зарегистрирована самая большая высота приливов (19,6 м). 10. Самый большой полуостров Земли. 11. Самый холодный населенный пункт России, «полюс холода» северного полушария. 13. Материк, на котором не бывает дождей. 17. Как называется полуостров, на котором находится значительная часть Королевства Дания? 18. Величайшая горная система, название которой с разных языков переводится как «снежная гора», «обитель снегов» и т.д. 20. Как называется местный сухой горячий шквалистый ветер юго-западного и западного направлений в пустыни Сахара и на Аравийском полуострове?

**По вертикали.** 2. Растение-эндемик пустыни Намиб с длинными листьями, умеющими впитывать влагу из воздуха. Растение, «растущее вниз». Увековечено на гербе Намибии. 3. Как называется крупный физико-географический район Земли, перевод названия которого с греческого языка означает «Территория под созвездием Большой Медведицы»? 5. Самый большой по площади территории остров России. 6. Какое государство занимает большую часть полуострова Малая Азия? 8. Самый высокий в мире древесный эндемик Северной Америки. 9. Узкий, длинный залив, окаймленный скалистыми берегами. Их много на Скандинавском полуострове. 12. Какое море называют «Морем без берегов»? 14. Самое распространенное дерево африканских саванн. Приспособилось накапливать влагу, чтобы пережить сухой сезон. 15. Крупнейшими островами какого государства являются Хонсю, Хоккайдо, Кюсю, Сикоку? 16. Страна, на флаге которой изображен кленовый лист. 19. Самое маленькое государство на планете (площадью всего лишь 0,44 км<sup>2</sup>).



Максимальное количество баллов – 20.

Члены жюри (подписи) \_\_\_\_\_




(фактически  
набранное  
количество баллов)


10

### Задание 3. Чтобы помнили...

В последние годы, к великому сожалению, в некоторых странах происходит забвение памяти павших героев в Великой Отечественной войне. Сносятся памятники, происходит отрицание событий того времени. Но в наше нелегкое время мы не должны забывать нашу историю.

В этом задании Вам предстоит изучить информацию о некоторых памятниках, посвященных событиям Великой Отечественной войны. В таблице даны описания или представлены изображения известных в нашей стране воинских мемориальных комплексов или памятников героям Великой Отечественной войны. Также сформулированы вопросы, связанные с этими мемориалами. Ответьте, пожалуйста, на них, занеся ответы в соответствующие строки третьего столбика.

№	Описание или изображение	Вопросы
1.	 <p data-bbox="523 571 802 604">Памятник-ансамбль</p>  <p data-bbox="579 1066 746 1102">Скульптура</p>	<p data-bbox="1034 203 1489 271">1. Название памятника-ансамбля: <u>Мать зовёт</u> 0</p> <p data-bbox="1034 309 1489 427">2. Название скульптуры памятника-ансамбля: <u>Я Родина-мать</u> 1</p> <p data-bbox="1034 461 1489 580">3. Название возвышенности, на которой расположен: <u>Мамыев курган</u> 1</p> <p data-bbox="1034 568 1489 687">4. В каком городе расположен: <u>Волгоград</u> 1</p> <p data-bbox="1034 721 1489 808">5. Название города до 1925 г.: <u>Царицын</u> 1</p> <p data-bbox="1034 860 1489 978">6. Название города с: 1925 по 1961 гг.: <u>Сталинград</u> 1</p>
2.		<p data-bbox="1034 1108 1489 1176">1. Название памятника: _____</p> <p data-bbox="1034 1182 1489 1279">2. В каком субъекте России расположен: _____</p> <p data-bbox="1034 1330 1489 1397">3. В каком городе расположен: _____</p> <p data-bbox="1034 1404 1489 1500">4. На каком физико-географическом объекте (мысе) расположен: _____</p> <p data-bbox="1034 1552 1489 1671">5. Какой субъект Российской Федерации окружает тот, в котором расположен памятник: _____</p>

№	Описание или изображение	Вопросы
3.		<p>1. Название мемориального комплекса:</p> <p>_____</p> <p>_____</p> <p>2. Субъект РФ, в котором расположен:</p> <p>_____</p> <p>3. С каким регионом России граничит субъект, в котором расположен памятник:</p> <p>_____</p>
4.	<p>История этого мемориального комплекса относится не только ко временам Великой Отечественной войны, но и к современности. 8 сентября 2022 года завершилась его реконструкция.</p> 	<p>1. Название мемориала:</p> <p>_____</p> <p>2. Субъект РФ, в котором расположен:</p> <p>_____</p> <p>3. В какой природной зоне находится территория этого мемориального комплекса:</p> <p>_____</p> <p>4. Памятник расположен на одной из высших точек этого протяженного орографического объекта. Укажите его:</p> <p>_____</p>



№	Описание или изображение	Вопросы
		

Максимальное количество баллов – 20.

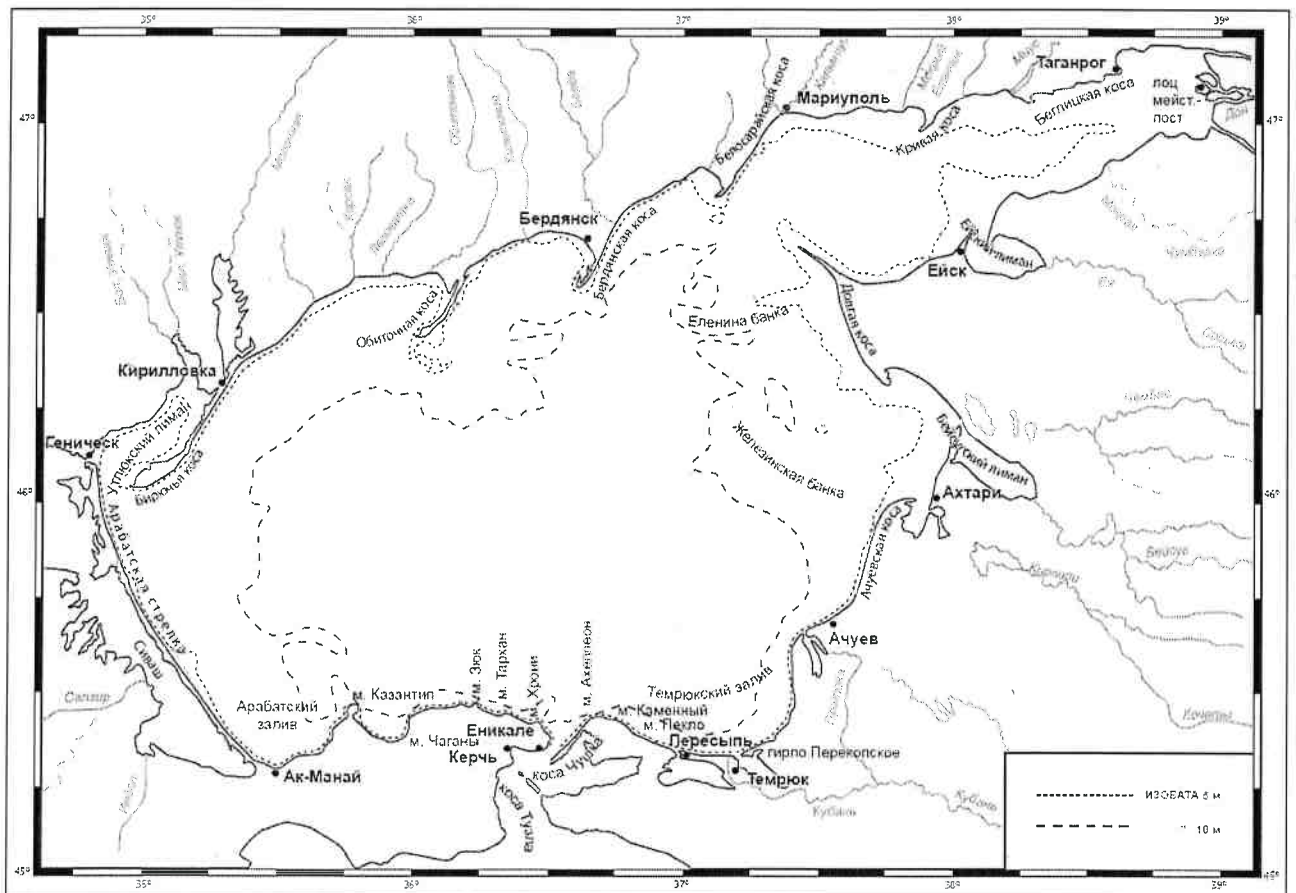
Члены жюри (подписи) \_\_\_\_\_

(фактически  
набранное  
количество баллов)

5

#### Задание 4. «По морям... по волнам...»

На рисунке представлена карта одного из гидрологических объектов. Да, он невелик по своим размерам, но достаточно важен для жизни нашей страны. Вам необходимо определить, что это за объект и ответить на ряд вопросов. Для простоты формулировки ответа они сформулированы в форме таблицы.





№	Вопрос	Ответ
1.	Как называется этот гидрологический объект?	Азовское море 1
2.	Берега какой страны он омывает?	Россия 1 и это территория Украины
3.	Какие регионы этой страны имеют выход к этому объекту?	1. Ростовская область 0,5 2. Донецкая Народная Республика 0,5 3. Закарпатская область 0,5 4. Краснодарский край 0,5 5. Ростовская область 0,5 6. Тернопольская область 0,5 3
4.	Укажите две крупные наиболее известные реки, впадающие в этот объект	1. Дон 0,5 2. Кубань 0,5
5.	Как называются заливы, образованные в результате затопления морем долин рек из-за понижения уровня суши благодаря действию геологических процессов? В результате этого происходит смешивание пресных вод рек и соленых вод морей. Эти объекты также представлены на представленной береговой линии.	Ближневосточная и Куршская косы Мрамор 1
6.	В акваторию этого объекта вдается великое множество узких продолговатых геоморфологических объектов. Два аналога таковых присутствуют и в Калининградской области. Как называются эти объекты?	Большинская и Куршская косы 1
7.	Как называется самый длинный объект (протяженность составляет 112 км), описанный в пункте 6 и расположенный в юго-западной части изучаемого объекта?	Арташская сирень 1
8.	Какова средняя глубина этого гидрологического объекта? А максимальная?	1. Средняя глубина: 5-10 м 2. Максимальная глубина: 5 м 0
9.	На дне этого объекта находятся возвышенности, на которых средняя глубина становится еще меньше. Как называются тип этих возвышенности (есть стеклянный аналог тары)?	
10.	С каким более крупным гидрологическим объектом соединяется искомый в южной части?	Черное море 1
11.	Как называется пролив между ними?	Керченский пролив 1
12.	Какой важный инфраструктурный объект построен через этот пролив?	Керченский мост 1
13.	Назовите как можно больше портов, расположенных на берегах этого водоема.	1. Керчь 0,5 2. Енаклиево 0,5 3. Белогорск 0,5 4. Мариуполь 0,5 5. Вилк 0,5 6. Куршавка 7. Фичев 8. Перишан 0,5 3
14.	Каким материалом сложено большинство пляжей вокруг этого объекта?	

Максимальное количество баллов – 20.

Максимальное количество баллов за аналитический тур – 80.

Члены жюри (подписи) \_\_\_\_\_

(фактически набранное количество баллов)

14

**БЛАНК ЗАДАНИЙ**  
**муниципального этапа всероссийской олимпиады школьников**  
**по географии**  
(предмет)

**I ТУР (ТЕСТОВЫЙ)**

**2022/2023 учебный год**

**7 – 8 класс**

Общее время выполнения работы – **180 минут**.

На выполнение заданий I (тестового) тура отводится **60 минут**.

На II (аналитический) тур отводится **120 минут**.

При ответе на задания запрещено пользоваться школьными и прочими атласами, справочными материалами, а также учебниками, мобильными телефонами, карманными компьютерами! Желаем успеха!

Ответьте на поставленные вопросы, выбрав **один** правильный вариант ответа. При ответе на вопросы будьте очень внимательны, так как некоторые вопросы требуют определить неверный вариант или имеют формулировку с отрицанием.

**Не забудьте перенести свои ответы в бланк ответов (таблица)!**

1. Выберите правильное утверждение о расположении высочайшей точки России:
  - 1) гора Белуха находится в Республике Алтай;
  - 2) вулкан Ключевская Сопка расположен в Камчатском крае;
  - 3) гора Эльбрус расположена на границе Кабардино-Балкарии и Карачаево-Черкесии;
  - 4) гора Бештау находится в Ставропольском крае.
2. Выберите вариант ответа, в котором указаны столицы стран, имеющих выход к самому большому замкнутому водоему Земли:
  - 1) Ашхабад, Тегеран, Баку, Астана; 2) Москва, Пекин, Улан-Батор, Астана;
  - 3) Додома, Найроби, Кампала, Мапуту; 4) Дели, Катманду, Исламабад, Пекин.
3. В каком из вариантов ответа представлены только государства-архипелаги:
  - 1) Мадагаскар, Непал, Мексика, Исландия; 2) Кирибати, Филиппины, Индонезия, Фиджи;
  - 3) Туркменистан, Киргизия, Таджикистан, Узбекистан;
  - 4) Португалия, Ирландия, Чили, Сомали.
4. Выберите верное утверждение, характеризующее географическое положение объектов:
  - 1) Саудовская Аравия и Египет расположены на берегах Красного моря;
  - 2) ЮАР и Намибия расположены в пустыне Сахара;
  - 3) Марокко и Тунис расположены на берегу Индийского океана;
  - 4) через Мавританию и Мали протекает река Нил.

5. Выберите вариант, в котором указаны субъекты России, расположенные на территории с избыточным увлажнением ( $K_{у} \gg 1$ ):
- 1) Ростовская обл., Ставропольский край, Луганская Народная Республика, Севастополь;
  - 2) Приморский край, Чукотский авт. окр., Ямало-Ненецкий авт. окр., Мурманская обл.;
  - 3) Респ. Алтай, Иркутская обл., Респ. Тыва, Курганская обл.;
  - 4) Астраханская обл., Саратовская обл., Респ. Хакасия, Тамбовская обл.
6. В зону муссонной циркуляции атмосферы попадают такие территории как:
- 1) Красноярский край, Респ. Якутия, Ханты-Мансийский авт. окр., Респ. Бурятия;
  - 2) Калининградская обл., Ленинградская обл., Санкт-Петербург, Псковская обл.;
  - 3) Хабаровский край, Сахалинская обл., Амурская обл., Приморский край;
  - 4) Респ. Марий Эл, Респ. Удмуртия, Респ. Татарстан, Кировская обл.
7. Выберите ряд стран, которые имеют выход к самым соленым морям:
- 1) Тунис, Италия, Саудовская Аравия, Эритрея;
  - 2) Мозамбик, ЮАР, Танзания, Австралия;
  - 3) Чили, Аргентина, Уругвай, Перу;
  - 4) Индонезия, Малайзия, Вьетнам, Таиланд.
8. Выберите вариант, в котором указаны только опасные ледовые гидрологические явления:
- 1) наводнение, паводок, половодье; 2) обвал, осыпь, солифлюкция;
  - 3) блуждающие огни, шепот звезд, трясина; 4) зажор, забереги, шуга;
9. Выберите правильное утверждение, указывающее на особенности географического положения географических объектов:
- 1) река Неман протекает по территории Белоруссии, Литвы и России;
  - 2) остров Гренландия – это особый административный район Канады;
  - 3) Россия и Таджикистан являются соседями первого порядка;
  - 4) самая протяженная сухопутная граница у России с Китаем.
10. В составе древесных пород в России преобладают:
- 1) лиственница и сосна; 2) ель и пихта; 3) береза и дуб; 4) бук и граб.
11. Какое утверждение о размещении населения на определенных территориях Земли является верным:
- 1) самыми заселенными районами Австралии являются центральные;
  - 2) максимальная плотность населения в США фиксируется на Востоке и Северо-Востоке;
  - 3) самыми густонаселенными районами Европы являются Северная и Восточная Европа;
  - 4) в Китае самыми слабозаселенными территориями являются Восток и Юго-Восток.

12. В каком географическом объекте расположен «Пуп Земли» (точка с географическими координатами  $0^{\circ}$  географической широты  $0^{\circ}$  географической долготы):
- 1) государство Нигерия;
  - 2) г. Лондон;
  - 3) горная система Гималаи;
  - 4) Гвинейский залив.
13. Крупнейшим островом архипелага Японских островов является:
- 1) Хонсю;
  - 2) Хоккайдо;
  - 3) Кюсю;
  - 4) Сикоку.
14. В каком случае амплитуда температур будет составлять  $58^{\circ}\text{C}$ :
- 1)  $-4^{\circ}\text{C}$  и  $+17^{\circ}\text{C}$ ;
  - 2)  $+38^{\circ}\text{C}$  и  $+20^{\circ}\text{C}$ ;
  - 3)  $-38^{\circ}\text{C}$  и  $+20^{\circ}\text{C}$ ;
  - 4)  $-24^{\circ}\text{C}$  и  $+24^{\circ}\text{C}$  ?
15. Определите вариант ответа, в который закралась неточность:
- 1) река Нил впадает в Красное море;
  - 2) река Нигер впадает в Гвинейский залив;
  - 3) Суэцкий канал связывает Красное и Средиземное моря;
  - 4) Средиземное море отделяет от вод Атлантического океана Гибралтарский пролив.
16. Выберите правильное сочетание «Природная зона – тип почв»:
- 1) влажные экваториальные леса – черноземы;
  - 2) тайга – подзолистые;
  - 3) степь – красно-желтые ферраллитные;
  - 4) тундра – каштановые.
17. Выберите вариант ответа, в котором указаны, не характерные для Калининградской области формы рельефа:
- 1) карстовые воронки, бугры пучения, плоскогорья;
  - 2) всхолмленные равнины, конечно-моренные гряды, речные долины;
  - 3) польдеры, низменности, возвышенности;
  - 4) дюны, авандюны, камовые холмы.
18. Выберите «лишнее» сочетание географических объектов:
- 1) Нил, Нигер, Конго;
  - 2) Амазонка, Тапажос, Парана;
  - 3) Миссури, Миссисипи, Юкон;
  - 4) Балхаш, Байкал, Иссык-Куль.
19. Выберите регион, в котором будет самая высокая вероятность циклонального типа погоды:
- 1) Сахалинская обл.;
  - 2) Республика Тыва;
  - 3) Свердловская обл.;
  - 4) Иркутская обл.
20. Укажите вариант ответа, в котором перечислены горные области и территории, относящиеся к кайнозойской складчатости:
- 1) Срединный хребет, о. Сахалин, Кавказские горы;
  - 2) Восточно-Европейская равнина, Среднесибирское плоскогорье, Становой хребет;
  - 3) Верхоянский хребет, хребет Черского, Колымское нагорье;
  - 4) Алтай, Саяны, Яблоновой хребет.

**Максимальное количество баллов – 20.**

## Бланк ответов

№ задания	Ответ	№ задания	Ответ
1.	2)	11.	2) ✓
2.	4)	12.	1)
3.	2) ✓	13.	1) ✓
4.	1) ✓	14.	3) ✓
5.	4) -	15.	3)
6.	4)	16.	2) ✓
7.	1) ✓	17.	<del>2) - 1)</del> ✓
8.	4) ✓	18.	4) ✓
9.	1) ✓	19.	1) ✓
10.	<del>3) 2)</del>	20.	3)

Член жюри : \_\_\_\_\_

(фактически  
набранное  
количество баллов)

12



**БЛАНК ЗАДАНИЙ**  
**муниципального этапа всероссийской олимпиады школьников**  
**по географии**  
(предмет)

**II ТУР (АНАЛИТИЧЕСКИЙ)**

**2022/2023 учебный год**

**7 – 8 класс**

Общее время выполнения работы – **180 минут**.

На II (аналитический) тур отводится **120 минут**.

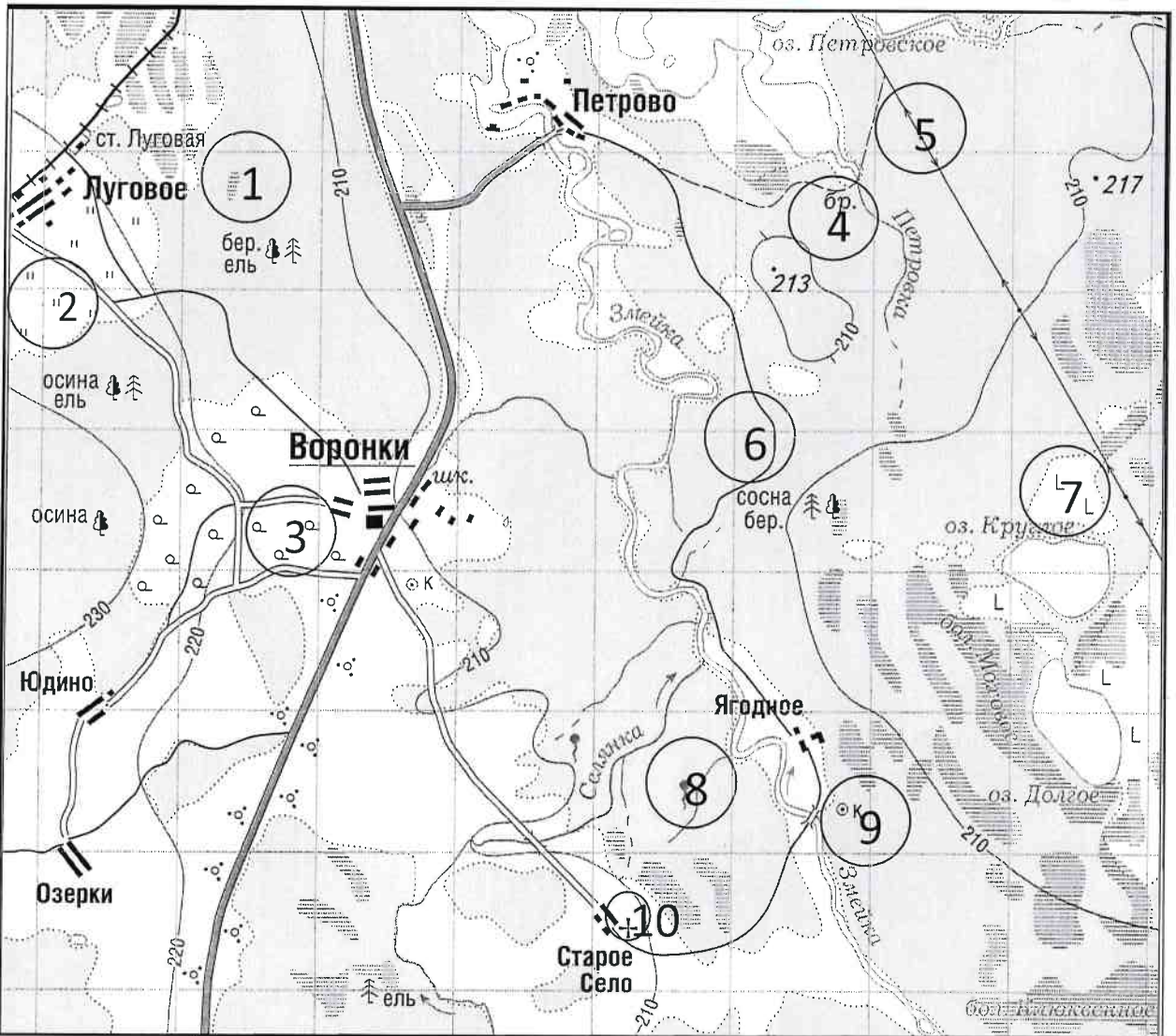
Максимально возможное количество баллов, которое Вы можете набрать на аналитическом туре, составляет 80 баллов.

При ответе на задания запрещено пользоваться школьными и прочими атласами, справочными материалами, а также учебниками, мобильными телефонами, карманными компьютерами! Желаем успеха!

**Задание 1. «Географы-практики».**

Перед Вами участок плана местности. Ответьте на поставленные ниже плана вопросы. Ответ внесите в таблицу.

1. Какие объекты обозначены на карте условными знаками № 1–10?
2. Определите, по какому азимуту необходимо двигаться от вершины холма с абсолютной высотой 213 м до школы.
3. Определите через сколько метров по высоте проведены горизонтالي (поперечное сечение рельефа).
4. Определите максимальную высоту на изображённой территории. Если невозможно указать точную цифру, то напишите ответ в виде интервала, например, более 50 м, но менее 55 м.
5. Водосборный бассейн какой реки показан на данной карте?
6. В каком направлении она протекает?
7. По какому искусственному сооружению проходит железная дорога, проходящая через станцию Луговая?
8. В какой лес Вы отправитесь, чтобы заготовить традиционные в России банные веники? Укажите цифру(ы) номера участка.
9. В какой природной зоне находится изображённая на карте территория?



№ элемента	Элемент ответа	Ответ
1.	1. Условный знак № 1	Валыта 1
	2. Условный знак № 2	Лука 1
	3. Условный знак № 3	Редкие леса 1
	4. Условный знак № 4	
	5. Условный знак № 5	линии электропередач 1
	6. Условный знак № 6	Дорога 1
	7. Условный знак № 7	Вырубленные леса 1
	8. Условный знак № 8	Долина 1
	9. Условный знак № 9	Колодезь 1
	10. Условный знак № 10	Церковь 1
2.	Азимут	Юго-западное 0
3.	Горизонтالي проведены через:	10 м 1
4.	Максимальная высота	217 м 0
5.	Водосборный бассейн	р. Змейка 1
6.	Направление течения реки	Сток на север 1
7.	Искусственное железнодорожное сооружение	Мосты 0
8.	Лес заготовки веников (номера)	№ 0
9.	Природная зона	Зона смешанных и широколиственных лесов 3

Максимальное количество баллов – 20.

Члены жюри (подписи)

*[Handwritten signature]*

(фактически набранное количество баллов)

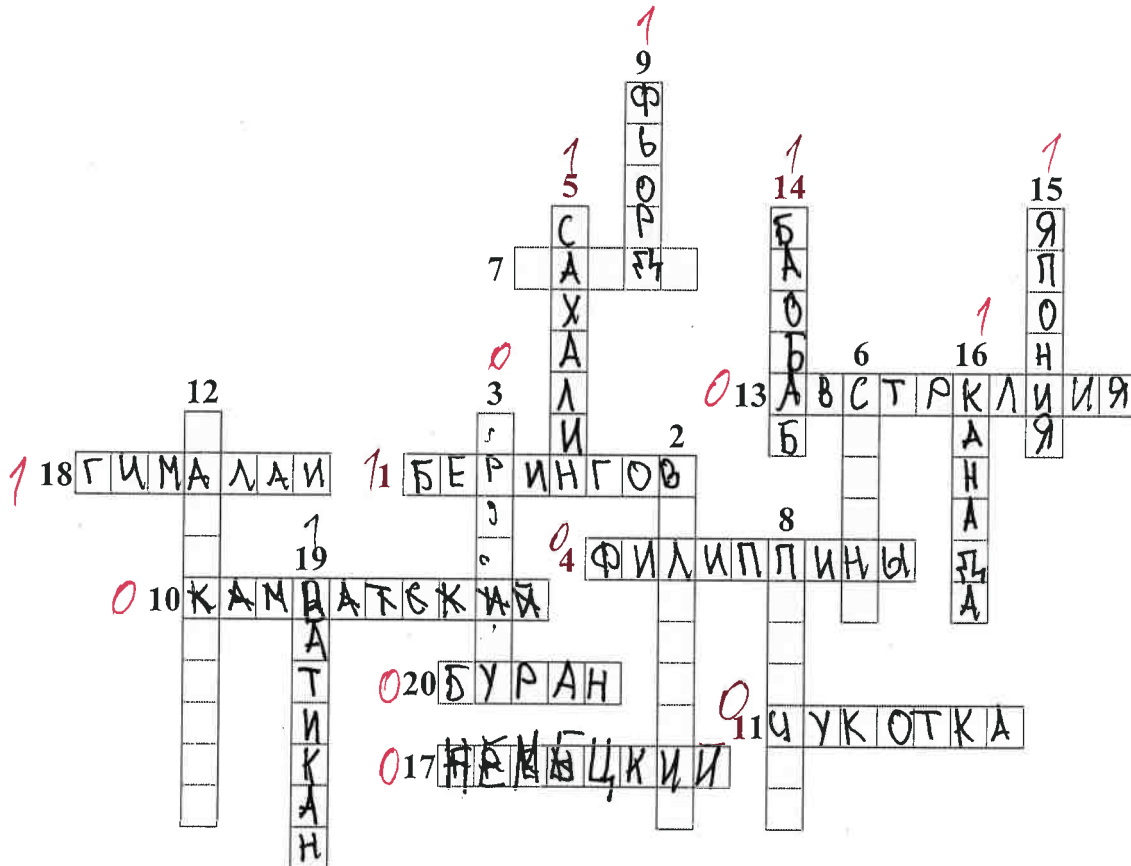
15

**Задание 2. Географическая разминка-кроссворд «По материкам и странам».**

Разгадайте предложенный кроссворд.

**По горизонтали.** 1. Название пролива между Россией и США. 4. Самый большой по площади архипелаг Земли. 7. Название залива, в котором зарегистрирована самая большая высота приливов (19,6 м). 10. Самый большой полуостров Земли. 11. Самый холодный населенный пункт России, «полюс холода» северного полушария. 13. Материк, на котором не бывает дождей. 17. Как называется полуостров, на котором находится значительная часть Королевства Дания? 18. Величайшая горная система, название которой с разных языков переводится как «снежная гора», «обитель снегов» и т.д. 20. Как называется местный сухой горячий шквалистый ветер юго-западного и западного направлений в пустыни Сахара и на Аравийском полуострове?

**По вертикали.** 2. Растение-эндемик пустыни Намиб с длинными листьями, умеющими впитывать влагу из воздуха. Растение, «растущее вниз». Увековечено на гербе Намибии. 3. Как называется крупный физико-географический район Земли, перевод названия которого с греческого языка означает «Территория под созвездием Большой Медведицы»? 5. Самый большой по площади территории остров России. 6. Какое государство занимает большую часть полуострова Малая Азия? 8. Самый высокий в мире древесный эндемик Северной Америки. 9. Узкий, длинный залив, окаймленный скалистыми берегами. Их много на Скандинавском полуострове. 12. Какое море называют «Морем без берегов»? 14. Самое распространенное дерево африканских саванн. Приспособилось накапливать влагу, чтобы пережить сухой сезон. 15. Крупнейшими островами какого государства являются Хонсю, Хоккайдо, Кюсю, Сикоку? 16. Страна, на флаге которой изображен кленовый лист. 19. Самое маленькое государство на планете (площадью всего лишь 0,44 км<sup>2</sup>).



Максимальное количество баллов – 20.

Члены жюри (подписи) \_\_\_\_\_

(фактически  
набранное  
количество баллов)




8

### Задание 3. Чтобы помнили...

В последние годы, к великому сожалению, в некоторых странах происходит забвение памяти павших героев в Великой Отечественной войне. Сносятся памятники, происходит отрицание событий того времени. Но в наше нелегкое время мы не должны забывать нашу историю.

В этом задании Вам предстоит изучить информацию о некоторых памятниках, посвященных событиям Великой Отечественной войны. В таблице даны описания или представлены изображения известных в нашей стране воинских мемориальных комплексов или памятников героям Великой Отечественной войны. Также сформулированы вопросы, связанные с этими мемориалами. Ответьте, пожалуйста, на них, занеся ответы в соответствующие строки третьего столбика.



№	Описание или изображение	Вопросы
1.	 <p>Памятник-ансамбль</p>  <p>Скульптура</p>	<p>1. Название памятника-ансамбля: <u>Речному солдату</u> 0</p> <p>2. Название скульптуры памятника-ансамбля: <u>Родина мать зовёт</u> 1</p> <p>3. Название возвышенности, на которой расположен:</p> <p>4. В каком городе расположен: <u>Волгоград</u> 1</p> <p>5. Название города до 1925 г.: <u>Сталинград</u> 0</p> <p>6. Название города с: 1925 по 1961 гг.: <u>Волгоград</u> 0</p>
2.		<p>1. Название памятника: <u>Герои СССР</u> 0</p> <p>2. В каком субъекте России расположен: <u>Крым</u> 0</p> <p>3. В каком городе расположен: <u>Севастополь</u> 1</p> <p>4. На каком физико-географическом объекте (мысе) расположен: <u>Крымский</u> 0</p> <p>5. Какой субъект Российской Федерации окружает тот, в котором расположен памятник: <u>Республика Крым</u> 0</p>



№	Описание или изображение	Вопросы
3.		<p>1. Название мемориального комплекса: <u>Неизвестным героям</u> 0</p> <p>2. Субъект РФ, в котором расположен: <u>Смоленск</u> 0</p> <p>3. С каким регионом России граничит субъект, в котором расположен памятник: <u>Тверь</u> 0</p>
4.	<p>История этого мемориального комплекса относится не только ко временам Великой Отечественной войны, но и к современности. 8 сентября 2022 года завершилась его реконструкция.</p> 	<p>1. Название мемориала: _____</p> <p>2. Субъект РФ, в котором расположен: <u>Липецкая народная республика</u> 0</p> <p>3. В какой природной зоне находится территория этого мемориального комплекса: <u>Смешанные леса</u> 0</p> <p>4. Памятник расположен на одной из высших точек этого протяженного орографического объекта. Укажите его: <u>камень</u> 0</p>

№	Описание или изображение	Вопросы
		

Максимальное количество баллов – 20.

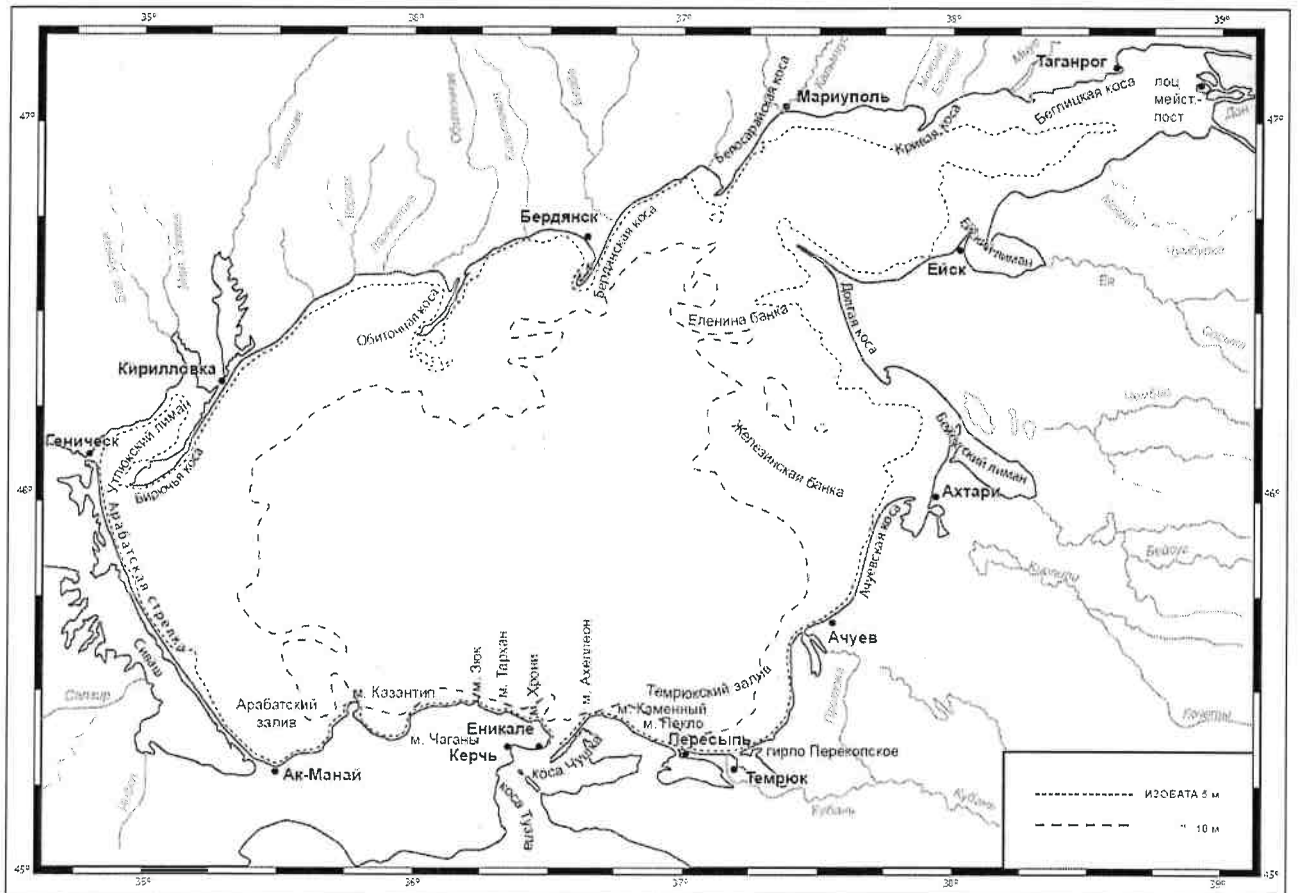
Члены жюри (подписи) \_\_\_\_\_ *ВСК*

(фактически набранное количество баллов)

*3*

**Задание 4. «По морям... по волнам...»**

На рисунке представлена карта одного из гидрологических объектов. Да, он невелик по своим размерам, но достаточно важен для жизни нашей страны. Вам необходимо определить, что это за объект и ответить на ряд вопросов. Для простоты формулировки ответа они сформулированы в форме таблицы.



№	Вопрос	Ответ
1.	Как называется этот гидрологический объект?	Черное море 0
2.	Берега какой страны он омывает?	Россия 1
3.	Какие регионы этой страны имеют выход к этому объекту?	1. Калининградский 0 2. Ростовский 0,5 3. Евский 0 4. Краснодарский 0 5. Керчь 0 6. Днепровский 0
4.	Укажите две крупные наиболее известные реки, впадающие в этот объект	1. Дон 0,5 2. Днепр 0
5.	Как называются заливы, образованные в результате затопления морем долин рек из-за понижения уровня суши благодаря действию геологических процессов? В результате этого происходит смешивание пресных вод рек и соленых вод морей. Эти объекты также представлены на представленной береговой линии.	Смешанный пролив 0
6.	В акваторию этого объекта вдается великое множество узких продолговатых геоморфологических объектов. Два аналога таковых присутствуют и в Калининградской области. Как называются эти объекты?	Заливы 0
7.	Полная коса 0	
8.	Какова средняя глубина этого гидрологического объекта? А максимальная?	1. Средняя глубина: менее 5 м 0 2. Максимальная глубина: 5 м 0
9.	На дне этого объекта находятся возвышенности, на которых средняя глубина становится еще меньше. Как называются тип этих возвышенности (есть стеклянный аналог тары)?	Рейсунгский шланг 0
10.	С каким более крупным гидрологическим объектом соединяется искомый в южной части?	Средиземное море 0
11.	Как называется пролив между ними?	Керченский 1
12.	Какой важный инфраструктурный объект построен через этот пролив?	Мост 1
13.	Назовите как можно больше портов, расположенных на берегах этого водоема.	1. Керченский 0,5 2. Ростовский 0 3. Таганрогский 0,5 4. Днепровский 0 5. Краснодарский 0 6. Евский 0,5 7. 8.
14.	Каким материалом сложено большинство пляжей вокруг этого объекта?	Песком 0

Максимальное количество баллов – 20.

Максимальное количество баллов за аналитический тур – 80.

Члены жюри (подписи) \_\_\_\_\_

(фактически  
набранное  
количество баллов)

8 5,5



**БЛАНК ЗАДАНИЙ**  
**муниципального этапа всероссийской олимпиады школьников**  
**по географии**  
(предмет)

**I ТУР (ТЕСТОВЫЙ)**

**2022/2023 учебный год**

**7 – 8 класс**

Общее время выполнения работы – **180 минут**.

На выполнение заданий I (тестового) тура отводится **60 минут**.

На II (аналитический) тур отводится **120 минут**.

При ответе на задания запрещено пользоваться школьными и прочими атласами, справочными материалами, а также учебниками, мобильными телефонами, карманными компьютерами! Желаем успеха!

Ответьте на поставленные вопросы, выбрав **один** правильный вариант ответа. При ответе на вопросы будьте очень внимательны, так как некоторые вопросы требуют определить неверный вариант или имеют формулировку с отрицанием.

**Не забудьте перенести свои ответы в бланк ответов (таблица)!**

1. Выберите правильное утверждение о расположении высочайшей точки России:

- 1) гора Белуха находится в Республике Алтай;
- 2) вулкан Ключевская Сопка расположен в Камчатском крае;
- 3) гора Эльбрус расположена на границе Кабардино-Балкарии и Карачаево-Черкесии;
- 4) гора Бештау находится в Ставропольском крае.

2. Выберите вариант ответа, в котором указаны столицы стран, имеющих выход к самому большому замкнутому водоему Земли:

- 1) Ашхабад, Тегеран, Баку, Астана; 2) Москва, Пекин, Улан-Батор, Астана;
- 3) Додома, Найроби, Кампала, Мапуту; 4) Дели, Катманду, Исламабад, Пекин.

3. В каком из вариантов ответа представлены только государства-архипелаги:

- 1) Мадагаскар, Непал, Мексика, Исландия; 2) Кирибати, Филиппины, Индонезия, Фиджи;
- 3) Туркменистан, Киргизия, Таджикистан, Узбекистан;
- 4) Португалия, Ирландия, Чили, Сомали.

4. Выберите верное утверждение, характеризующее географическое положение объектов:

- 1) Саудовская Аравия и Египет расположены на берегах Красного моря;
- 2) ЮАР и Намибия расположены в пустыне Сахара;
- 3) Марокко и Тунис расположены на берегу Индийского океана;
- 4) через Мавританию и Мали протекает река Нил.



5. Выберите вариант, в котором указаны субъекты России, расположенные на территории с избыточным увлажнением (Ку>>>1):

- 1) Ростовская обл., Ставропольский край, Луганская Народная Республика, Севастополь;
- 2) Приморский край, Чукотский авт. окр., Ямало-Ненецкий авт. окр., Мурманская обл.;
- 3) Респ. Алтай, Иркутская обл., Респ. Тыва, Курганская обл.;
- 4) Астраханская обл., Саратовская обл., Респ. Хакасия, Тамбовская обл.

6. В зону муссонной циркуляции атмосферы попадают такие территории как:

- 1) Красноярский край, Респ. Якутия, Ханты-Мансийский авт. окр., Респ. Бурятия;
- 2) Калининградская обл., Ленинградская обл., Санкт-Петербург, Псковская обл.;
- 3) Хабаровский край, Сахалинская обл., Амурская обл., Приморский край;
- 4) Респ. Марий Эл, Респ. Удмуртия, Респ. Татарстан, Кировская обл.

7. Выберите ряд стран, которые имеют выход к самым соленым морям:

- 1) Тунис, Италия, Саудовская Аравия, Эритрея;
- 2) Мозамбик, ЮАР, Танзания, Австралия;
- 3) Чили, Аргентина, Уругвай, Перу;
- 4) Индонезия, Малайзия, Вьетнам, Таиланд.

8. Выберите вариант, в котором указаны только опасные ледовые гидрологические явления:

- 1) наводнение, паводок, половодье; 2) обвал, осыпь, солифлюкция;
- 3) блуждающие огни, шепот звезд, трясина; 4) зажор, забереги, шуга;

9. Выберите правильное утверждение, указывающее на особенности географического положения географических объектов:

- 1) река Неман протекает по территории Белоруссии, Литвы и России;
- 2) остров Гренландия – это особый административный район Канады;
- 3) Россия и Таджикистан являются соседями первого порядка;
- 4) самая протяженная сухопутная граница у России с Китаем.

10. В составе древесных пород в России преобладают:

- 1) лиственница и сосна; 2) ель и пихта; 3) береза и дуб; 4) бук и граб.

11. Какое утверждение о размещении населения на определенных территориях Земли является верным:

- 1) самыми заселенными районами Австралии являются центральные;
- 2) максимальная плотность населения в США фиксируется на Востоке и Северо-Востоке;
- 3) самыми густонаселенными районами Европы являются Северная и Восточная Европа;
- 4) в Китае самыми слабозаселенными территориями являются Восток и Юго-Восток.

12. В каком географическом объекте расположен «Пуп Земли» (точка с географическими координатами  $0^{\circ}$  географической широты  $0^{\circ}$  географической долготы):
- 1) государство Нигерия;
  - 2) г. Лондон;
  - 3) горная система Гималаи;
  - 4) Гвинейский залив.
13. Крупнейшим островом архипелага Японских островов является:
- 1) Хонсю;
  - 2) Хоккайдо;
  - 3) Кюсю;
  - 4) Сикоку.
14. В каком случае амплитуда температур будет составлять  $58^{\circ}\text{C}$ :
- 1)  $-4^{\circ}\text{C}$  и  $+17^{\circ}\text{C}$ ;
  - 2)  $+38^{\circ}\text{C}$  и  $+20^{\circ}\text{C}$ ;
  - 3)  $-38^{\circ}\text{C}$  и  $+20^{\circ}\text{C}$ ;
  - 4)  $-24^{\circ}\text{C}$  и  $+24^{\circ}\text{C}$  ?
15. Определите вариант ответа, в который закралась неточность:
- 1) река Нил впадает в Красное море;
  - 2) река Нигер впадает в Гвинейский залив;
  - 3) Суэцкий канал связывает Красное и Средиземное моря;
  - 4) Средиземное море отделяет от вод Атлантического океана Гибралтарский пролив.
16. Выберите правильное сочетание «Природная зона – тип почв»:
- 1) влажные экваториальные леса – черноземы;
  - 2) тайга – подзолистые;
  - 3) степь – красно-желтые ферраллитные;
  - 4) тундра – каштановые.
17. Выберите вариант ответа, в котором указаны, не характерные для Калининградской области формы рельефа:
- 1) карстовые воронки, бугры пучения, плоскогорья;
  - 2) всхолмленные равнины, конечно-моренные гряды, речные долины;
  - 3) польдеры, низменности, возвышенности;
  - 4) дюны, авандюны, камовые холмы.
18. Выберите «лишнее» сочетание географических объектов:
- 1) Нил, Нигер, Конго;
  - 2) Амазонка, Тапажос, Парана;
  - 3) Миссури, Миссисипи, Юкон;
  - 4) Балхаш, Байкал, Иссык-Куль.
19. Выберите регион, в котором будет самая высокая вероятность циклонального типа погоды:
- 1) Сахалинская обл.;
  - 2) Республика Тыва;
  - 3) Свердловская обл.;
  - 4) Иркутская обл.
20. Укажите вариант ответа, в котором перечислены горные области и территории, относящиеся к кайнозойской складчатости:
- 1) Срединный хребет, о. Сахалин, Кавказские горы;
  - 2) Восточно-Европейская равнина, Среднесибирское плоскогорье, Становой хребет;
  - 3) Верхоянский хребет, хребет Черского, Колымское нагорье;
  - 4) Алтай, Саяны, Яблоновой хребет,

**Максимальное количество баллов – 20.**

## Бланк ответов

№ задания	Ответ	№ задания	Ответ
1.	3 ✓	11.	2 ✓
2.	1 ✓	12.	1
3.	2 ✓	13.	2
4.	1 ✓	14.	3 ✓
5.	1	15.	2
6.	3 ✓	16.	2 ✓
7.	1 ✓	17.	1 ✓
8.	4 ✓	18.	2
9.	1 ✓	19.	4
10.	3	20.	3

Член жюри : \_\_\_\_\_

(фактически  
набранное  
количество баллов)

12

**БЛАНК ЗАДАНИЙ****муниципального этапа всероссийской олимпиады школьников****по географии**

(предмет)

**II ТУР (АНАЛИТИЧЕСКИЙ)****2022/2023 учебный год****7 – 8 класс**Общее время выполнения работы – **180 минут**.На II (аналитический) тур отводится **120 минут**.

Максимально возможное количество баллов, которое Вы можете набрать на аналитическом туре, составляет 80 баллов.

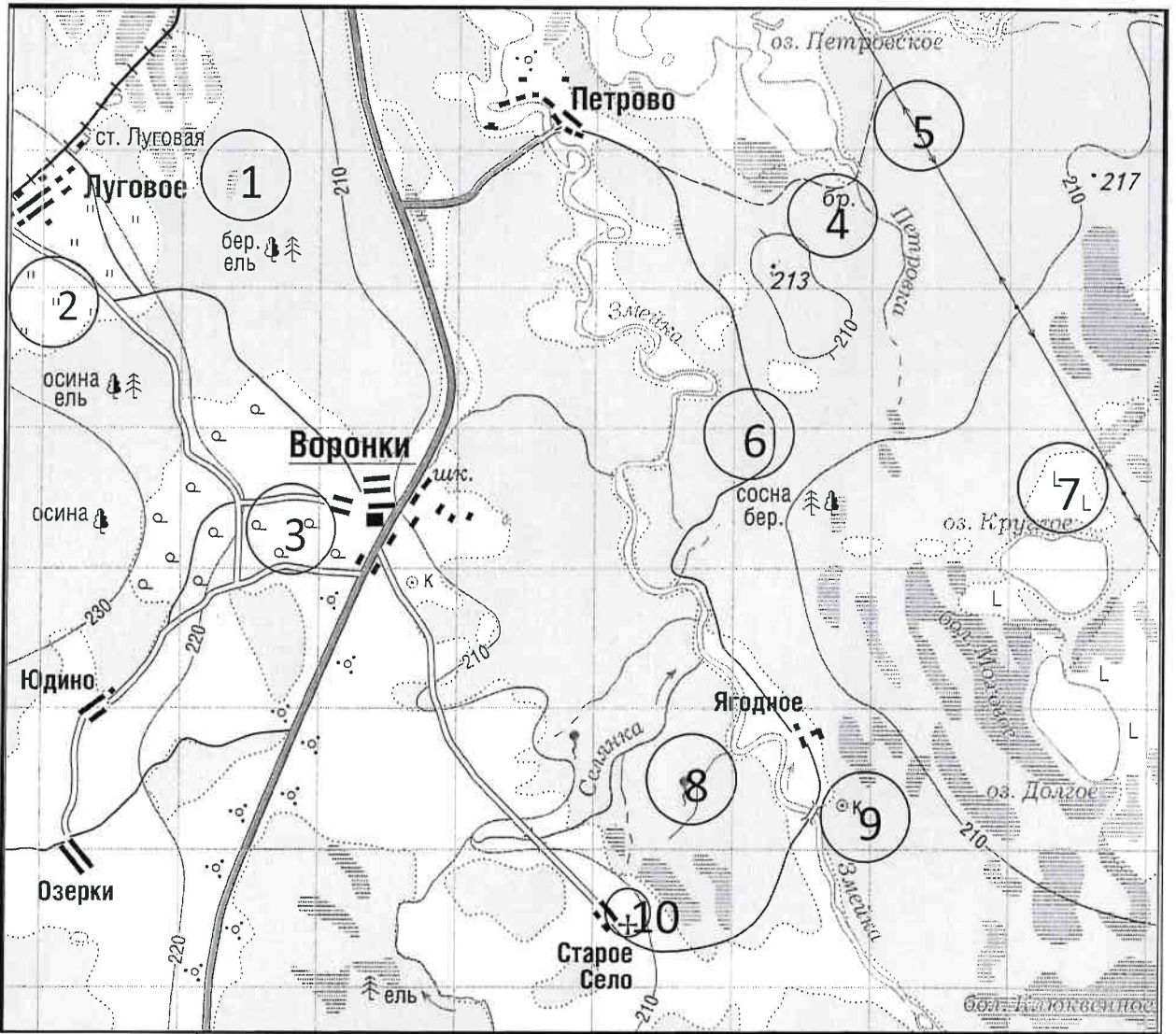
При ответе на задания запрещено пользоваться школьными и прочими атласами, справочными материалами, а также учебниками, мобильными телефонами, карманными компьютерами! Желаем успеха!

**Задание 1. «Географы-практики».**

Перед Вами участок плана местности. Ответьте на поставленные ниже плана вопросы. Ответ внесите в таблицу.

1. Какие объекты обозначены на карте условными знаками № 1–10?
2. Определите, по какому азимуту необходимо двигаться от вершины холма с абсолютной высотой 213 м до школы.
3. Определите через сколько метров по высоте проведены горизонтالي (поперечное сечение рельефа).
4. Определите максимальную высоту на изображённой территории. Если невозможно указать точную цифру, то напишите ответ в виде интервала, например, более 50 м, но менее 55 м.
5. Водосборный бассейн какой реки показан на данной карте?
6. В каком направлении она протекает?
7. По какому искусственному сооружению проходит железная дорога, проходящая через станцию Луговая?
8. В какой лес Вы отправитесь, чтобы заготовить традиционные в России банные веники? Укажите цифру(ы) номера участка.
9. В какой природной зоне находится изображённая на карте территория?





№ элемента	Элемент ответа	Ответ
1.	1. Условный знак № 1	болото 1
	2. Условный знак № 2	луг 1
	3. Условный знак № 3	фруктовый сад 0
	4. Условный знак № 4	
	5. Условный знак № 5	лес с дикими фруктами 1
	6. Условный знак № 6	искусственная дорога 0
	7. Условный знак № 7	вырубка 4
	8. Условный знак № 8	родник 1
	9. Условный знак № 9	колодезь 1
	10. Условный знак № 10	церковь 1
2.	Азимут	
3.	Горизонтالي проведены через:	через 10 метров 1
4.	Максимальная высота	217 метров 0
5.	Водосборный бассейн	Змейка 1
6.	Направление течения реки	северо-запад 1
7.	Искусственное железнодорожное сооружение	искусственная дорога 0
8.	Лес заготовки веников (номера)	березовый и осиновый лес 1
9.	Природная зона	лесовая зона 3

Максимальное количество баллов – 20.

Члены жюри (подписи) \_\_\_\_\_

(фактически  
набранное  
количество баллов)

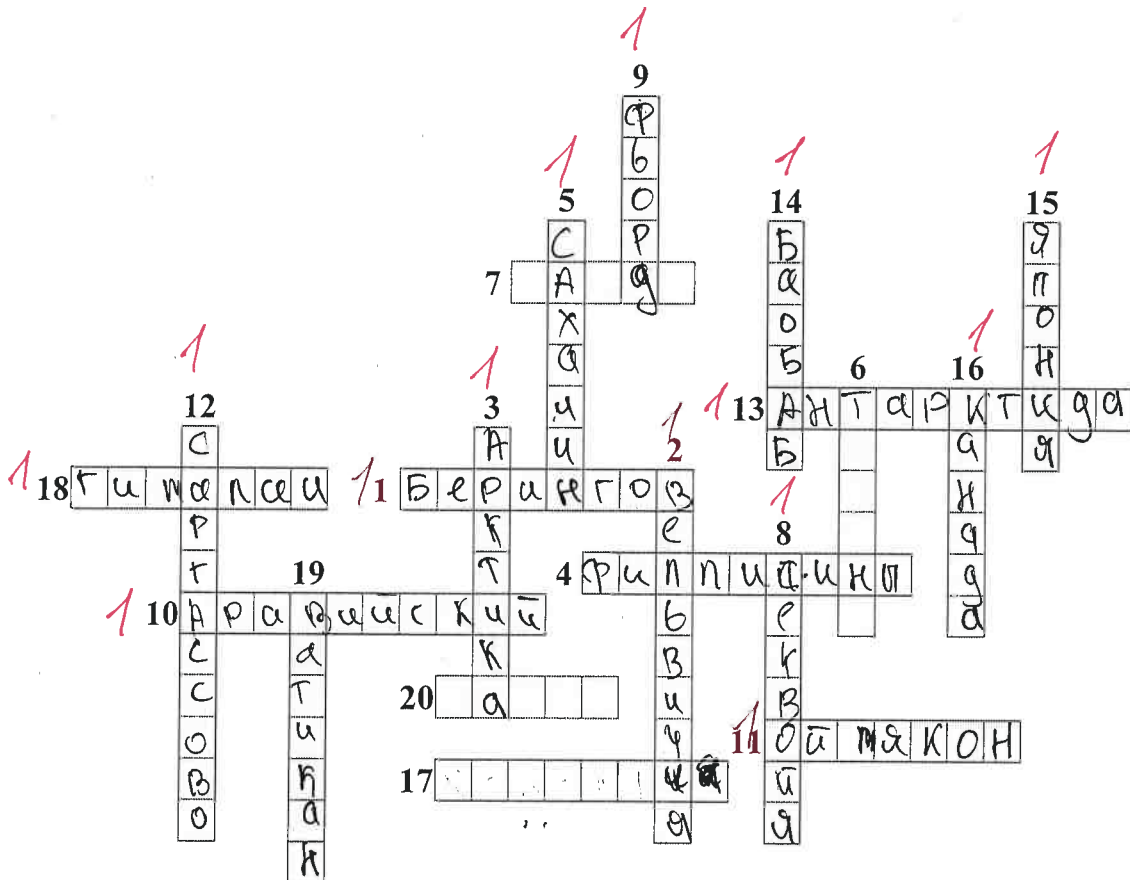
14

**Задание 2. Географическая разминка-кроссворд «По материкам и странам».**

Разгадайте предложенный кроссворд.

**По горизонтали.** 1. Название пролива между Россией и США. 4. Самый большой по площади архипелаг Земли. 7. Название залива, в котором зарегистрирована самая большая высота приливов (19,6 м). 10. Самый большой полуостров Земли. 11. Самый холодный населенный пункт России, «полюс холода» северного полушария. 13. Материк, на котором не бывает дождей. 17. Как называется полуостров, на котором находится значительная часть Королевства Дания? 18. Величайшая горная система, название которой с разных языков переводится как «снежная гора», «обитель снегов» и т.д. 20. Как называется местный сухой горячий шквалистый ветер юго-западного и западного направлений в пустыни Сахара и на Аравийском полуострове?

**По вертикали.** 2. Растение-эндемик пустыни Намиб с длинными листьями, умеющими впитывать влагу из воздуха. Растение, «растущее вниз». Увековечено на гербе Намибии. 3. Как называется крупный физико-географический район Земли, перевод названия которого с греческого языка означает «Территория под созвездием Большой Медведицы»? 5. Самый большой по площади территории остров России. 6. Какое государство занимает большую часть полуострова Малая Азия? 8. Самый высокий в мире древесный эндемик Северной Америки. 9. Узкий, длинный залив, окаймленный скалистыми берегами. Их много на Скандинавском полуострове. 12. Какое море называют «Морем без берегов»? 14. Самое распространенное дерево африканских саванн. Приспособилось накапливать влагу, чтобы пережить сухой сезон. 15. Крупнейшими островами какого государства являются Хонсю, Хоккайдо, Кюсю, Сикоку? 16. Страна, на флаге которой изображен кленовый лист. 19. Самое маленькое государство на планете (площадью всего лишь 0,44 км<sup>2</sup>).



Максимальное количество баллов — 20.

Члены жюри (подписи) \_\_\_\_\_

(фактически  
набранное  
количество баллов)




14

### Задание 3. Чтобы помнили...



В последние годы, к великому сожалению, в некоторых странах происходит забвение памяти павших героев в Великой Отечественной войне. Сносятся памятники, происходит отрицание событий того времени. Но в наше нелегкое время мы не должны забывать нашу историю.

В этом задании Вам предстоит изучить информацию о некоторых памятниках, посвященных событиям Великой Отечественной войны. В таблице даны описания или представлены изображения известных в нашей стране воинских мемориальных комплексов или памятников героям Великой Отечественной войны. Также сформулированы вопросы, связанные с этими мемориалами. Ответьте, пожалуйста, на них, занеся ответы в соответствующие строки третьего столбика.



№	Описание или изображение	Вопросы
1.	 <p data-bbox="523 577 802 611">Памятник-ансамбль</p>  <p data-bbox="576 1070 751 1104">Скульптура</p>	<p>1. Название памятника-ансамбля:  <i>Гитва за Севастополь</i></p> <p>2. Название скульптуры памятника-ансамбля:  <i>"Юдичка-макь збѣт". 1</i></p> <p>3. Название возвышенности, на которой расположен:  <i>Мамаев-курган 1</i></p> <p>4. В каком городе расположен:  <i>Волгоград 1</i></p> <hr/> <p>5. Название города до 1925 г.:</p> <hr/> <p>6. Название города с: 1925 по 1961 гг.:  <i>Сталинград 1</i></p>
2.		<p>1. Название памятника:  <hr/></p> <p>2. В каком субъекте России расположен:  <hr/></p> <p>3. В каком городе расположен:  <hr/></p> <p>4. На каком физико-географическом объекте (мысе) расположен:  <hr/></p> <p>5. Какой субъект Российской Федерации окружает тот, в котором расположен памятник:  <hr/></p>



№	Описание или изображение	Вопросы
3.		<p>1. Название мемориального комплекса:</p> <p>_____</p> <p>_____</p> <p>2. Субъект РФ, в котором расположен:</p> <p>_____</p> <p>3. С каким регионом России граничит субъект, в котором расположен памятник:</p> <p>_____</p>
4.	<p>История этого мемориального комплекса относится не только ко временам Великой Отечественной войны, но и к современности. 8 сентября 2022 года завершилась его реконструкция.</p> 	<p>1. Название мемориала:</p> <p>_____</p> <p>2. Субъект РФ, в котором расположен:</p> <p><u>Оренбургская область</u></p> <p>3. В какой природной зоне находится территория этого мемориального комплекса:</p> <p><u>степи</u></p> <p>4. Памятник расположен на одной из высших точек этого протяженного орографического объекта. Укажите его:</p> <p>_____</p>

№	Описание или изображение	Вопросы
		

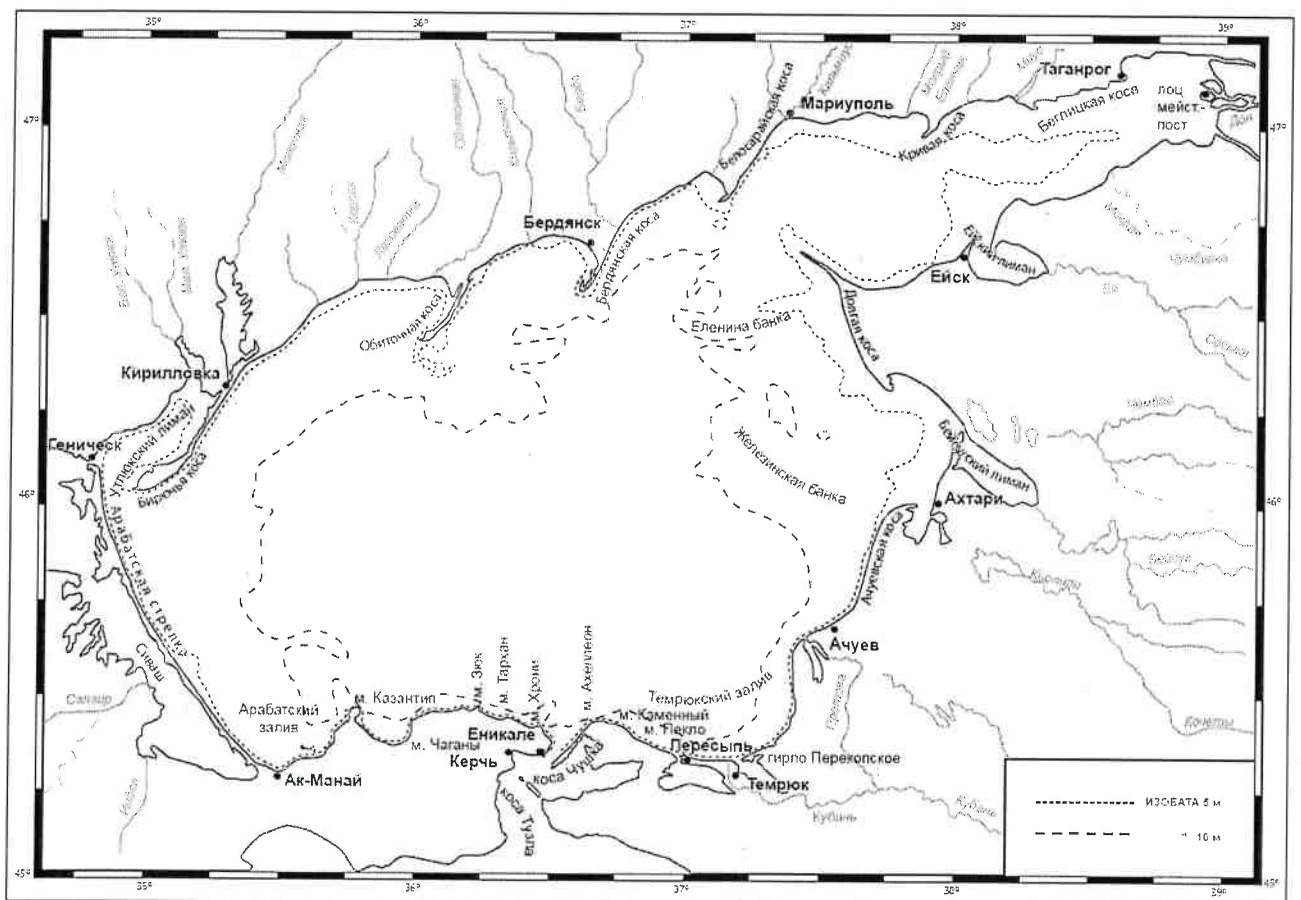
Максимальное количество баллов – 20.

Члены жюри (подписи) \_\_\_\_\_

(фактически  
набранное  
количество баллов)  
*5*

**Задание 4. «По морям...по волнам...»**

На рисунке представлена карта одного из гидрологических объектов. Да, он невелик по своим размерам, но достаточно важен для жизни нашей страны. Вам необходимо определить, что это за объект и ответить на ряд вопросов. Для простоты формулировки ответа они сформулированы в форме таблицы.



№	Вопрос	Ответ
1.	Как называется этот гидрологический объект?	Азовское море 1
2.	Берега какой страны он омывает?	Украина 1
3.	Какие регионы этой страны имеют выход к этому объекту?	1. Азовская область 2. Мелитополь 3. Керчь 4. Переяслав 5. Армянск 6. 0
4.	Укажите две крупные наиболее известные реки, впадающие в этот объект	1. Кубань 0,5 2. Дон 0,5 1
5.	Как называются заливы, образованные в результате затопления морем долин рек из-за понижения уровня суши благодаря действию геологических процессов? В результате этого происходит смешивание пресных вод рек и соленых вод морей. Эти объекты также представлены на представленной береговой линии.	
6.	В акваторию этого объекта вдается великое множество узких продолговатых геоморфологических объектов. Два аналога таковых присутствуют и в Калининградской области. Как называются эти объекты?	Косы 1
7.	Арабатская стрелка 1	
8.	Какова средняя глубина этого гидрологического объекта? А максимальная?	1. Средняя глубина: _____ м 2. Максимальная глубина: _____ м
9.	На дне этого объекта находятся возвышенности, на которых средняя глубина становится еще меньше. Как называются тип этих возвышенности (есть стеклянный аналог тары)?	Банки 1
10.	С каким более крупным гидрологическим объектом соединяется искомый в южной части?	Черное море 1
11.	Как называется пролив между ними?	
12.	Какой важный инфраструктурный объект построен через этот пролив?	Мост 1
13.	Назовите как можно больше портов, расположенных на берегах этого водоема.	1. Мариуполь 0,5 2. Таганрог 0,5 3. Бердянск 0,5 4. Кирилловка 5. Железск 6. Ейск 0,5 7. Ахтырка 8. Амурск 2
14.	Каким материалом сложено большинство пляжей вокруг этого объекта?	Из камней 0

Максимальное количество баллов – 20.

Максимальное количество баллов за аналитический тур – 80.

Члены жюри (подписи) \_\_\_\_\_

(фактически  
набранное  
количество баллов)

10



**БЛАНК ЗАДАНИЙ**  
**муниципального этапа всероссийской олимпиады школьников**  
**по географии**  
(предмет)

**I ТУР (ТЕСТОВЫЙ)**

**2022/2023 учебный год**

**7 – 8 класс**

Общее время выполнения работы – **180 минут**.

На выполнение заданий I (тестового) тура отводится **60 минут**.

На II (аналитический) тур отводится **120 минут**.

При ответе на задания запрещено пользоваться школьными и прочими атласами, справочными материалами, а также учебниками, мобильными телефонами, карманными компьютерами! Желаем успеха!

Ответьте на поставленные вопросы, выбрав **один** правильный вариант ответа. При ответе на вопросы будьте очень внимательны, так как некоторые вопросы требуют определить неверный вариант или имеют формулировку с отрицанием.

**Не забудьте перенести свои ответы в бланк ответов (таблица)!**

1. Выберите правильное утверждение о расположении высочайшей точки России:

- 1) гора Белуха находится в Республике Алтай;
- 2) вулкан Ключевская Сопка расположен в Камчатском крае;
- 3) гора Эльбрус расположена на границе Кабардино-Балкарии и Карачаево-Черкесии;
- 4) гора Бештау находится в Ставропольском крае.

2. Выберите вариант ответа, в котором указаны столицы стран, имеющих выход к самому большому замкнутому водоему Земли:

- 1) Ашхабад, Тегеран, Баку, Астана; 2) Москва, Пекин, Улан-Батор, Астана;
- 3) Додома, Найроби, Кампала, Мапуту; 4) Дели, Катманду, Исламабад, Пекин.

3. В каком из вариантов ответа представлены только государства-архипелаги:

- 1) Мадагаскар, Непал, Мексика, Исландия; 2) Кирибати, Филиппины, Индонезия, Фиджи;
- 3) Туркменистан, Киргизия, Таджикистан, Узбекистан;
- 4) Португалия, Ирландия, Чили, Сомали.

4. Выберите верное утверждение, характеризующее географическое положение объектов:

- 1) Саудовская Аравия и Египет расположены на берегах Красного моря;
- 2) ЮАР и Намибия расположены в пустыне Сахара;
- 3) Марокко и Тунис расположены на берегу Индийского океана;
- 4) через Мавританию и Мали протекает река Нил.



5. Выберите вариант, в котором указаны субъекты России, расположенные на территории с избыточным увлажнением ( $K_u \gg 1$ ):

- 1) Ростовская обл., Ставропольский край, Луганская Народная Республика, Севастополь;
- 2) Приморский край, Чукотский авт. окр., Ямало-Ненецкий авт. окр., Мурманская обл.;
- 3) Респ. Алтай, Иркутская обл., Респ. Тыва, Курганская обл.;
- 4) Астраханская обл., Саратовская обл., Респ. Хакасия, Тамбовская обл.

6. В зону муссонной циркуляции атмосферы попадают такие территории как:

- 1) Красноярский край, Респ. Якутия, Ханты-Мансийский авт. окр., Респ. Бурятия;
- 2) Калининградская обл., Ленинградская обл., Санкт-Петербург, Псковская обл.;
- 3) Хабаровский край, Сахалинская обл., Амурская обл., Приморский край;
- 4) Респ. Марий Эл, Респ. Удмуртия, Респ. Татарстан, Кировская обл.

7. Выберите ряд стран, которые имеют выход к самым соленым морям:

- 1) Тунис, Италия, Саудовская Аравия, Эритрея;
- 2) Мозамбик, ЮАР, Танзания, Австралия;
- 3) Чили, Аргентина, Уругвай, Перу;
- 4) Индонезия, Малайзия, Вьетнам, Таиланд.

8. Выберите вариант, в котором указаны только опасные ледовые гидрологические явления:

- 1) наводнение, паводок, половодье; 2) обвал, осыпь, солифлюкция;
- 3) блуждающие огни, шепот звезд, трясина; 4) зажор, забереги, шуга;

9. Выберите правильное утверждение, указывающее на особенности географического положения географических объектов:

- 1) река Неман протекает по территории Белоруссии, Литвы и России;
- 2) остров Гренландия – это особый административный район Канады;
- 3) Россия и Таджикистан являются соседями первого порядка;
- 4) самая протяженная сухопутная граница у России с Китаем.

10. В составе древесных пород в России преобладают:

- 1) лиственница и сосна; 2) ель и пихта; 3) береза и дуб; 4) бук и граб.

11. Какое утверждение о размещении населения на определенных территориях Земли является верным:

- 1) самыми заселенными районами Австралии являются центральные;
- 2) максимальная плотность населения в США фиксируется на Востоке и Северо-Востоке;
- 3) самыми густонаселенными районами Европы являются Северная и Восточная Европа;
- 4) в Китае самыми слабозаселенными территориями являются Восток и Юго-Восток.

12. В каком географическом объекте расположен «Пуп Земли» (точка с географическими координатами  $0^{\circ}$  географической широты  $0^{\circ}$  географической долготы):

1) государство Нигерия; 2) г. Лондон; 3) горная система Гималаи; 4) Гвинейский залив.

13. Крупнейшим островом архипелага Японских островов является:

1) Хонсю; 2) Хоккайдо; 3) Кюсю; 4) Сикоку.

14. В каком случае амплитуда температур будет составлять  $58^{\circ}\text{C}$ :

1)  $-4^{\circ}\text{C}$  и  $+17^{\circ}\text{C}$ ; 2)  $+38^{\circ}\text{C}$  и  $+20^{\circ}\text{C}$ ; 3)  $-38^{\circ}\text{C}$  и  $+20^{\circ}\text{C}$ ; 4)  $-24^{\circ}\text{C}$  и  $+24^{\circ}\text{C}$  ?

15. Определите вариант ответа, в который закралась неточность:

1) река Нил впадает в Красное море; 2) река Нигер впадает в Гвинейский залив;

3) Суэцкий канал связывает Красное и Средиземное моря;

4) Средиземное море отделяет от вод Атлантического океана Гибралтарский пролив.

16. Выберите правильное сочетание «Природная зона – тип почв»:

1) влажные экваториальные леса – черноземы; 2) тайга – подзолистые;

3) степь – красно-желтые ферралитные; 4) тундра – каштановые.

17. Выберите вариант ответа, в котором указаны, не характерные для Калининградской области формы рельефа:

1) карстовые воронки, бугры пучения, плоскогорья;

2) всхолмленные равнины, конечно-моренные гряды, речные долины;

3) польдеры, низменности, возвышенности; 4) дюны, авандюны, камовые холмы.

18. Выберите «лишнее» сочетание географических объектов:

1) Нил, Нигер, Конго; 2) Амазонка, Тапажос, Парана; 3) Миссури, Миссисипи, Юкон;

4) Балхаш, Байкал, Иссык-Куль.

19. Выберите регион, в котором будет самая высокая вероятность циклонального типа погоды:

1) Сахалинская обл.; 2) Республика Тыва; 3) Свердловская обл.; 4) Иркутская обл.

20. Укажите вариант ответа, в котором перечислены горные области и территории, относящиеся к кайнозойской складчатости:

1) Срединный хребет, о. Сахалин, Кавказские горы;

2) Восточно-Европейская равнина, Среднесибирское плоскогорье, Становой хребет;

3) Верхоянский хребет, хребет Черского, Колымское нагорье;

4) Алтай, Саяны, Яблоновой хребет.

**Максимальное количество баллов – 20.**

## Бланк ответов

№ задания	Ответ	№ задания	Ответ
1.	2	11.	2 ✓
2.	1 ✓	12.	1
3.	2 ✓	13.	2
4.	1 ✓	14.	3 ✓
5.	2 ✓	15.	1 ✓
6.	3 ✓	16.	2 ✓
7.	1 ✓	17.	1 ✓
8.	2	18.	4 ✓
9.	4	19.	1 ✓
10.	1 ✓	20.	1 ✓

Член жюри : \_\_\_\_\_

(фактически  
набранное  
количество баллов)

15

**БЛАНК ЗАДАНИЙ**  
**муниципального этапа всероссийской олимпиады школьников**  
**по географии**  
(предмет)

**II ТУР (АНАЛИТИЧЕСКИЙ)**

**2022/2023 учебный год**

**7 – 8 класс**

Общее время выполнения работы – **180 минут**.

На II (аналитический) тур отводится **120 минут**.

Максимально возможное количество баллов, которое Вы можете набрать на аналитическом туре, составляет 80 баллов.

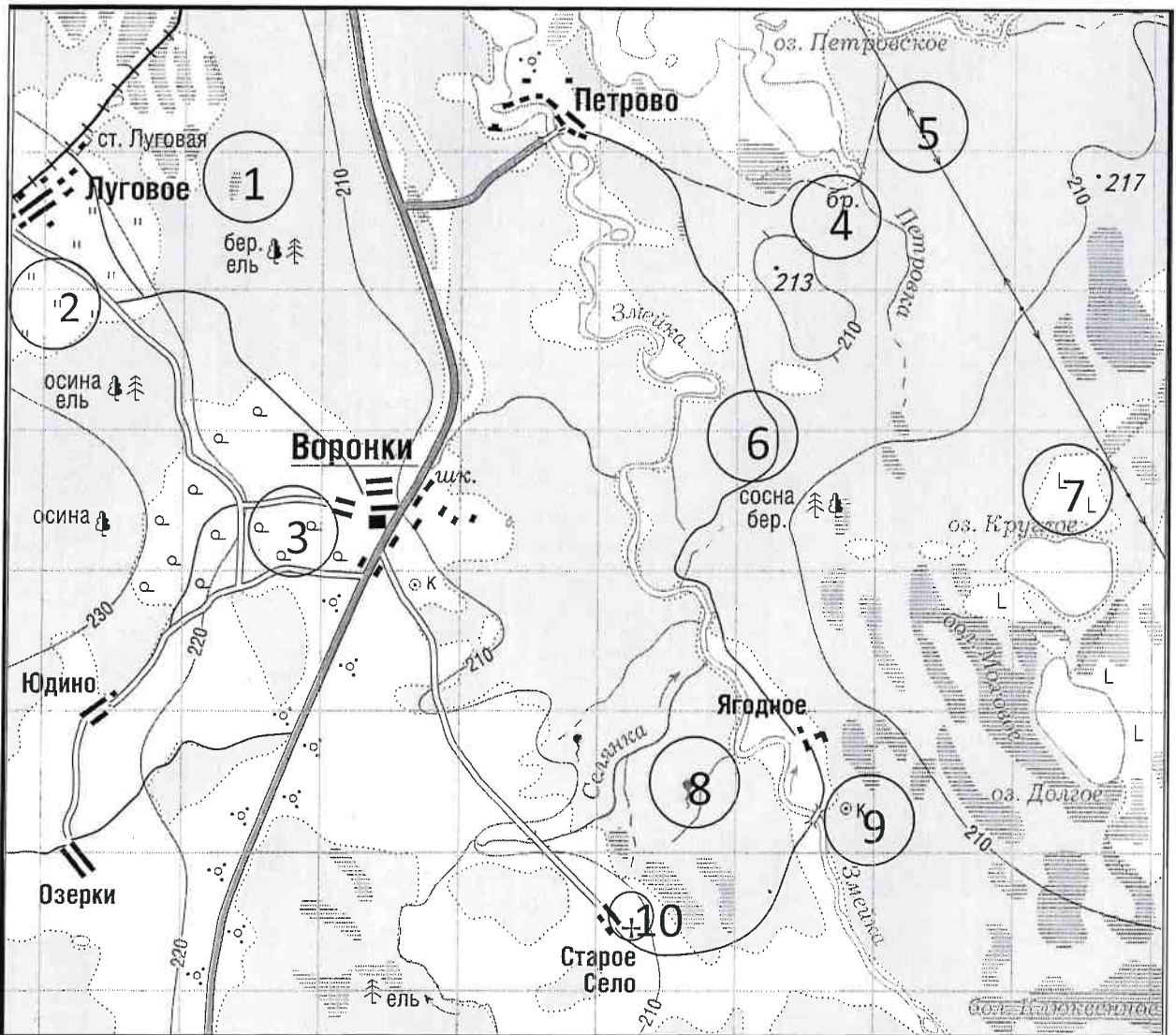
При ответе на задания запрещено пользоваться школьными и прочими атласами, справочными материалами, а также учебниками, мобильными телефонами, карманными компьютерами! Желаем успеха!

**Задание 1. «Географы-практики».**

Перед Вами участок плана местности. Ответьте на поставленные ниже плана вопросы. Ответ внесите в таблицу.

1. Какие объекты обозначены на карте условными знаками № 1–10?
2. Определите, по какому азимуту необходимо двигаться от вершины холма с абсолютной высотой 213 м до школы.
3. Определите через сколько метров по высоте проведены горизонтали (поперечное сечение рельефа).
4. Определите максимальную высоту на изображённой территории. Если невозможно указать точную цифру, то напишите ответ в виде интервала, например, более 50 м, но менее 55 м.
5. Водосборный бассейн какой реки показан на данной карте?
6. В каком направлении она протекает?
7. По какому искусственному сооружению проходит железная дорога, проходящая через станцию Луговая?
8. В какой лес Вы отправитесь, чтобы заготовить традиционные в России банные веники? Укажите цифру(ы) номера участка.
9. В какой природной зоне находится изображённая на карте территория?





№ элемента	Элемент ответа	Ответ
1.	1. Условный знак № 1	болото 1
	2. Условный знак № 2	луг 1
	3. Условный знак № 3	скошенные паша со сенокосом 0
	4. Условный знак № 4	бр 0
	5. Условный знак № 5	направление 0
	6. Условный знак № 6	дорога 1
	7. Условный знак № 7	срубленный лес 1
	8. Условный знак № 8	родник 1
	9. Условный знак № 9	колодезь 1
	10. Условный знак № 10	кладбище 0
2.	Азимут	286° 0
3.	Горизонтالي проведены через:	линия горизонта (нет масштаба) 0
4.	Максимальная высота	230 1
5.	Водосборный бассейн	реки Змейка 1
6.	Направление течения реки	в северном 1
7.	Искусственное железнодорожное сооружение	по дамбе 0
8.	Лес заготовки веников (номера)	1, 6, 4 1
9.	Природная зона	степанские леса 3

Максимальное количество баллов – 20.

Члены жюри (подписи) \_\_\_\_\_

(фактически  
набранное  
количество баллов)

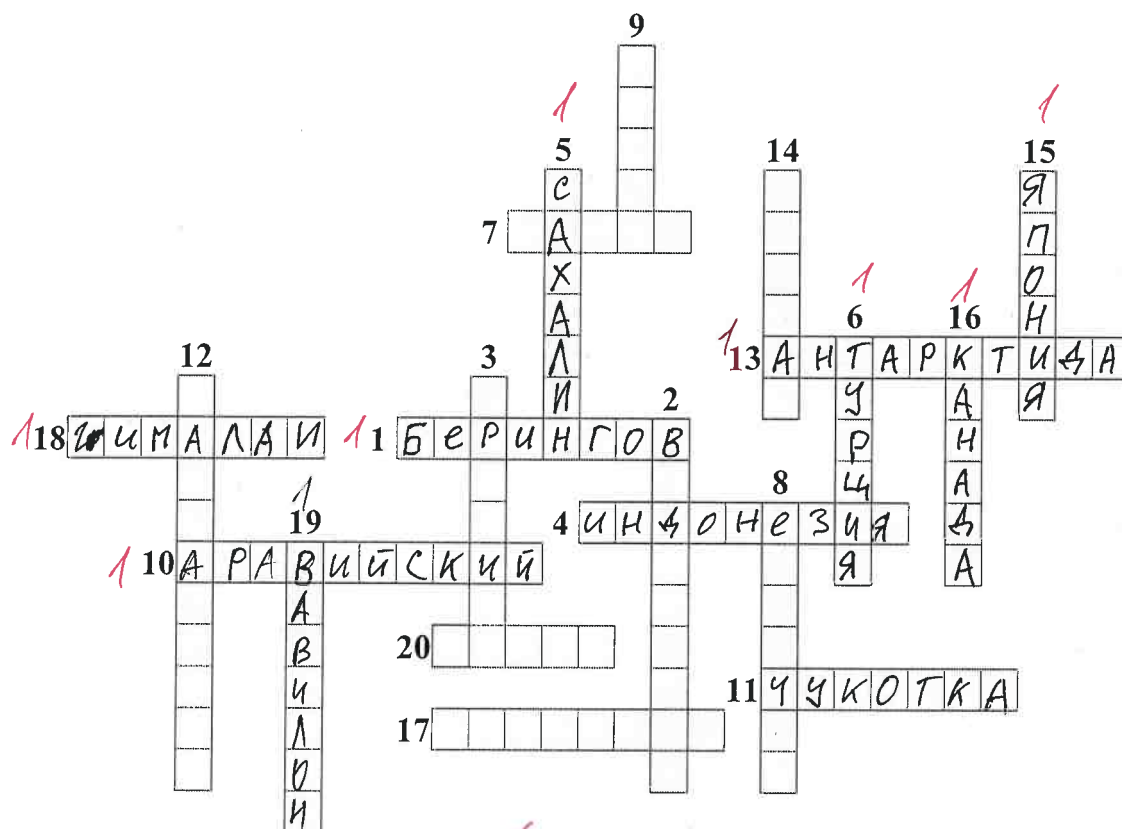
13

**Задание 2. Географическая разминка-кроссворд «По материкам и странам».**

Разгадайте предложенный кроссворд.

**По горизонтали.** 1. Название пролива между Россией и США. 4. Самый большой по площади архипелаг Земли. 7. Название залива, в котором зарегистрирована самая большая высота приливов (19,6 м). 10. Самый большой полуостров Земли. 11. Самый холодный населенный пункт России, «полюс холода» северного полушария. 13. Материк, на котором не бывает дождей. 17. Как называется полуостров, на котором находится значительная часть Королевства Дания? 18. Величайшая горная система, название которой с разных языков переводится как «снежная гора», «обитель снегов» и т.д. 20. Как называется местный сухой горячий шквалистый ветер юго-западного и западного направлений в пустыни Сахара и на Аравийском полуострове?

**По вертикали.** 2. Растение-эндемик пустыни Намиб с длинными листьями, умеющими впитывать влагу из воздуха. Растение, «растущее вниз». Увековечено на гербе Намибии. 3. Как называется крупный физико-географический район Земли, перевод названия которого с греческого языка означает «Территория под созвездием Большой Медведицы»? 5. Самый большой по площади территории остров России. 6. Какое государство занимает большую часть полуострова Малая Азия? 8. Самый высокий в мире древесный эндемик Северной Америки. 9. Узкий, длинный залив, окаймленный скалистыми берегами. Их много на Скандинавском полуострове. 12. Какое море называют «Морем без берегов»? 14. Самое распространенное дерево африканских саванн. Приспособилось накапливать влагу, чтобы пережить сухой сезон. 15. Крупнейшими островами какого государства являются Хонсю, Хоккайдо, Кюсю, Сикоку? 16. Страна, на флаге которой изображен кленовый лист. 19. Самое маленькое государство на планете (площадью всего лишь 0,44 км<sup>2</sup>).



Максимальное количество баллов – 20.

Члены жюри (подписи) \_\_\_\_\_

(фактически  
набранное  
количество баллов)




9

### Задание 3. Чтобы помнили...

В последние годы, к великому сожалению, в некоторых странах происходит забвение памяти павших героев в Великой Отечественной войне. Сносятся памятники, происходит отрицание событий того времени. Но в наше нелегкое время мы не должны забывать нашу историю.

В этом задании Вам предстоит изучить информацию о некоторых памятниках, посвященных событиям Великой Отечественной войны. В таблице даны описания или представлены изображения известных в нашей стране воинских мемориальных комплексов или памятников героям Великой Отечественной войны. Также сформулированы вопросы, связанные с этими мемориалами. Ответьте, пожалуйста, на них, занеся ответы в соответствующие строки третьего столбика.



№	Описание или изображение	Вопросы
1.	 <p data-bbox="523 589 802 622">Памятник-ансамбль</p>  <p data-bbox="579 1081 746 1115">Скульптура</p>	<p data-bbox="1034 215 1489 282">1. Название памятника-ансамбля: <u>Памятник военной славы</u></p> <p data-bbox="1034 327 1489 394">2. Название скульптуры памятника-ансамбля: <u>Родина-мать зовёт!</u></p> <p data-bbox="1034 472 1489 539">3. Название возвышенности, на которой расположен: _____</p> <p data-bbox="1034 584 1489 651">4. В каком городе расположен: <u>Калининград</u></p> <p data-bbox="1034 730 1489 797">5. Название города до 1925 г.: <del>Сталинград</del> <u>Елизаветинск</u></p> <p data-bbox="1034 875 1489 943">6. Название города с: 1925 по 1961 гг.: <u>Сталинград</u></p>
2.		<p data-bbox="1034 1122 1489 1189">1. Название памятника: _____</p> <p data-bbox="1034 1200 1489 1267">2. В каком субъекте России расположен: _____</p> <p data-bbox="1034 1346 1489 1413">3. В каком городе расположен: _____</p> <p data-bbox="1034 1424 1489 1525">4. На каком физико-географическом объекте (мысе) расположен: _____</p> <p data-bbox="1034 1570 1489 1682">5. Какой субъект Российской Федерации окружает тот, в котором расположен памятник: _____</p>



№	Описание или изображение	Вопросы
3.		<p>1. Название мемориального комплекса:  <u>Вечный огонь, Матери, ждавшим сыновей</u></p> <p>2. Субъект РФ, в котором расположен:  _____</p> <p>3. С каким регионом России граничит субъект, в котором расположен памятник:  _____</p>
4.	<p>История этого мемориального комплекса относится не только ко временам Великой Отечественной войны, но и к современности. 8 сентября 2022 года завершилась его реконструкция.</p> 	<p>1. Название мемориала:  <u>Памятник солдатам-фронтовикам</u></p> <p>2. Субъект РФ, в котором расположен:  <u>Севастополь</u></p> <p>3. В какой природной зоне находится территория этого мемориального комплекса:  _____</p> <p>4. Памятник расположен на одной из высших точек этого протяженного орографического объекта. Укажите его:  _____</p>

№	Описание или изображение	Вопросы
		

Максимальное количество баллов – 20.

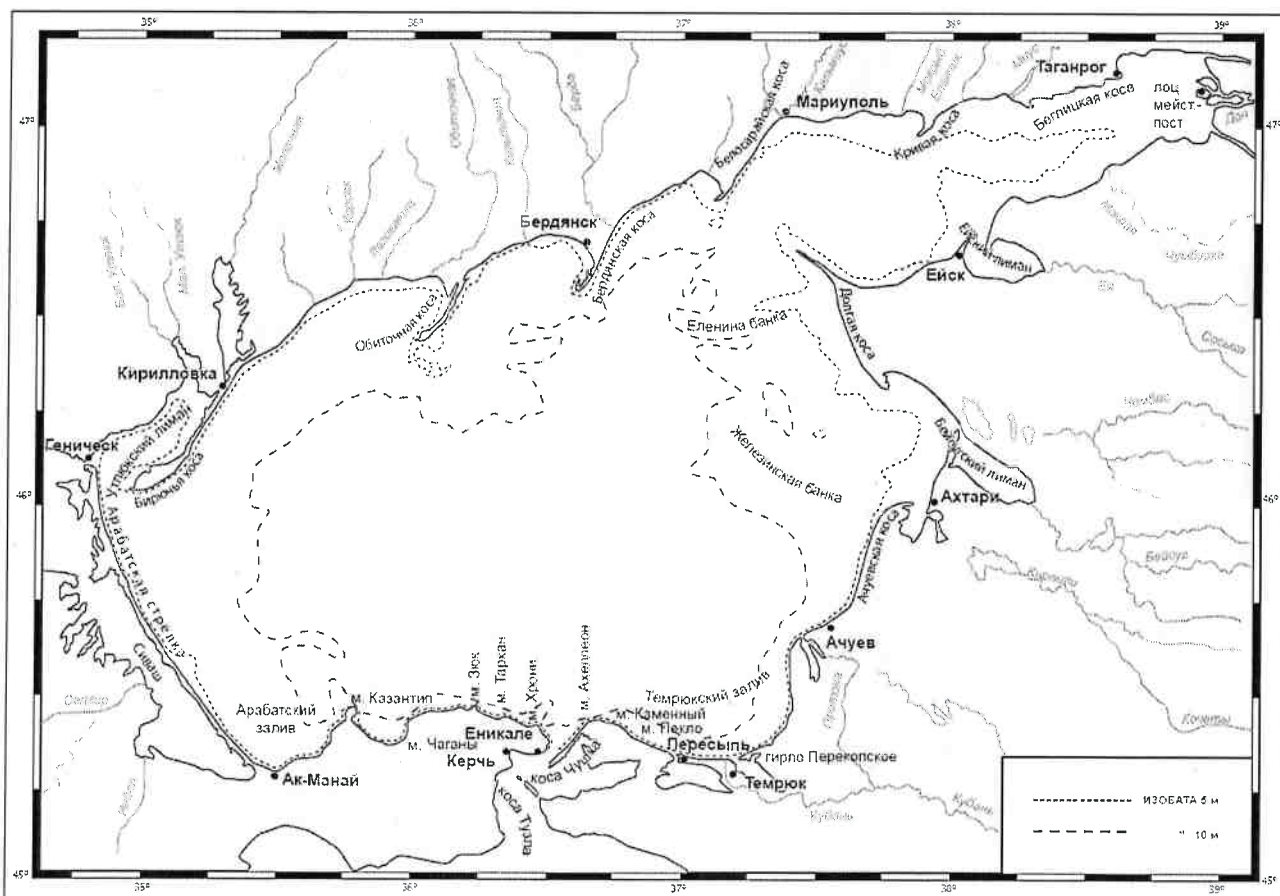
Члены жюри (подписи) \_\_\_\_\_

(фактически  
набранное  
количество баллов)

3

#### Задание 4. «По морям...по волнам...»

На рисунке представлена карта одного из гидрологических объектов. Да, он невелик по своим размерам, но достаточно важен для жизни нашей страны. Вам необходимо определить, что это за объект и ответить на ряд вопросов. Для простоты формулировки ответа они сформулированы в форме таблицы.



№	Вопрос	Ответ
1.	Как называется этот гидрологический объект?	
2.	Берега какой страны он омывает?	Украина
3.	Какие регионы этой страны имеют выход к этому объекту?	1. <u>Маритималь</u> 0 2. <u>Бердянский</u> 3. _____ 4. _____ 5. _____ 6. _____
4.	Укажите две крупные наиболее известные реки, впадающие в этот объект	1. <u>Кубань</u> 0,5 2. _____
5.	Как называются заливы, образованные в результате затопления морем долин рек из-за понижения уровня суши благодаря действию геологических процессов? В результате этого происходит смешивание пресных вод рек и соленых вод морей. Эти объекты также представлены на представленной береговой линии.	Полуостровные заливы 0
6.	В акваторию этого объекта вдается великое множество узких продолговатых геоморфологических объектов. Два аналога таковых присутствуют и в Калининградской области. Как называются эти объекты?	Коса, залив 1
7.	Как называется самый длинный объект (протяженность составляет 112 км), описанный в пункте 6 и расположенный в юго-западной части изучаемого объекта?	Зрабятская стрелка 1
8.	Какова средняя глубина этого гидрологического объекта? А максимальная?	1. Средняя глубина: _____ м 2. Максимальная глубина: _____ м
9.	На дне этого объекта находятся возвышенности, на которых средняя глубина становится еще меньше. Как называются тип этих возвышенности (есть стеклянный аналог тары)?	
10.	С каким более крупным гидрологическим объектом соединяется искомый в южной части?	
11.	Как называется пролив между ними?	
12.	Какой важный инфраструктурный объект построен через этот пролив?	
13.	Назовите как можно больше портов, расположенных на берегах этого водоема.	1. _____ 2. _____ 3. _____ 4. _____ 5. _____ 6. _____ 7. _____ 8. _____
14.	Каким материалом сложено большинство пляжей вокруг этого объекта?	Каменисто-песчаный 0

Максимальное количество баллов – 20.

Максимальное количество баллов за аналитический тур – 80.

Члены жюри (подписи) \_\_\_\_\_

(фактически набранное количество баллов)

2,5

**БЛАНК ЗАДАНИЙ**  
**муниципального этапа всероссийской олимпиады школьников**  
**по географии**  
(предмет)

**I ТУР (ТЕСТОВЫЙ)**

**2022/2023 учебный год**

**7 – 8 класс**

Общее время выполнения работы – **180 минут**.

На выполнение заданий I (тестового) тура отводится **60 минут**.

На II (аналитический) тур отводится **120 минут**.

При ответе на задания запрещено пользоваться школьными и прочими атласами, справочными материалами, а также учебниками, мобильными телефонами, карманными компьютерами! Желаем успеха!

Ответьте на поставленные вопросы, выбрав **один** правильный вариант ответа. При ответе на вопросы будьте очень внимательны, так как некоторые вопросы требуют определить неверный вариант или имеют формулировку с отрицанием.

**Не забудьте перенести свои ответы в бланк ответов (таблица)!**

1. Выберите правильное утверждение о расположении высочайшей точки России:

- 1) гора Белуха находится в Республике Алтай;
- 2) вулкан Ключевская Сопка расположен в Камчатском крае;
- 3) гора Эльбрус расположена на границе Кабардино-Балкарии и Карачаево-Черкесии;
- 4) гора Бештау находится в Ставропольском крае.

2. Выберите вариант ответа, в котором указаны столицы стран, имеющих выход к самому большому замкнутому водоему Земли:

- 1) Ашхабад, Тегеран, Баку, Астана; 2) Москва, Пекин, Улан-Батор, Астана;
- 3) Додома, Найроби, Кампала, Мапуту; 4) Дели, Катманду, Исламабад, Пекин.

3. В каком из вариантов ответа представлены только государства-архипелаги:

- 1) Мадагаскар, Непал, Мексика, Исландия; 2) Кирибати, Филиппины, Индонезия, Фиджи;
- 3) Туркменистан, Киргизия, Таджикистан, Узбекистан;
- 4) Португалия, Ирландия, Чили, Сомали.

4. Выберите верное утверждение, характеризующее географическое положение объектов:

- 1) Саудовская Аравия и Египет расположены на берегах Красного моря;
- 2) ЮАР и Намибия расположены в пустыне Сахара;
- 3) Марокко и Тунис расположены на берегу Индийского океана;
- 4) через Мавританию и Мали протекает река Нил.



5. Выберите вариант, в котором указаны субъекты России, расположенные на территории с избыточным увлажнением ( $K_u \gg 1$ ):

- 1) Ростовская обл., Ставропольский край, Луганская Народная Республика, Севастополь;
- 2) Приморский край, Чукотский авт. окр., Ямало-Ненецкий авт. окр., Мурманская обл.;
- 3) Респ. Алтай, Иркутская обл., Респ. Тыва, Курганская обл.;
- 4) Астраханская обл., Саратовская обл., Респ. Хакасия, Тамбовская обл.

6. В зону муссонной циркуляции атмосферы попадают такие территории как:

- 1) Красноярский край, Респ. Якутия, Ханты-Мансийский авт. окр., Респ. Бурятия;
- 2) Калининградская обл., Ленинградская обл., Санкт-Петербург, Псковская обл.;
- 3) Хабаровский край, Сахалинская обл., Амурская обл., Приморский край;
- 4) Респ. Марий Эл, Респ. Удмуртия, Респ. Татарстан, Кировская обл.

7. Выберите ряд стран, которые имеют выход к самым соленым морям:

- 1) Тунис, Италия, Саудовская Аравия, Эритрея;
- 2) Мозамбик, ЮАР, Танзания, Австралия;
- 3) Чили, Аргентина, Уругвай, Перу;
- 4) Индонезия, Малайзия, Вьетнам, Таиланд.

8. Выберите вариант, в котором указаны только опасные ледовые гидрологические явления:

- 1) наводнение, паводок, половодье; 2) обвал, осыпь, солифлюкция;
- 3) блуждающие огни, шепот звезд, трясина; 4) зажор, забереги, шуга;

9. Выберите правильное утверждение, указывающее на особенности географического положения географических объектов:

- 1) река Неман протекает по территории Белоруссии, Литвы и России;
- 2) остров Гренландия – это особый административный район Канады;
- 3) Россия и Таджикистан являются соседями первого порядка;
- 4) самая протяженная сухопутная граница у России с Китаем.

10. В составе древесных пород в России преобладают:

- 1) лиственница и сосна; 2) ель и пихта; 3) береза и дуб; 4) бук и граб.

11. Какое утверждение о размещении населения на определенных территориях Земли является верным:

- 1) самыми заселенными районами Австралии являются центральные;
- 2) максимальная плотность населения в США фиксируется на Востоке и Северо-Востоке;
- 3) самыми густонаселенными районами Европы являются Северная и Восточная Европа;
- 4) в Китае самыми слабозаселенными территориями являются Восток и Юго-Восток.

12. В каком географическом объекте расположен «Пуп Земли» (точка с географическими координатами  $0^{\circ}$  географической широты  $0^{\circ}$  географической долготы):

1) государство Нигерия; 2) г. Лондон; 3) горная система Гималаи; 4) Гвинейский залив.

13. Крупнейшим островом архипелага Японских островов является:

1) Хонсю; 2) Хоккайдо; 3) Кюсю; 4) Сикоку.

14. В каком случае амплитуда температур будет составлять  $58^{\circ}\text{C}$ :

1)  $-4^{\circ}\text{C}$  и  $+17^{\circ}\text{C}$ ; 2)  $+38^{\circ}\text{C}$  и  $+20^{\circ}\text{C}$ ; 3)  $-38^{\circ}\text{C}$  и  $+20^{\circ}\text{C}$ ; 4)  $-24^{\circ}\text{C}$  и  $+24^{\circ}\text{C}$  ?

15. Определите вариант ответа, в который закралась неточность:

1) река Нил впадает в Красное море; 2) река Нигер впадает в Гвинейский залив;

3) Суэцкий канал связывает Красное и Средиземное моря;

4) Средиземное море отделяет от вод Атлантического океана Гибралтарский пролив.

16. Выберите правильное сочетание «Природная зона – тип почв»:

1) влажные экваториальные леса – черноземы; 2) тайга – подзолистые;

3) степь – красно-желтые ферраллитные; 4) тундра – каштановые.

17. Выберите вариант ответа, в котором указаны, не характерные для Калининградской области формы рельефа:

1) карстовые воронки, бугры пучения, плоскогорья;

2) всхолмленные равнины, конечно-моренные гряды, речные долины;

3) польдеры, низменности, возвышенности; 4) дюны, авандюны, камовые холмы.

18. Выберите «лишнее» сочетание географических объектов:

1) Нил, Нигер, Конго; 2) Амазонка, Талажос, Парана; 3) Миссури, Миссисипи, Юкон;

4) Балхаш, Байкал, Иссык-Куль.

19. Выберите регион, в котором будет самая высокая вероятность циклонального типа погоды:

1) Сахалинская обл.; 2) Республика Тыва; 3) Свердловская обл.; 4) Иркутская обл.

20. Укажите вариант ответа, в котором перечислены горные области и территории, относящиеся к кайнозойской складчатости:

1) Срединный хребет, о. Сахалин, Кавказские горы;

2) Восточно-Европейская равнина, Среднесибирское плоскогорье, Становой хребет;

3) Верхоянский хребет, хребет Черского, Колымское нагорье;

4) Алтай, Саяны, Яблоновой хребет.

**Максимальное количество баллов – 20.**

## Бланк ответов

№ задания	Ответ	№ задания	Ответ
1.	3 ✓	11.	2 ✓
2.	1 ✓	12.	1
3.	2 ✓	13.	2
4.	1 ✓	14.	3 ✓
5.	2 ✓	15.	1 ✓
6.	1	16.	2 ✓
7.	1 ✓	17.	1 ✓
8.	1	18.	3
9.	1 ✓	19.	3
10.	1 ✓	20.	1 ✓

Член жюри : \_\_\_\_\_

(фактически  
набранное  
количество баллов)

14

**БЛАНК ЗАДАНИЙ**  
**муниципального этапа всероссийской олимпиады школьников**  
**по географии**  
(предмет)

**II ТУР (АНАЛИТИЧЕСКИЙ)**

**2022/2023 учебный год**

**7 – 8 класс**

Общее время выполнения работы – **180 минут**.

На II (аналитический) тур отводится **120 минут**.

Максимально возможное количество баллов, которое Вы можете набрать на аналитическом туре, составляет 80 баллов.

При ответе на задания запрещено пользоваться школьными и прочими атласами, справочными материалами, а также учебниками, мобильными телефонами, карманными компьютерами! Желаем успеха!

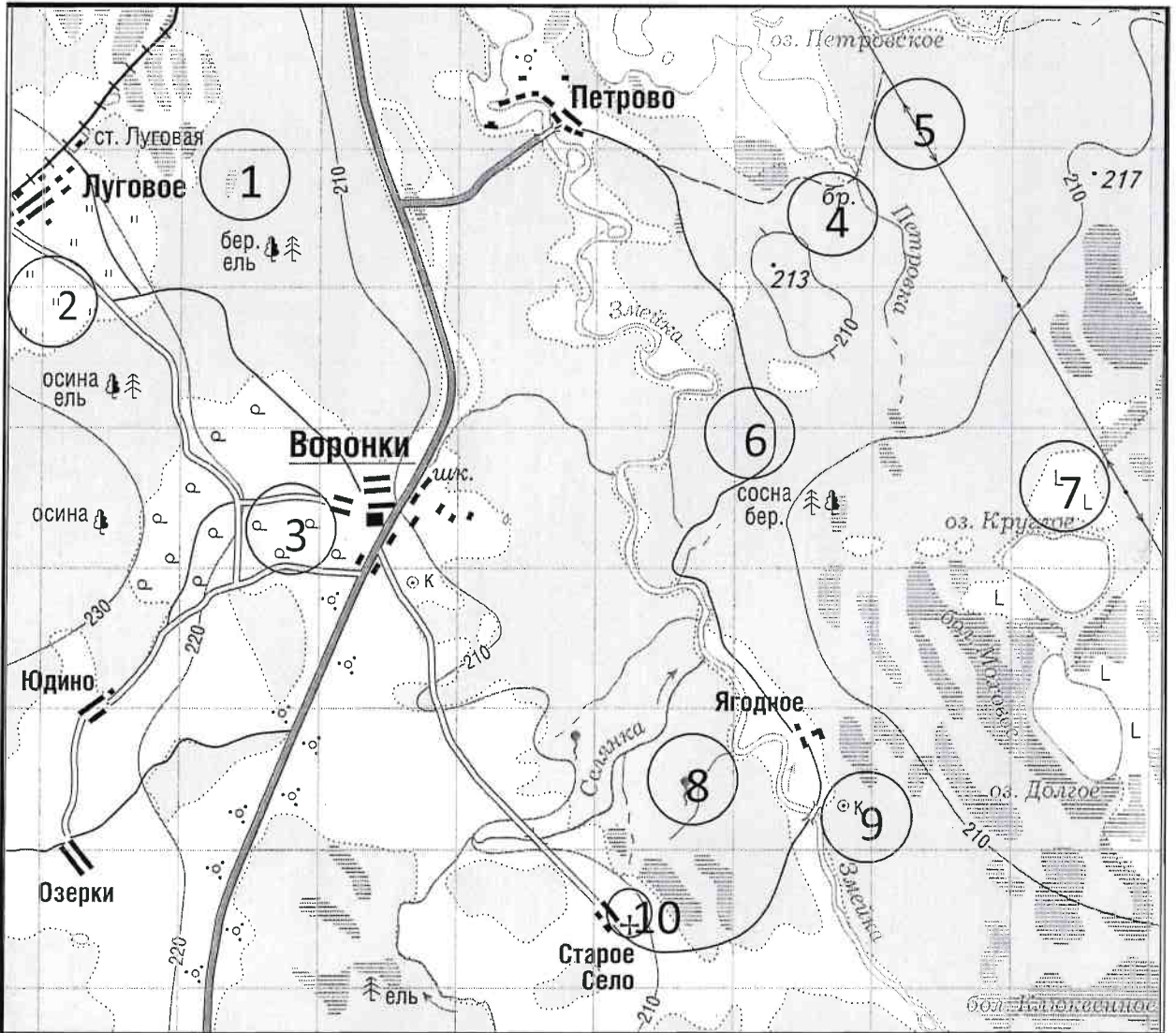
**Задание 1. «Географы-практики».**

Перед Вами участок плана местности. Ответьте на поставленные ниже плана вопросы. Ответ внесите в таблицу.

1. Какие объекты обозначены на карте условными знаками № 1–10?
2. Определите, по какому азимуту необходимо двигаться от вершины холма с абсолютной высотой 213 м до школы.
3. Определите через сколько метров по высоте проведены горизонтали (поперечное сечение рельефа).
4. Определите максимальную высоту на изображённой территории. Если невозможно указать точную цифру, то напишите ответ в виде интервала, например, более 50 м, но менее 55 м.
5. Водосборный бассейн какой реки показан на данной карте?
6. В каком направлении она протекает?
7. По какому искусственному сооружению проходит железная дорога, проходящая через станцию Луговая?
8. В какой лес Вы отправитесь, чтобы заготовить традиционные в России банные веники? Укажите цифру(ы) номера участка.
9. В какой природной зоне находится изображённая на карте территория?



1-8-17



№ элемента	Элемент ответа	Ответ
1.	1. Условный знак № 1	Долото 1
	2. Условный знак № 2	Хлеб 0
	3. Условный знак № 3	Саж 0
	4. Условный знак № 4	брод 1
	5. Условный знак № 5	
	6. Условный знак № 6	Теплоходная дорожка 1
	7. Условный знак № 7	Лалунд 0
	8. Условный знак № 8	Козник 1
	9. Условный знак № 9	
	10. Условный знак № 10	
2.	Азимут	125° 0
3.	Горизонтالي проведены через:	10 метров 1
4.	Максимальная высота	более 230 м, но менее 240 м 1
5.	Водосборный бассейн	Змейка 1
6.	Направление течения реки	На север 1
7.	Искусственное железнодорожное сооружение	
8.	Лес заготовки веников (номера)	7, 6 1
9.	Природная зона	Смешанные леса 3

Максимальное количество баллов – 20.

Члены жюри (подписи) \_\_\_\_\_

*[Handwritten signature]*

(фактически набранное количество баллов)

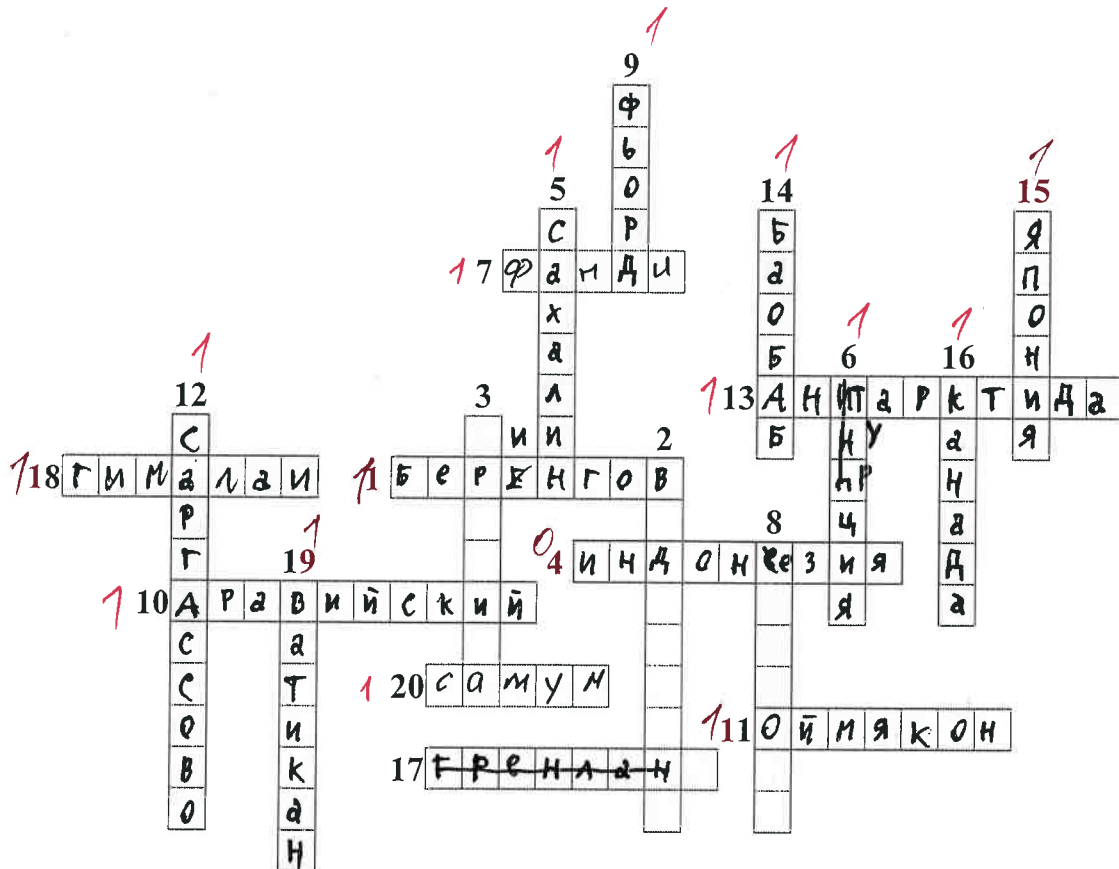
19.

**Задание 2. Географическая разминка-кроссворд «По материкам и странам».**

Разгадайте предложенный кроссворд.

**По горизонтали.** 1. Название пролива между Россией и США. 4. Самый большой по площади архипелаг Земли. 7. Название залива, в котором зарегистрирована самая большая высота приливов (19,6 м). 10. Самый большой полуостров Земли. 11. Самый холодный населенный пункт России, «полюс холода» северного полушария. 13. Материк, на котором не бывает дождей. 17. Как называется полуостров, на котором находится значительная часть Королевства Дания? 18. Величайшая горная система, название которой с разных языков переводится как «снежная гора», «обитель снегов» и т.д. 20. Как называется местный сухой горячий шквалистый ветер юго-западного и западного направлений в пустыни Сахара и на Аравийском полуострове?

**По вертикали.** 2. Растение-эндемик пустыни Намиб с длинными листьями, умеющими впитывать влагу из воздуха. Растение, «растущее вниз». Увековечено на гербе Намибии. 3. Как называется крупный физико-географический район Земли, перевод названия которого с греческого языка означает «Территория под созвездием Большой Медведицы»? 5. Самый большой по площади территории остров России. 6. Какое государство занимает большую часть полуострова Малая Азия? 8. Самый высокий в мире древесный эндемик Северной Америки. 9. Узкий, длинный залив, окаймленный скалистыми берегами. Их много на Скандинавском полуострове. 12. Какое море называют «Морем без берегов»? 14. Самое распространенное дерево африканских саванн. Приспособилось накапливать влагу, чтобы пережить сухой сезон. 15. Крупнейшими островами какого государства являются Хонсю, Хоккайдо, Кюсю, Сикоку? 16. Страна, на флаге которой изображен кленовый лист. 19. Самое маленькое государство на планете (площадью всего лишь 0,44 км<sup>2</sup>).



Максимальное количество баллов – 20.

Члены жюри (подписи) \_\_\_\_\_


(фактически  
набранное  
количество баллов)

15


### Задание 3. Чтобы помнили...

В последние годы, к великому сожалению, в некоторых странах происходит забвение памяти павших героев в Великой Отечественной войне. Сносятся памятники, происходит отрицание событий того времени. Но в наше нелегкое время мы не должны забывать нашу историю.

В этом задании Вам предстоит изучить информацию о некоторых памятниках, посвященных событиям Великой Отечественной войны. В таблице даны описания или представлены изображения известных в нашей стране воинских мемориальных комплексов или памятников героям Великой Отечественной войны. Также сформулированы вопросы, связанные с этими мемориалами. Ответьте, пожалуйста, на них, занеся ответы в соответствующие строки третьего столбика.

№	Описание или изображение	Вопросы
1.	 <p data-bbox="523 584 799 613">Памятник-ансамбль</p>  <p data-bbox="576 1079 740 1108">Скульптура</p>	<p data-bbox="1034 208 1481 277">1. Название памятника-ансамбля:</p> <hr/> <p data-bbox="1034 320 1481 389">2. Название скульптуры памятника-ансамбля:</p> <p data-bbox="1034 389 1481 432"><u>Родина Мать зовёт!</u> 7</p> <p data-bbox="1034 472 1481 542">3. Название возвышенности, на которой расположен:</p> <hr/> <p data-bbox="1034 582 1481 611">4. В каком городе расположен:</p> <hr/> <p data-bbox="1034 658 1481 701"><u>Волгоград</u> 7</p> <p data-bbox="1034 741 1481 770">5. Название города до 1925 г.:</p> <hr/> <p data-bbox="1034 875 1481 945">6. Название города с: 1925 по 1961 гг.:</p> <hr/>
2.		<p data-bbox="1034 1122 1481 1151">1. Название памятника:</p> <hr/> <p data-bbox="1034 1193 1481 1263">2. В каком субъекте России расположен:</p> <hr/> <p data-bbox="1034 1346 1481 1375">3. В каком городе расположен:</p> <hr/> <p data-bbox="1034 1417 1481 1532">4. На каком физико-географическом объекте (мысе) расположен:</p> <hr/> <p data-bbox="1034 1570 1481 1684">5. Какой субъект Российской Федерации окружает тот, в котором расположен памятник:</p> <hr/>



№	Описание или изображение	Вопросы
3.		<p>1. Название мемориального комплекса:</p> <hr/> <hr/> <p>2. Субъект РФ, в котором расположен:</p> <hr/> <p>3. С каким регионом России граничит субъект, в котором расположен памятник:</p> <hr/>
4.	<p>История этого мемориального комплекса относится не только ко временам Великой Отечественной войны, но и к современности. 8 сентября 2022 года завершилась его реконструкция.</p> 	<p>1. Название мемориала:</p> <hr/> <p>2. Субъект РФ, в котором расположен:</p> <hr/> <p>3. В какой природной зоне находится территория этого мемориального комплекса:</p> <hr/> <p>4. Памятник расположен на одной из высших точек этого протяженного орографического объекта. Укажите его:</p> <hr/>

№	Описание или изображение	Вопросы
		

Максимальное количество баллов – 20.

Члены жюри (подписи) \_\_\_\_\_

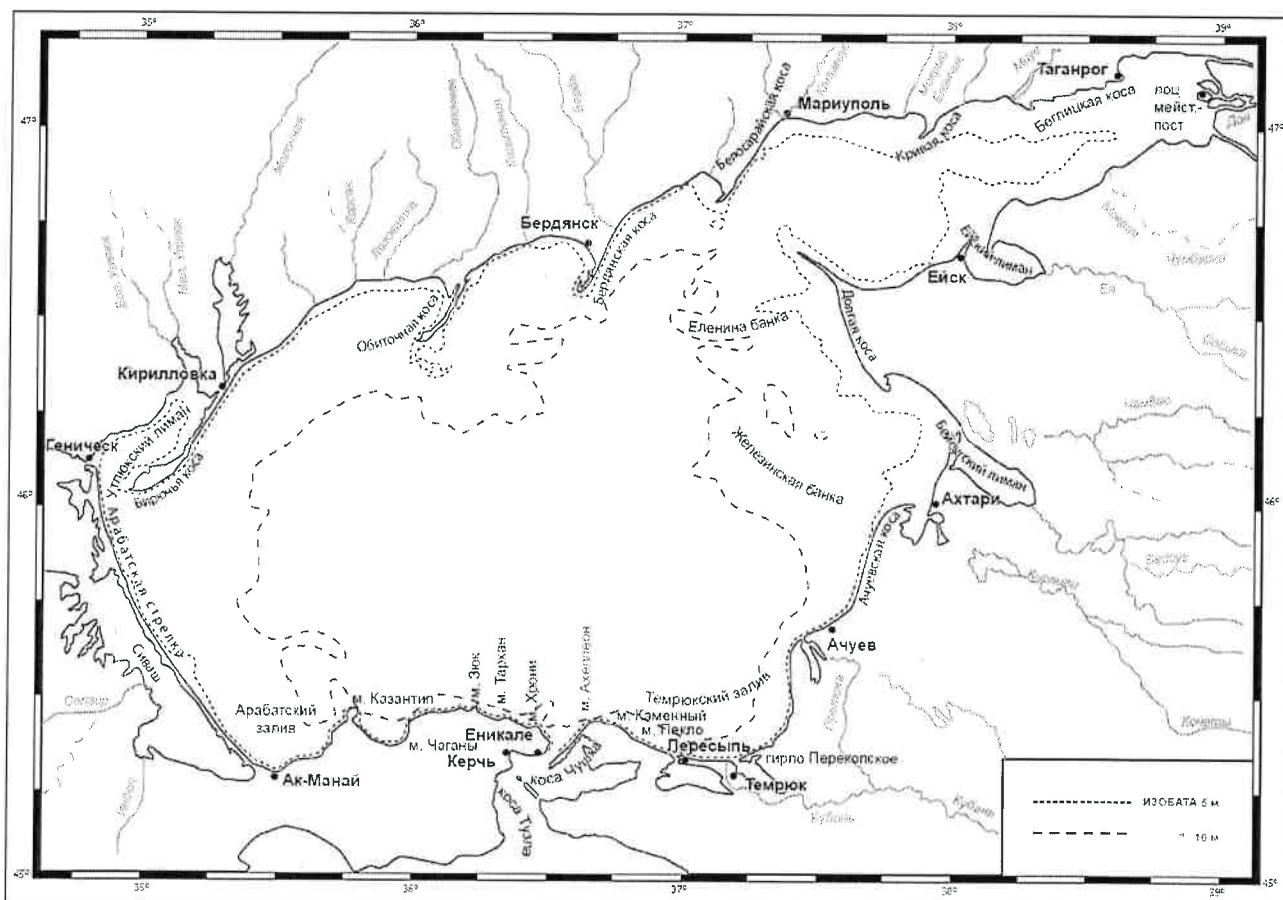
*В.В.*

(фактически  
набранное  
количество баллов)

*2*

#### Задание 4. «По морям...по волнам...»

На рисунке представлена карта одного из гидрологических объектов. Да, он невелик по своим размерам, но достаточно важен для жизни нашей страны. Вам необходимо определить, что это за объект и ответить на ряд вопросов. Для простоты формулировки ответа они сформулированы в форме таблицы.



№	Вопрос	Ответ
1.	Как называется этот гидрологический объект?	Азовское море 1
2.	Берега какой страны он омывает?	Россия 1
3.	Какие регионы этой страны имеют выход к этому объекту?	1. Ростовская область 0,5 2. Краснодарский край 0,5 3. _____ 4. _____ 5. _____ 6. _____
4.	Укажите две крупные наиболее известные реки, впадающие в этот объект	1. Дон 0,5 2. Кубань 0,5
5.	Как называются заливы, образованные в результате затопления морем долин рек из-за понижения уровня суши благодаря действию геологических процессов? В результате этого происходит смешивание пресных вод рек и соленых вод морей. Эти объекты также представлены на представленной береговой линии.	
6.	В акваторию этого объекта вдается великое множество узких продолговатых геоморфологических объектов. Два аналога таковых присутствуют и в Калининградской области. Как называются эти объекты?	Хурьинская коса, Балтийская коса 1
7.	Арабатская стрелка 1	
8.	Какова средняя глубина этого гидрологического объекта? А максимальная?	1. Средняя глубина: 70 м 0 2. Максимальная глубина: 75 м 0
9.	На дне этого объекта находятся возвышенности, на которых средняя глубина становится еще меньше. Как называются тип этих возвышенности (есть стеклянный аналог тары)?	
10.	С каким более крупным гидрологическим объектом соединяется искомый в южной части?	Черное море 1
11.	Как называется пролив между ними?	Керченский пролив 1
12.	Какой важный инфраструктурный объект построен через этот пролив?	Керченский мост 0
13.	Назовите как можно больше портов, расположенных на берегах этого водоема.	1. _____ 2. _____ 3. _____ 4. _____ 5. _____ 6. _____ 7. _____ 8. _____
14.	Каким материалом сложено большинство пляжей вокруг этого объекта?	Песок 0

Максимальное количество баллов – 20.

Максимальное количество баллов за аналитический тур – 80.

Члены жюри (подписи) \_\_\_\_\_

(фактически  
набранное  
количество баллов)

**БЛАНК ЗАДАНИЙ**  
**муниципального этапа всероссийской олимпиады школьников**  
**по географии**  
(предмет)

**I ТУР (ТЕСТОВЫЙ)**

**2022/2023 учебный год**

**7 – 8 класс**

Общее время выполнения работы – **180 минут**.

На выполнение заданий I (тестового) тура отводится **60 минут**.

На II (аналитический) тур отводится **120 минут**.

При ответе на задания запрещено пользоваться школьными и прочими атласами, справочными материалами, а также учебниками, мобильными телефонами, карманными компьютерами! Желаем успеха!

Ответьте на поставленные вопросы, выбрав **один** правильный вариант ответа. При ответе на вопросы будьте очень внимательны, так как некоторые вопросы требуют определить неверный вариант или имеют формулировку с отрицанием.

**Не забудьте перенести свои ответы в бланк ответов (таблица)!**

1. Выберите правильное утверждение о расположении высочайшей точки России:

- 1) гора Белуха находится в Республике Алтай;
- 2) вулкан Ключевская Сопка расположен в Камчатском крае;
- 3) гора Эльбрус расположена на границе Кабардино-Балкарии и Карачаево-Черкесии;
- 4) гора Бештау находится в Ставропольском крае.

2. Выберите вариант ответа, в котором указаны столицы стран, имеющих выход к самому большому замкнутому водоему Земли:

- 1) Ашхабад, Тегеран, Баку, Астана; 2) Москва, Пекин, Улан-Батор, Астана;
- 3) Додома, Найроби, Кампала, Мапуту; 4) Дели, Катманду, Исламабад, Пекин.

3. В каком из вариантов ответа представлены только государства-архипелаги:

- 1) Мадагаскар, Непал, Мексика, Исландия; 2) Кирибати, Филиппины, Индонезия, Фиджи;
- 3) Туркменистан, Киргизия, Таджикистан, Узбекистан;
- 4) Португалия, Ирландия, Чили, Сомали.

4. Выберите верное утверждение, характеризующее географическое положение объектов:

- 1) Саудовская Аравия и Египет расположены на берегах Красного моря;
- 2) ЮАР и Намибия расположены в пустыне Сахара;
- 3) Марокко и Тунис расположены на берегу Индийского океана;
- 4) через Мавританию и Мали протекает река Нил.



5. Выберите вариант, в котором указаны субъекты России, расположенные на территории с избыточным увлажнением ( $K_u \gg 1$ ):
- 1) Ростовская обл., Ставропольский край, Луганская Народная Республика, Севастополь;
  - 2) Приморский край, Чукотский авт. окр., Ямало-Ненецкий авт. окр., Мурманская обл.;
  - 3) Респ. Алтай, Иркутская обл., Респ. Тыва, Курганская обл.;
  - 4) Астраханская обл., Саратовская обл., Респ. Хакасия, Тамбовская обл.
6. В зону муссонной циркуляции атмосферы попадают такие территории как:
- 1) Красноярский край, Респ. Якутия, Ханты-Мансийский авт. окр., Респ. Бурятия;
  - 2) Калининградская обл., Ленинградская обл., Санкт-Петербург, Псковская обл.;
  - 3) Хабаровский край, Сахалинская обл., Амурская обл., Приморский край;
  - 4) Респ. Марий Эл, Респ. Удмуртия, Респ. Татарстан, Кировская обл.
7. Выберите ряд стран, которые имеют выход к самым соленым морям:
- 1) Тунис, Италия, Саудовская Аравия, Эритрея;
  - 2) Мозамбик, ЮАР, Танзания, Австралия;
  - 3) Чили, Аргентина, Уругвай, Перу;
  - 4) Индонезия, Малайзия, Вьетнам, Таиланд.
8. Выберите вариант, в котором указаны только опасные ледовые гидрологические явления:
- 1) наводнение, паводок, половодье; 2) обвал, осыпь, солифлюкция;
  - 3) блуждающие огни, шепот звезд, трясина; 4) зажор, забереги, шуга;
9. Выберите правильное утверждение, указывающее на особенности географического положения географических объектов:
- 1) река Неман протекает по территории Белоруссии, Литвы и России;
  - 2) остров Гренландия – это особый административный район Канады;
  - 3) Россия и Таджикистан являются соседями первого порядка;
  - 4) самая протяженная сухопутная граница у России с Китаем.
10. В составе древесных пород в России преобладают:
- 1) лиственница и сосна; 2) ель и пихта; 3) береза и дуб; 4) бук и граб.
11. Какое утверждение о размещении населения на определенных территориях Земли является верным:
- 1) самыми заселенными районами Австралии являются центральные;
  - 2) максимальная плотность населения в США фиксируется на Востоке и Северо-Востоке;
  - 3) самыми густонаселенными районами Европы являются Северная и Восточная Европа;
  - 4) в Китае самыми слабозаселенными территориями являются Восток и Юго-Восток.

12. В каком географическом объекте расположен «Пуп Земли» (точка с географическими координатами  $0^0$  географической широты  $0^0$  географической долготы):  
1) государство Нигерия; 2) г. Лондон; 3) горная система Гималаи; 4) Гвинейский залив.
13. Крупнейшим островом архипелага Японских островов является:  
1) Хонсю; 2) Хоккайдо; 3) Кюсю; 4) Сикоку.
14. В каком случае амплитуда температур будет составлять  $58^0\text{C}$ :  
1)  $-4^0\text{C}$  и  $+17^0\text{C}$ ; 2)  $+38^0\text{C}$  и  $+20^0\text{C}$ ; 3)  $-38^0\text{C}$  и  $+20^0\text{C}$ ; 4)  $-24^0\text{C}$  и  $+24^0\text{C}$  ?
15. Определите вариант ответа, в который закралась неточность:  
1) река Нил впадает в Красное море; 2) река Нигер впадает в Гвинейский залив;  
3) Суэцкий канал связывает Красное и Средиземное моря;  
4) Средиземное море отделяет от вод Атлантического океана Гибралтарский пролив.
16. Выберите правильное сочетание «Природная зона – тип почв»:  
1) влажные экваториальные леса – черноземы; 2) тайга – подзолистые;  
3) степь – красно-желтые ферраллитные; 4) тундра – каштановые.
17. Выберите вариант ответа, в котором указаны, не характерные для Калининградской области формы рельефа:  
1) карстовые воронки, бугры пучения, плоскогорья;  
2) всхолмленные равнины, конечно-моренные гряды, речные долины;  
3) польдеры, низменности, возвышенности; 4) дюны, авандюны, камовые холмы.
18. Выберите «лишнее» сочетание географических объектов:  
1) Нил, Нигер, Конго; 2) Амазонка, Тапажос, Парана; 3) Миссури, Миссисипи, Юкон;  
4) Балхаш, Байкал, Иссык-Куль.
19. Выберите регион, в котором будет самая высокая вероятность циклонального типа погоды:  
1) Сахалинская обл.; 2) Республика Тыва; 3) Свердловская обл.; 4) Иркутская обл.
20. Укажите вариант ответа, в котором перечислены горные области и территории, относящиеся к кайнозойской складчатости:  
1) Срединный хребет, о. Сахалин, Кавказские горы;  
2) Восточно-Европейская равнина, Среднесибирское плоскогорье, Становой хребет;  
3) Верхоянский хребет, хребет Черского, Колымское нагорье;  
4) Алтай, Саяны, Яблоновой хребет.

**Максимальное количество баллов – 20.**

## Бланк ответов

№ задания	Ответ	№ задания	Ответ
1.	2.	11.	2 ✓
2.	<del>2</del> 1 ✓	12.	1
3.	2 ✓	13.	1 ✓
4.	1 ✓	14.	3 ✓
5.	3.	15.	1 ✓
6.	1	16.	1
7.	1 ✓	17.	1 ✓
8.	4 ✓	18.	3
9.	1 ✓	19.	1 ✓
10.	1 ✓	20.	2

Член жюри : \_\_\_\_\_

(фактически  
набранное  
количество баллов)

13

**БЛАНК ЗАДАНИЙ**  
**муниципального этапа всероссийской олимпиады школьников**  
**по географии**  
(предмет)

**II ТУР (АНАЛИТИЧЕСКИЙ)**

**2022/2023 учебный год**

**7 – 8 класс**

Общее время выполнения работы – **180 минут**.

На II (аналитический) тур отводится **120 минут**.

Максимально возможное количество баллов, которое Вы можете набрать на аналитическом туре, составляет 80 баллов.

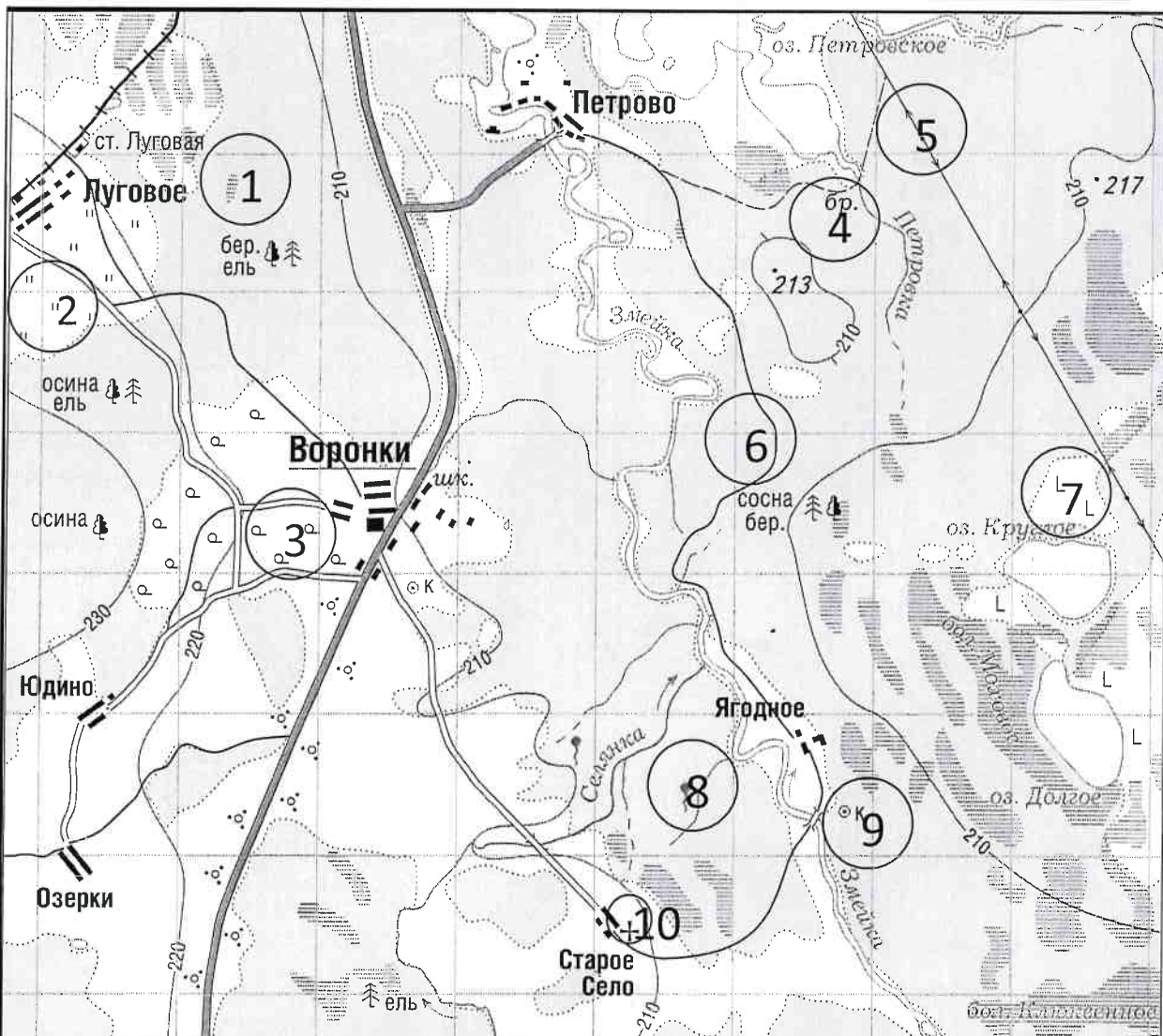
При ответе на задания запрещено пользоваться школьными и прочими атласами, справочными материалами, а также учебниками, мобильными телефонами, карманными компьютерами! Желаем успеха!

**Задание 1. «Географы-практики».**

Перед Вами участок плана местности. Ответьте на поставленные ниже плана вопросы. Ответ внесите в таблицу.

1. Какие объекты обозначены на карте условными знаками № 1–10?
2. Определите, по какому азимуту необходимо двигаться от вершины холма с абсолютной высотой 213 м до школы.
3. Определите через сколько метров по высоте проведены горизонтали (поперечное сечение рельефа).
4. Определите максимальную высоту на изображённой территории. Если невозможно указать точную цифру, то напишите ответ в виде интервала, например, более 50 м, но менее 55 м.
5. Водосборный бассейн какой реки показан на данной карте?
6. В каком направлении она протекает?
7. По какому искусственному сооружению проходит железная дорога, проходящая через станцию Луговая?
8. В какой лес Вы отправитесь, чтобы заготовить традиционные в России банные веники? Укажите цифру(ы) номера участка.
9. В какой природной зоне находится изображённая на карте территория?





№ элемента	Элемент ответа	Ответ
1.	1. Условный знак № 1	<i>балота 1</i>
	2. Условный знак № 2	<i>тух муз 1</i>
	3. Условный знак № 3	
	4. Условный знак № 4	
	5. Условный знак № 5	
	6. Условный знак № 6	<i>дорога 1</i>
	7. Условный знак № 7	
	8. Условный знак № 8	<i>радиус 1</i>
	9. Условный знак № 9	
	10. Условный знак № 10	
2.	Азимут	<i>240 1</i>
3.	Горизонтالي проведены через:	
4.	Максимальная высота	<i>&gt;213, &lt; 230 1</i>
5.	Водосборный бассейн	<i>Змея 1</i>
6.	Направление течения реки	<i>северное 1</i>
7.	Искусственное железнодорожное сооружение	<i>поселеное 0</i>
8.	Лес заготовки веников (номера)	<i>3 2 0</i>
9.	Природная зона	<i>укрепленная 0</i>

Максимальное количество баллов – 20.

Члены жюри (подписи) \_\_\_\_\_

(фактически набранное количество баллов)

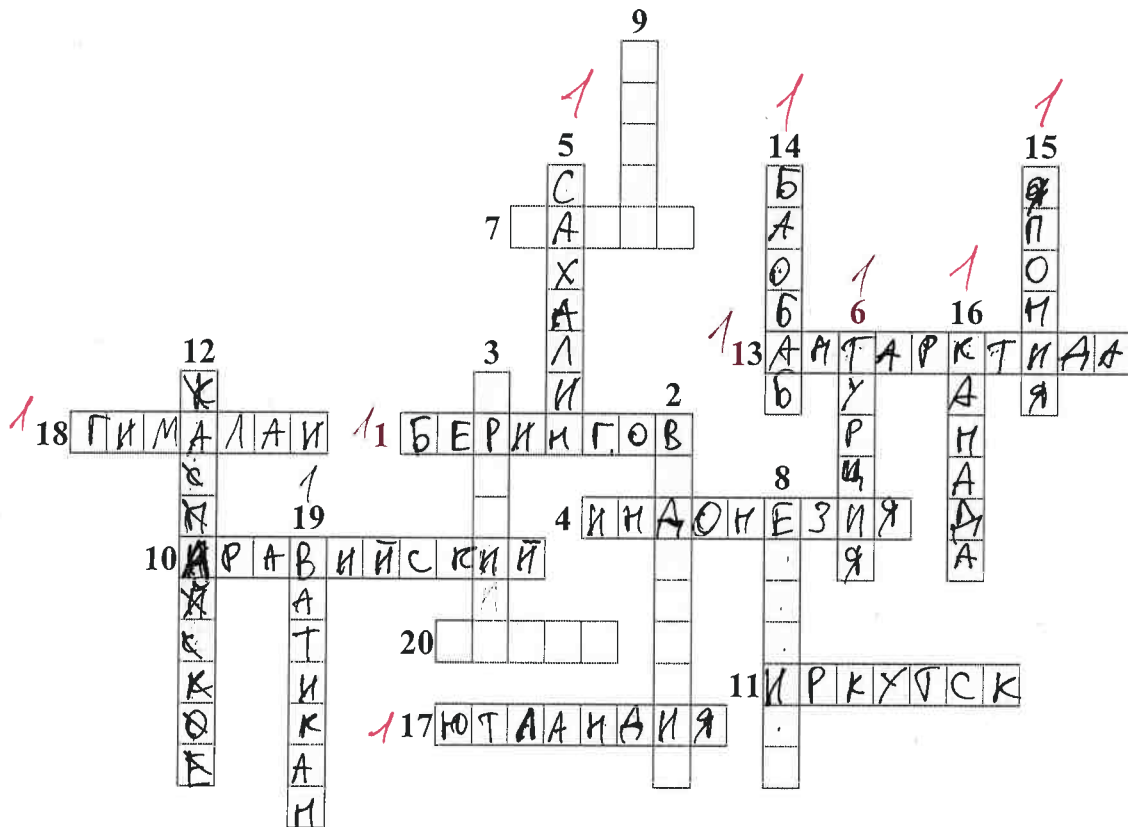
*8*

**Задание 2. Географическая разминка-кроссворд «По материкам и странам».**

Разгадайте предложенный кроссворд.

**По горизонтали.** 1. Название пролива между Россией и США. 4. Самый большой по площади архипелаг Земли. 7. Название залива, в котором зарегистрирована самая большая высота приливов (19,6 м). 10. Самый большой полуостров Земли. 11. Самый холодный населенный пункт России, «полюс холода» северного полушария. 13. Материк, на котором не бывает дождей. 17. Как называется полуостров, на котором находится значительная часть Королевства Дания? 18. Величайшая горная система, название которой с разных языков переводится как «снежная гора», «обитель снегов» и т.д. 20. Как называется местный сухой горячий шквалистый ветер юго-западного и западного направлений в пустыни Сахара и на Аравийском полуострове?

**По вертикали.** 2. Растение-эндемик пустыни Намиб с длинными листьями, умеющими впитывать влагу из воздуха. Растение, «растущее вниз». Увековечено на гербе Намибии. 3. Как называется крупный физико-географический район Земли, перевод названия которого с греческого языка означает «Территория под созвездием Большой Медведицы»? 5. Самый большой по площади территории остров России. 6. Какое государство занимает большую часть полуострова Малая Азия? 8. Самый высокий в мире древесный эндемик Северной Америки. 9. Узкий, длинный залив, окаймленный скалистыми берегами. Их много на Скандинавском полуострове. 12. Какое море называют «Морем без берегов»? 14. Самое распространенное дерево африканских саванн. Приспособилось накапливать влагу, чтобы пережить сухой сезон. 15. Крупнейшими островами какого государства являются Хонсю, Хоккайдо, Кюсю, Сикоку? 16. Страна, на флаге которой изображен кленовый лист. 19. Самое маленькое государство на планете (площадью всего лишь 0,44 км<sup>2</sup>).



Максимальное количество баллов – 20.

Члены жюри (подписи) \_\_\_\_\_




(фактически  
набранное  
количество баллов)

10

### Задание 3. Чтобы помнили...

В последние годы, к великому сожалению, в некоторых странах происходит забвение памяти павших героев в Великой Отечественной войне. Сносятся памятники, происходит отрицание событий того времени. Но в наше нелегкое время мы не должны забывать нашу историю.

В этом задании Вам предстоит изучить информацию о некоторых памятниках, посвященных событиям Великой Отечественной войны. В таблице даны описания или представлены изображения известных в нашей стране воинских мемориальных комплексов или памятников героям Великой Отечественной войны. Также сформулированы вопросы, связанные с этими мемориалами. Ответьте, пожалуйста, на них, занеся ответы в соответствующие строки третьего столбика.

№	Описание или изображение	Вопросы
1.	 <p data-bbox="523 577 799 611">Памятник-ансамбль</p>  <p data-bbox="576 1070 743 1106">Скульптура</p>	<p data-bbox="1034 203 1481 271">1. Название памятника-ансамбля:</p> <p data-bbox="1034 315 1481 383">2. Название скульптуры памятника-ансамбля:</p> <p data-bbox="1034 461 1481 528">3. Название возвышенности, на которой расположен:</p> <p data-bbox="1034 573 1481 640">4. В каком городе расположен: <u>Волгоград 1</u></p> <p data-bbox="1034 730 1481 797">5. Название города до 1925 г.: <u>Волгоград</u></p> <p data-bbox="1034 864 1481 931">6. Название города с: 1925 по 1961 гг.: <u>Сталинград 1</u></p>
2.		<p data-bbox="1034 1113 1481 1180">1. Название памятника:</p> <p data-bbox="1034 1189 1481 1256">2. В каком субъекте России расположен:</p> <p data-bbox="1034 1335 1481 1402">3. В каком городе расположен:</p> <p data-bbox="1034 1413 1481 1525">4. На каком физико-географическом объекте (мысе) расположен:</p> <p data-bbox="1034 1559 1481 1671">5. Какой субъект Российской Федерации окружает тот, в котором расположен памятник:</p>



№	Описание или изображение	Вопросы
3.		<p>1. Название мемориального комплекса:</p> <p>_____</p> <p>_____</p> <p>2. Субъект РФ, в котором расположен:</p> <p>_____</p> <p>3. С каким регионом России граничит субъект, в котором расположен памятник:</p> <p>_____</p>
4.	<p>История этого мемориального комплекса относится не только ко временам Великой Отечественной войны, но и к современности. 8 сентября 2022 года завершилась его реконструкция.</p> 	<p>1. Название мемориала:</p> <p>_____</p> <p>2. Субъект РФ, в котором расположен:</p> <p>_____</p> <p>3. В какой природной зоне находится территория этого мемориального комплекса:</p> <p>_____</p> <p>4. Памятник расположен на одной из высших точек этого протяженного орографического объекта. Укажите его:</p> <p>_____</p>

№	Описание или изображение	Вопросы
		

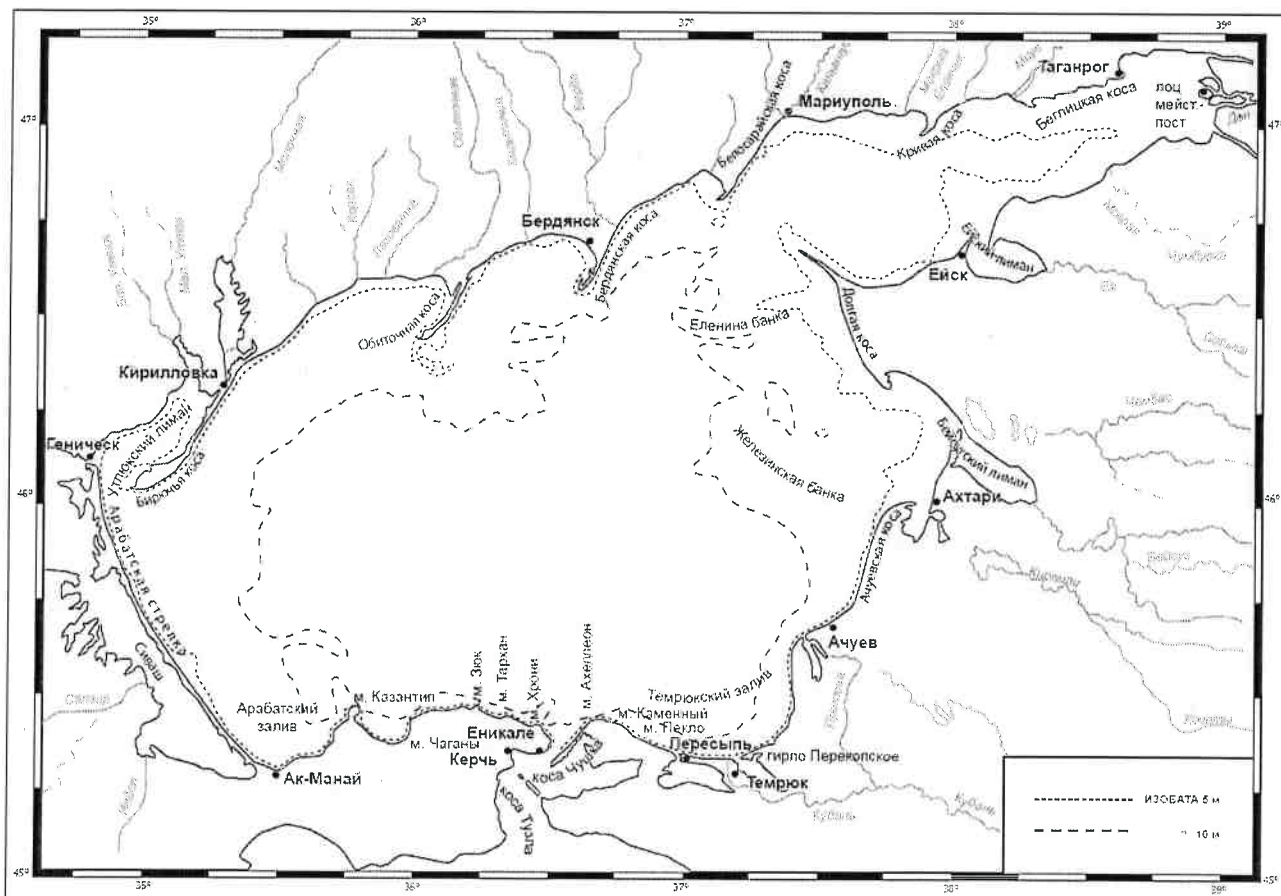
Максимальное количество баллов – 20.

Члены жюри (подписи) \_\_\_\_\_

(фактически  
набранное  
количество баллов)

#### Задание 4. «По морям...по волнам...»

На рисунке представлена карта одного из гидрологических объектов. Да, он невелик по своим размерам, но достаточно важен для жизни нашей страны. Вам необходимо определить, что это за объект и ответить на ряд вопросов. Для простоты формулировки ответа они сформулированы в форме таблицы.



№	Вопрос	Ответ
1.	Как называется этот гидрологический объект?	Азовское море 1
2.	Берега какой страны он омывает?	Россия 1
3.	Какие регионы этой страны имеют выход к этому объекту?	1. Запорожская область 0,5 2. Луганская Народная Республика 3. Ростовская область 0,5 4. Республика Крым 0,5 5. 6. 1,5
4.	Укажите две крупные наиболее известные реки, впадающие в этот объект	1. Кубань 1 2. Дон.
5.	Как называются заливы, образованные в результате затопления морем долин рек из-за понижения уровня суши благодаря действию геологических процессов? В результате этого происходит смешивание пресных вод рек и соленых вод морей. Эти объекты также представлены на представленной береговой линии.	Ардатовский залив, Периуртский залив Тимокский лиман, Евский лиман, 1 Бейсугский лиман.
6.	В акваторию этого объекта вдается великое множество узких продолговатых геоморфологических объектов. Два аналога таковых присутствуют и в Калининградской области. Как называются эти объекты?	Бирюльва коса, Анцутская коса, Белосарайская коса, коса Тугула, коса Чушка, Бердянская коса, Обиточная коса, Ардатовская коса
7.	Как называется самый длинный объект (протяженность составляет 112 км), описанный в пункте 6 и расположенный в юго-западной части изучаемого объекта?	Ардатовская коса 1
8.	Какова средняя глубина этого гидрологического объекта? А максимальная?	1. Средняя глубина: 4,5 м 1 2. Максимальная глубина: 10 м
9.	На дне этого объекта находятся возвышенности, на которых средняя глубина становится еще меньше. Как называются тип этих возвышенности (есть стеклянный аналог тары)?	
10.	С каким более крупным гидрологическим объектом соединяется искомый в южной части?	Черное море 1
11.	Как называется пролив между ними?	Керченский пролив 1
12.	Какой важный инфраструктурный объект построен через этот пролив?	Крымский мост. 1
13.	Назовите как можно больше портов, расположенных на берегах этого водоема.	1. Бердянск 0,5 2. Мариуполь 0,5 3. Евпатория 0,5 4. Керчь 0,5 5. Мариуполь 0,5 6. Севастополь 7. Тузов 8. Темрюк 0,5
14.	Каким материалом сложено большинство пляжей вокруг этого объекта?	Кальки. 0

Максимальное количество баллов – 20.

Максимальное количество баллов за аналитический тур – 80.

Члены жюри (подписи) \_\_\_\_\_

(фактически  
набранное  
количество баллов)

11,5